


Nombre: ..... Fecha: ..... Curso: .....

- 1 Observa las dos fotografías y responde a las preguntas que se realizan a continuación.



- a. ¿Cuál de las dos localidades tiene una densidad de población mayor? .....
- b. ¿Cuál de ellas tiene una población más envejecida? .....
- c. ¿En cuál de las dos crees que hay mayor porcentaje de inmigrantes? .....

- 2 Lee la información sobre una ciudad española y contesta a las preguntas.

Durante este año han nacido 100 personas y han fallecido 320 personas.

¿Cuál es el crecimiento natural de esta localidad? ¿Es positivo o negativo?

---

Explica qué es la natalidad y la mortalidad y cómo son en nuestro país.

---



---



---

Nombre: ..... Fecha: ..... Curso: .....

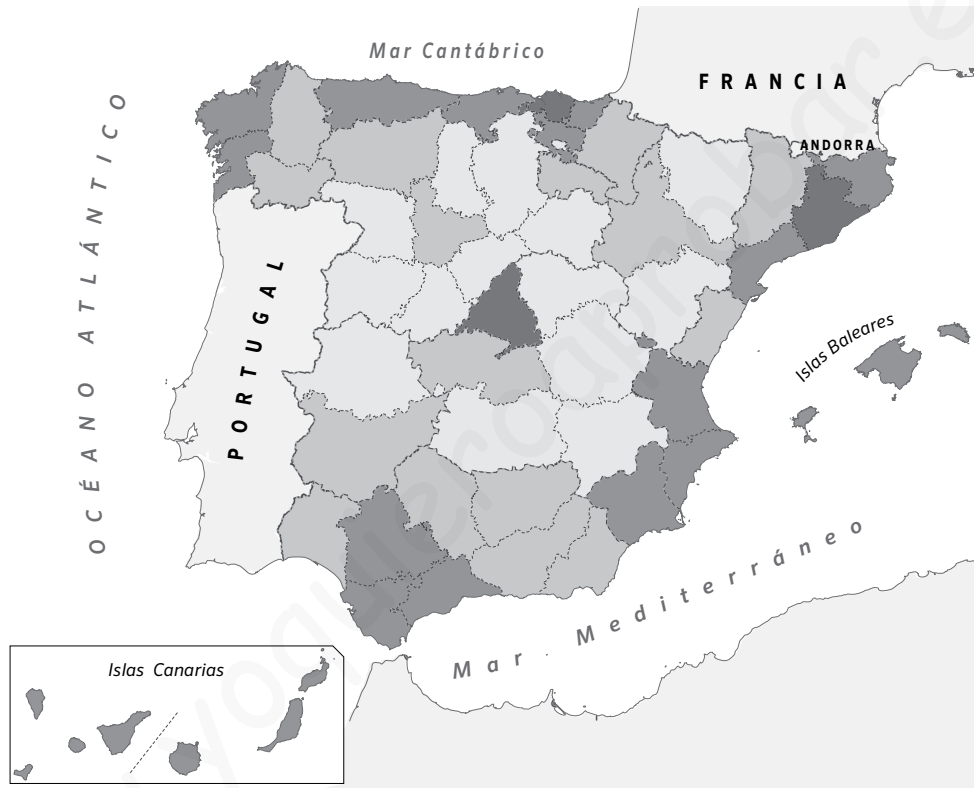
1 Define qué es la densidad de población y escribe la fórmula con la que se calcula.

.....

.....

.....

2 El siguiente mapa nos muestra la densidad de población de las provincias españolas. Obsérvalo y contesta a las preguntas:



a. Cita tres provincias con una alta densidad de población y otras tres con baja densidad.

ALTA DENSIDAD

BAJA DENSIDAD

.....	.....
.....	.....
.....	.....

b. ¿Dónde es más alta la densidad, en el interior o en la costa? ¿Por qué?

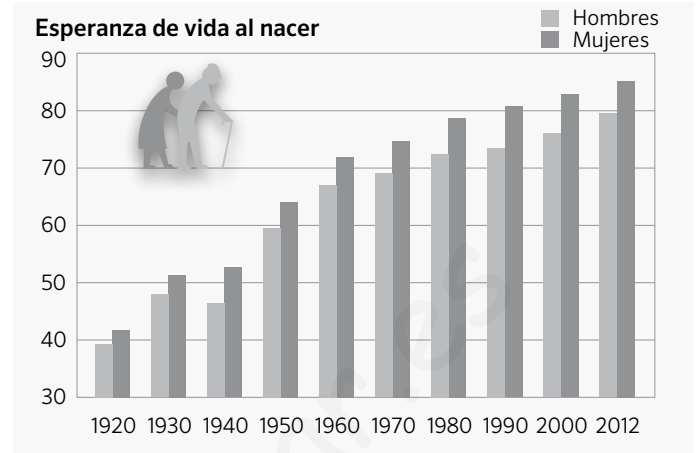
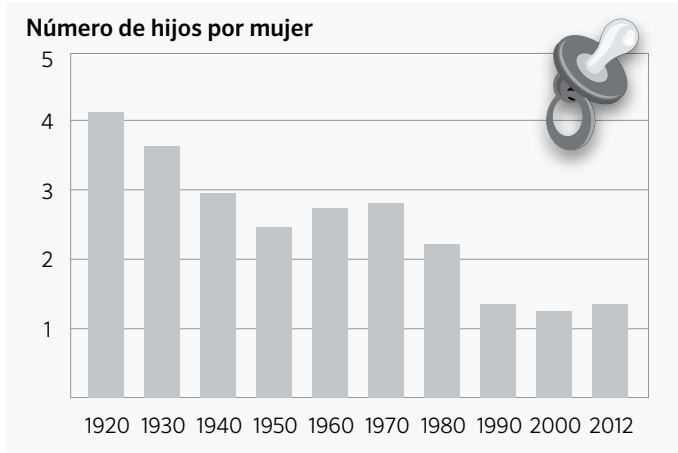
.....

.....

.....

Nombre: ..... Fecha: ..... Curso: .....

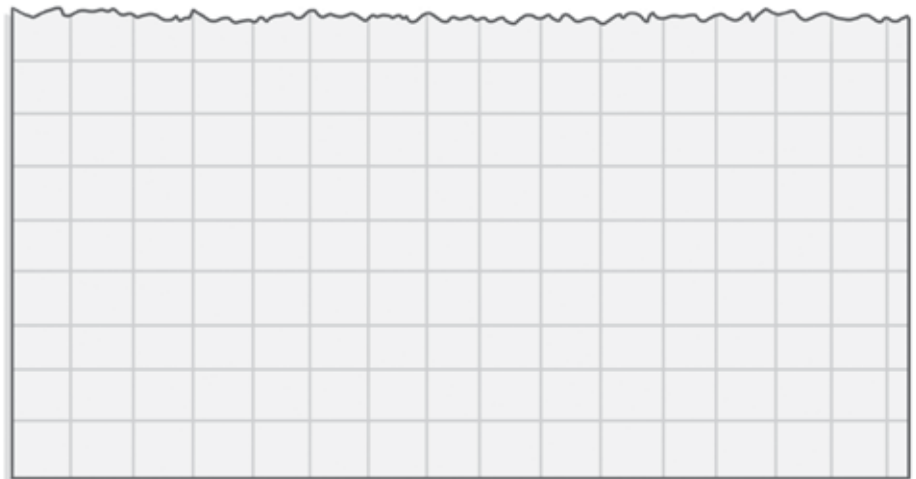
1 Observa los gráficos y contesta a las preguntas que se plantean a continuación.



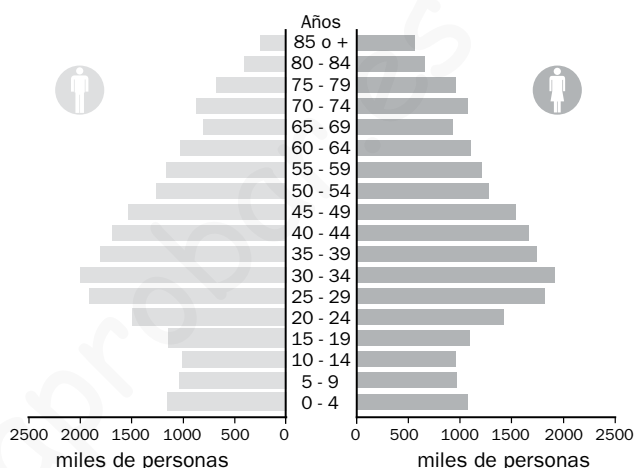
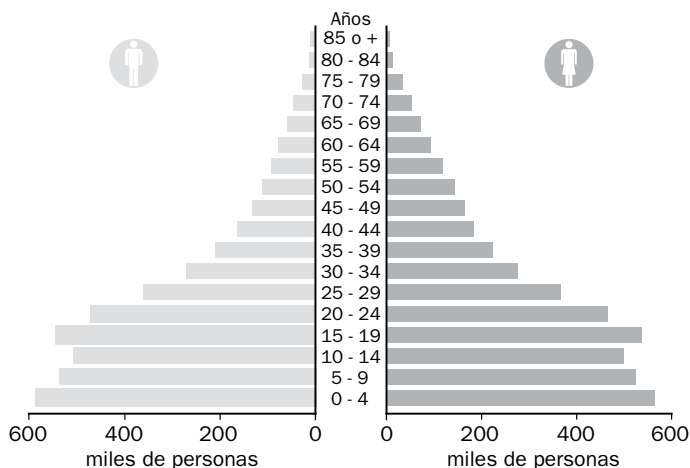
- ¿Qué indica el eje vertical de la primera gráfica? .....
- ¿Qué registra el eje vertical de la segunda gráfica? .....
- ¿Qué aparece reflejado en los ejes horizontales de las dos? .....
- ¿Cuál era el número de hijos por mujer en 1920? ¿Y en 2012? .....
- ¿Cuál era la esperanza de vida al nacer de las mujeres españolas en el año 2012? .....

2 Construye un gráfico con datos acerca de cuántas personas viven en casa de varios de tus compañeros. Para ello sigue los siguientes pasos.

- En una hoja de papel cuadriculado, dibuja un eje vertical y sitúa en él el número de personas (de 1 a 8).
- Dibuja el eje horizontal y pon la inicial de tus compañeros. Puedes elegir a tus 8 compañeros más cercanos.
- Registra los datos que te dé cada uno de ellos mediante barras.
- Después, colorea las barras.
- Por último, indica cuál es el número de personas más habitual entre las familias de tus compañeros.



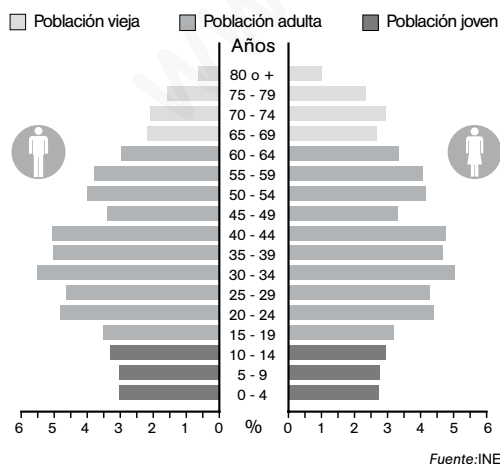
La **pirámide de población** es un tipo de gráfico utilizado para estudiar la población de un lugar, habitualmente un país. En ella se registra la distribución de la población por sexo y edad. **En la mitad izquierda** de la pirámide se representa a los varones y **en la derecha** a las mujeres. **El eje horizontal** señala el número de individuos o personas, y **el vertical** las edades, agrupadas de cinco en cinco años. Dependiendo de la estructura demográfica de un país, la pirámide de población tiene una forma u otra.



Las **pirámides de los países menos desarrollados** concentran mucha población en la base. La mayoría de sus habitantes son jóvenes, ya que nacen muchos niños. La parte superior es estrecha, puesto que la mortalidad es muy elevada.

Las **pirámides de población en los países desarrollados** tiene la base más estrecha, porque nacen menos niños. Además, la parte superior de la pirámide se ensancha, porque aumenta la esperanza de vida al nacer.

1 Observa la siguiente pirámide de población y responde a las preguntas.



a. ¿Te parece una pirámide de población de un país desarrollado o poco desarrollado?

.....

b. En ese lugar, ¿nacen más niños o niñas?

.....

c. ¿Entre qué edades se concentra el mayor número de habitantes?

.....

d. Suma los porcentajes de las barras superiores a 65 años e indica cuál es el tanto por ciento de población anciana.

.....

Nombre \_\_\_\_\_ Fecha \_\_\_\_\_

**REPASA ESTA INFORMACIÓN.**

**Europa** es un continente muy poblado. Viven unos 700 millones de habitantes y su densidad de población es de 70 hab./km<sup>2</sup>. En **España** viven unos 47 millones de habitantes y su densidad es de 93 hab./km<sup>2</sup>.

**1 ¿Qué es la población? ¿Cuántas personas viven en España?**

---

---

**2 Explica por qué emigran las personas.**

---

---

---

---

**3 ¿Dónde se concentra principalmente la población española?**

---

---

**4 Define y explica:**

Mortalidad: \_\_\_\_\_

---

Natalidad: \_\_\_\_\_

---

Esperanza de vida: \_\_\_\_\_

---

Crecimiento natural: \_\_\_\_\_

---

Nombre \_\_\_\_\_ Fecha \_\_\_\_\_

### REPASA ESTA INFORMACIÓN.

El **sector primario** ocupa a 5 de cada 100 europeos y 4 de cada 100 españoles. Las principales actividades de este sector son la agricultura, la ganadería y la pesca.

### 1 Explica qué tipos de ganadería predominan en España y en qué zonas se dan cada una.

---



---



---

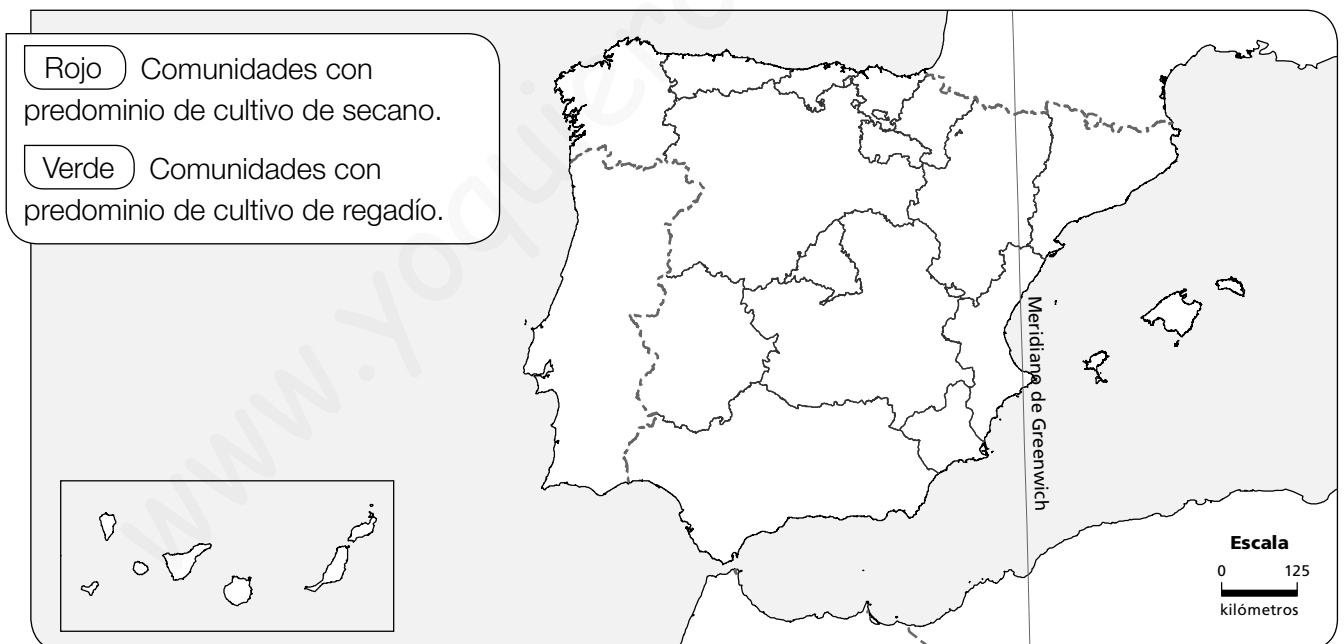


---



---

### 2 Completa el mapa según la leyenda.



### 3 Explica las características de la pesca en nuestro país

---



---



---



---

Nombre \_\_\_\_\_ Fecha \_\_\_\_\_

### REPASA ESTA INFORMACIÓN.

El **sector secundario** ocupa a 27 de cada 100 europeos y a 22 de cada 100 españoles. Este sector agrupa actividades que transforman las materias primas en productos elaborados.

### 1 Relaciona cada fotografía con la opción correcta



Industria de materiales de transporte



Industria metalúrgica



Industria química

### 2 Escribe si son verdaderas (V) o falsas (F) las siguientes afirmaciones. Después, copia correctamente las oraciones falsas.

- El sector secundario agrupa las actividades que producen alimentos.
- Las industrias más importantes españolas son la alimentaria, la metalúrgica, la de material de transporte y la química.
- Una de las principales regiones industriales de España es Extremadura.

Nombre \_\_\_\_\_ Fecha \_\_\_\_\_

**REPASA ESTA INFORMACIÓN.**

El **sector terciario** ocupa a 68 de cada 100 europeos y a 74 de cada 100 españoles. Algunas de las actividades más destacadas de este sector son el comercio, el transporte y el turismo.

**1 Explica cada tipo de comercio y cómo se desarrolla en España.**

Comercio interior: \_\_\_\_\_

---

---

---

Comercio exterior: \_\_\_\_\_

---

---

---

**2 Explica por qué nuestro país cuenta con buenas infraestructuras de transporte.**

---

---

---

---

---

**3 Escribe debajo de cada imagen el tipo de turismo al que corresponde.**



---

---

---

Nombre \_\_\_\_\_ Fecha \_\_\_\_\_

### REPASA ESTA INFORMACIÓN.

La **publicidad** informa sobre los diferentes productos o servicios que ofrecen las empresas o instituciones. Para ello, emplean **diferentes técnicas** y se difunden por diversos **medios de comunicación**.

### 1 Observa el siguiente anuncio publicitario y escribe los elementos que intervienen en él.

- Emisor: \_\_\_\_\_  
\_\_\_\_\_
- Destinatario: \_\_\_\_\_  
\_\_\_\_\_
- Mensaje: \_\_\_\_\_  
\_\_\_\_\_  
\_\_\_\_\_
- Medio de difusión: \_\_\_\_\_  
\_\_\_\_\_



### 2 Di si el anuncio de la actividad anterior es publicidad consumista o educativa y por qué.

\_\_\_\_\_  
\_\_\_\_\_  
\_\_\_\_\_

### 3 ¿Qué técnicas publicitarias se han empleado en el anuncio de la actividad anterior?

\_\_\_\_\_  
\_\_\_\_\_  
\_\_\_\_\_

Nombre: ..... Fecha: ..... Curso: .....

- 1 Explica el significado del consumo responsable y responde a las preguntas.

---



---



---

¿Cómo podemos realizar un consumo responsable? Añade ejemplos.

---



---



---

Explica y compara la economía circular con la economía verde.

---



---



---



---

- 2 Completa la tabla con los sectores económicos españoles.

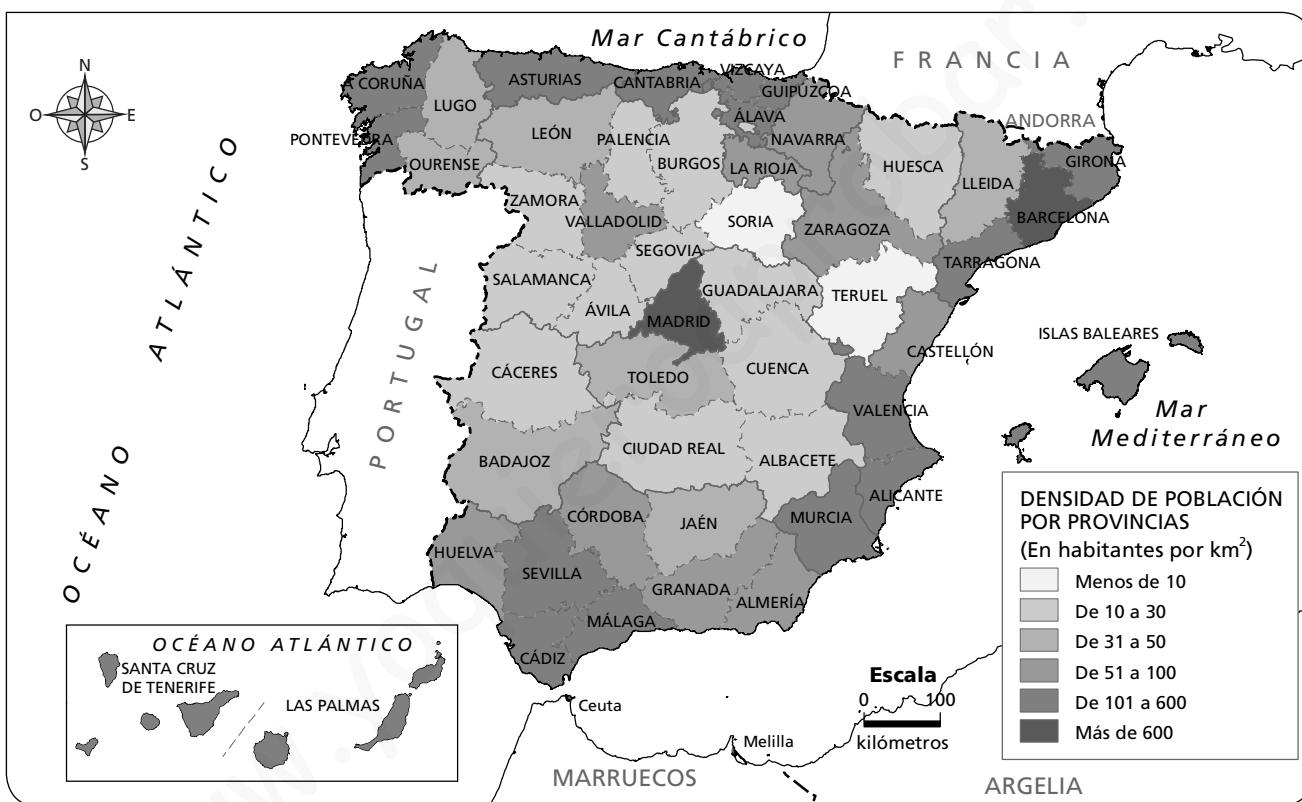
	SECTOR PRIMARIO	SECTOR SECUNDARIO	SECTOR TERCIARIO
PERSONAS OCUPADAS			
ACTIVIDADES PRINCIPALES			

Nombre \_\_\_\_\_ Fecha \_\_\_\_\_

## REPASA ESTA INFORMACIÓN.

La **densidad de población** es la relación que existe entre el número de habitantes de un lugar y la extensión del territorio en el que viven.

## 1 Observa el mapa y responde.



- ¿Cuáles son las dos provincias más densamente pobladas? \_\_\_\_\_
- ¿Y las menos densamente pobladas? \_\_\_\_\_
- Explica qué significa que Soria tiene una densidad de población muy baja.  
 \_\_\_\_\_  
 \_\_\_\_\_
- ¿Cómo es la densidad de los archipiélagos balear y canario? \_\_\_\_\_
- En general, ¿dónde es mayor la densidad de población, en el interior o en la costa?  
 \_\_\_\_\_

Nombre \_\_\_\_\_ Fecha \_\_\_\_\_

**REPASA ESTA INFORMACIÓN.**

Las **migraciones** son el conjunto de desplazamientos que realiza la población. El **saldo migratorio** es la diferencia entre el número de emigrantes y el número de inmigrantes.

**1 Define los siguientes conceptos.**

- Emigración: \_\_\_\_\_  
\_\_\_\_\_
- Inmigración: \_\_\_\_\_  
\_\_\_\_\_
- Éxodo rural: \_\_\_\_\_  
\_\_\_\_\_

**2 Calcula el saldo migratorio de estas provincias de España.**

Provincia	Emigrantes	Inmigrantes	Saldo migratorio
Islas Baleares	9.945	12.015	
Málaga	11.472	16.640	
Las Palmas	5.391	10.305	

- ¿Cómo es el saldo migratorio de estas provincias? \_\_\_\_\_
- ¿Qué quiere decir eso? \_\_\_\_\_  
\_\_\_\_\_

**3 Completa las siguientes oraciones.**

- A principios del siglo \_\_\_\_\_, los españoles emigraron a países de \_\_\_\_\_.
- A partir de la década de \_\_\_\_\_, el principal destino de la emigración española fue \_\_\_\_\_.
- En la actualidad, la \_\_\_\_\_ al extranjero ha vuelto a aumentar.
- A comienzos del siglo \_\_\_\_\_, muchos campesinos se trasladaron a las \_\_\_\_\_.

1 Responde.

- ¿La mortalidad en España actualmente es alta o baja? ¿Por qué? .....
- ¿Cómo es ahora la natalidad en España? ..... ¿Cuáles son las razones? .....
- ¿Qué quiere decir que España tiene un crecimiento natural negativo? .....

2 Une cada palabra con su definición.

**Inmigración**

La salida de personas de un lugar para irse a vivir a otro.

**Emigración**

La llegada de personas a un lugar para residir en él.

3 España ha sido tradicionalmente un país de emigrantes. ¿Qué razones llevaban a los españoles y españolas a emigrar en el pasado? ¿Y en la actualidad?

En el pasado muchas personas emigraron a otros países por .....

En la actualidad, muchos jóvenes emigran para .....

**PARA TERMINAR.** Escribe una redacción en la que expliques la importancia y los beneficios de la inmigración para nuestro país.

1 Completa el esquema.

La densidad de población

Sirve para saber si un .....  
está muy ..... o poco poblado.

Fórmula para calcularla: \_\_\_\_\_

2 Observa las imágenes y explica cuál de ellas muestra mayor densidad de población.

A



B



.....  
.....

3 Responde.

• ¿Cuáles son las zonas más pobladas de España? ¿Y las menos? .....

.....  
.....

• ¿A qué hace referencia la expresión «España vaciada»? .....

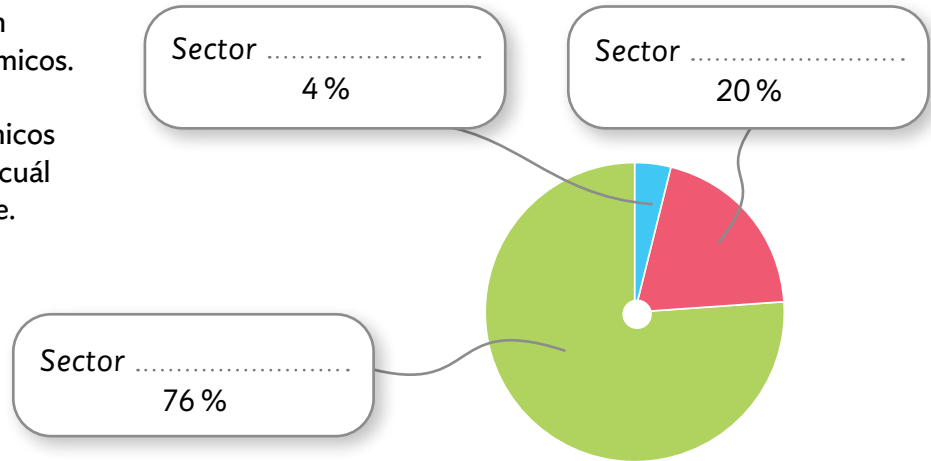
.....

4 Explica dos aspectos con los que cuentan las ciudades sostenibles.

.....  
.....

**PARA TERMINAR.** Colorea en un mapa las provincias de España según su densidad de población, como en el mapa del libro.

1 Los trabajos se agrupan en tres sectores económicos. Completa este gráfico de los sectores económicos en España indicando a cuál corresponde cada parte.



2 Sitúa las actividades económicas del recuadro en el sector que le corresponda.

TURISMO – INDUSTRIA – GANADERÍA – ENERGÍA – PESCA –  
TRANSPORTE – CONSTRUCCIÓN – COMERCIO – AGRICULTURA

LAS ACTIVIDADES ECONÓMICAS		
Sector primario	Sector secundario	Sector terciario

3 Explica la diferencia que hay entre estas parejas de términos.

- Cultivo de secano – cultivo de regadío: .....
- .....
- .....
- Ganadería extensiva – ganadería intensiva: .....
- .....
- .....
- Pesca de bajura – pesca de altura: .....
- .....
- .....

4 Pon tres ejemplos de cada tipo de fuente de energía.

ENERGÍAS RENOVABLES

1. ....

2. ....

3. ....

ENERGÍAS NO RENOVABLES

1. ....

2. ....

3. ....

5 ¿Con qué tipo de comercio relacionas cada imagen? Une.

**COMERCIO MINORISTA**

**COMERCIO EXTERIOR**

**COMERCIO MAYORISTA**



6 ¿Qué infraestructura es necesaria para cada medio de transporte?

Los barcos necesitan

.....

.....

Los aviones necesitan

.....

.....

Los vehículos necesitan

.....

.....

7 Completa esta tabla sobre los agentes económicos.

LOS AGENTES ECONÓMICOS		
Tipos de agentes	Función	Características
Estado		
Empresas		
Personas		

**PARA TERMINAR.** Elabora un esquema con dibujos de distintos tipos de turismo que se pueden dar en España: rural, cultural, gastronómico, de aventura, de sol y playa...

1 Observa la imagen y contesta.

• ¿Qué representa? .....

• ¿Para qué se adoptaron los Objetivos de Desarrollo Sostenible?

.....  
.....




2 Marca las imágenes en las que el impacto de las personas es menor.



3 Dibuja un gráfico sobre la economía circular y explica qué y cómo puede contribuir al desarrollo sostenible.

.....  
.....  
.....  
.....  
.....  
.....



**PARA TERMINAR.** Indica, en grupo, cinco medidas que podríais poner en práctica para reducir la sobreexplotación.

1 Explica en qué consiste el consumo responsable.

.....  
.....

2 Escribe tres acciones en cada caso.

Consumo responsable

.....  
.....  
.....  
.....  
.....

Consumo no responsable

.....  
.....  
.....  
.....  
.....

3 Observa el anuncio y explica a qué elemento de la publicidad corresponde.

ESTE TRAJE TIENE 40 AÑOS.

CONSEJERÍA QUE MANTENGA SU MODA MÁS VIEJO.

.....

.....

.....

.....

.....

.....

• ¿Qué tipo de consumo fomenta? ¿Por qué? .....

.....

.....

**PARA TERMINAR.** Piensa un eslogan para evitar el derroche de alimentos.

Nombre \_\_\_\_\_ Fecha \_\_\_\_\_

## Una institución con muchas cifras

¿Sabes cuántos niños en tu Comunidad y en España tienen tu mismo nombre o tu mismo apellido? ¿Cuántos niños nacieron el mismo año y mes que tú?

Todas estas preguntas y muchas más sobre la población se pueden responder gracias al trabajo que lleva a cabo el Instituto Nacional de Estadística (INE) en colaboración con otras instituciones, como los registros civiles.

Gracias a la labor desempeñada por el INE se puede saber de forma detallada cuántas personas viven en nuestro país, el número de nacimientos y defunciones y el de las personas que llegan y se marchan de nuestro territorio.

Además, el INE utiliza esa información para realizar predicciones sobre cómo será la población de España en un futuro más o menos lejano. Así se puede prever qué grupo de edad será más numeroso, si el saldo natural será positivo o negativo, etc.

Estas predicciones sirven para organizar mejor la sociedad y se utilizan para adelantarse a nuestras necesidades.

El INE lleva a cabo su labor mediante diversos programas informáticos y da a conocer sus resultados en numerosas publicaciones. Entre ellas destaca el Anuario, que es una publicación anual que recoge información sobre población, economía, salud...



### 1 Lee el texto y contesta.

- ¿Qué significan las siglas INE? \_\_\_\_\_
- ¿Qué otras instituciones relacionadas con la demografía colaboran con el INE?  
\_\_\_\_\_
- ¿Qué publicación utilizarías para estudiar la población de España en el último año?  
\_\_\_\_\_
- ¿Para qué se emplea la información que recoge el INE?  
\_\_\_\_\_

### 2 Razona. ¿Para qué puede ser útil realizar predicciones sobre la población?

\_\_\_\_\_

**3** Cuando se estudia la población, ¿qué factores debemos tener en cuenta?

---



---

**4** Responde.

- ¿Qué significa que el saldo migratorio de España en 2011 fue negativo?

---

- ¿Por qué el saldo natural de España es positivo?

---

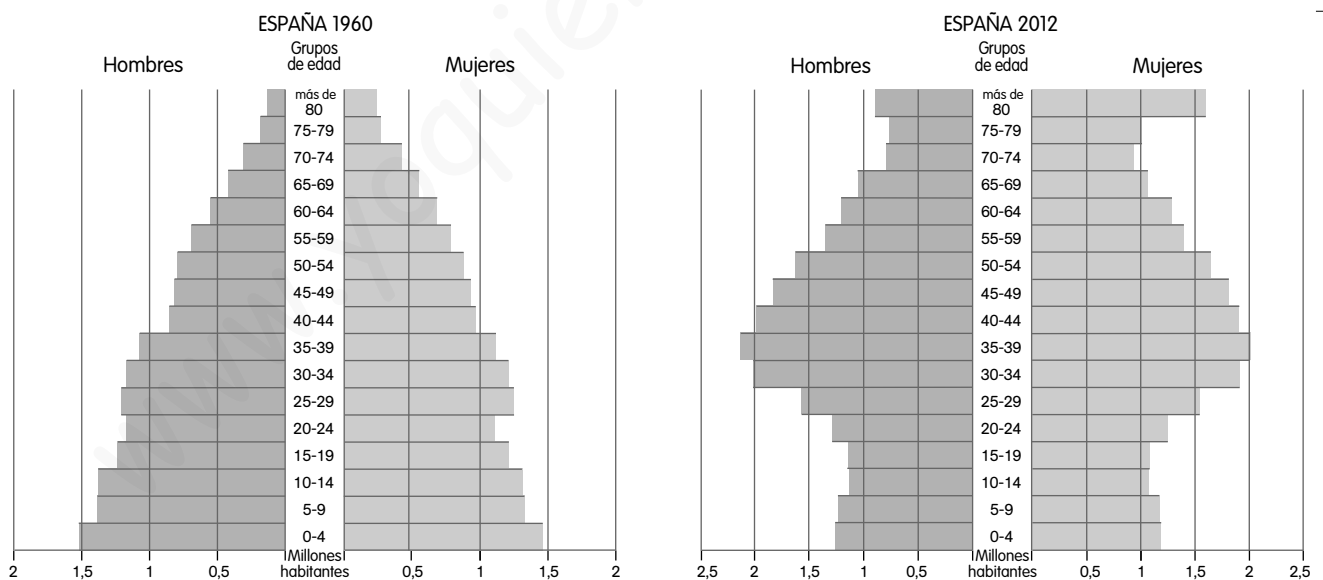
- ¿Qué quiere decir que la población española está envejecida?

---



---

**5** Observa estas pirámides de población y escribe V (verdadero) o F (falso).



**En la pirámide de 1960:**

- Había pocos ancianos y muchos niños.
- La natalidad fue muy baja.
- Los grupos de edad más numerosos eran entre los 50 y los 64 años.

**En la pirámide de 2012:**

- Había muchos niños y muy pocos ancianos.
- La natalidad fue muy baja.
- Los grupos de edad más numerosos eran entre los 30 y los 49 años.

Nombre \_\_\_\_\_ Fecha \_\_\_\_\_

### Soria, un desierto demográfico

En España, existen zonas cuya densidad de población es muy baja y están quedándose despobladas. De ellas, tal vez la que está en una situación más preocupante es la extensa provincia de Soria situada en Castilla y León.

En esta provincia, cada habitante toca a unos 3.000 árboles (frente a los 150 de media estatal), la esperanza de vida es de 84 años, el índice de alfabetización de adultos es de los más altos del país y el índice de calidad de vida se acerca al de Bélgica, el cuarto mejor del planeta.

Sin embargo, junto al norte de Escocia y a Laponia, Soria es una de las zonas menos pobladas de Europa. La densidad de población de Soria es de 8,9 hab./km<sup>2</sup>, en alguna comarca incluso desciende a 1 hab./km<sup>2</sup>,

es decir, es diez veces menor que la de España, que es de 93 hab./km<sup>2</sup>. Además, tiene el mayor envejecimiento demográfico de España (el 25 % tiene 65 y más años frente al 14 % de población menor de 16 años). El tamaño medio de los municipios sorianos es de 517 habitantes, mucho menor que el medio municipal de España, que es de 5.690 habitantes.

Si Soria fue en la Edad Media una importante zona de paso entre Aragón y Castilla, actualmente ha quedado aislada. En 1950 había 160.000 habitantes; hoy quedan cerca de 93.000 habitantes. ¿Se puede hablar de Soria como de un desierto demográfico?



#### 1 Lee el texto y contesta.

- ¿Cuál es la densidad de población de Soria comparada con la de España?

\_\_\_\_\_

- ¿Se puede decir que la población de Soria está envejecida? ¿Por qué?

\_\_\_\_\_

- ¿Qué aspectos positivos presenta la provincia de Soria? \_\_\_\_\_

\_\_\_\_\_

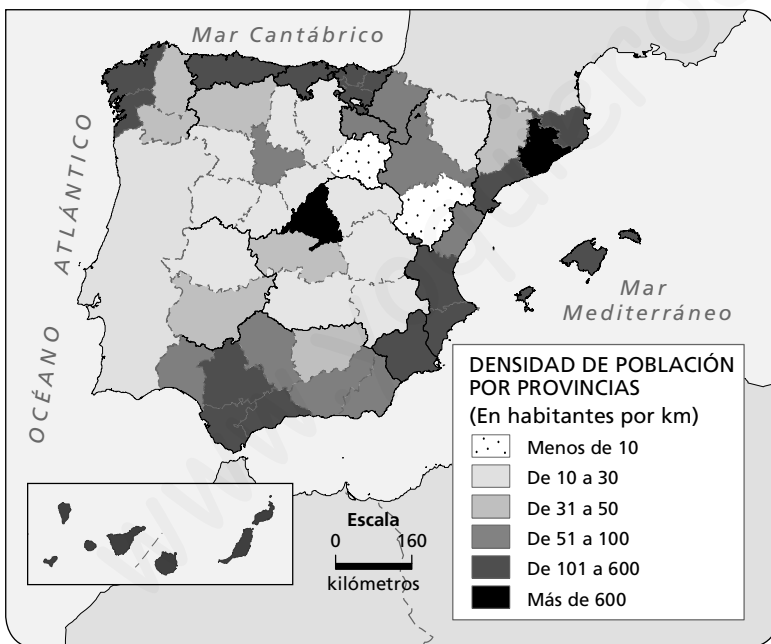
- ¿En cuánto ha descendido la población soriana desde 1950?

\_\_\_\_\_

**2** Define los siguientes conceptos relacionados con la población.

- Densidad de población: \_\_\_\_\_  
 \_\_\_\_\_  
 \_\_\_\_\_
- Envejecimiento demográfico: \_\_\_\_\_  
 \_\_\_\_\_  
 \_\_\_\_\_
- Índice de alfabetización: \_\_\_\_\_  
 \_\_\_\_\_  
 \_\_\_\_\_

**3** Observa el siguiente mapa de densidad de población española y completa la tabla.



Dos provincias menos densamente pobladas
Cuatro provincias con densidades entre 10 y 100 hab./km <sup>2</sup>
Cuatro provincias con densidades entre 101 y 600 hab./km <sup>2</sup>

**4** Calcula la densidad de población de las siguientes provincias.

Provincia	Población	Superficie	Densidad
Teruel	139.390	14.809 km <sup>2</sup>	
Madrid	6.378.297	8.028 km <sup>2</sup>	
Cantabria	587.682	5.326 km <sup>2</sup>	
Sevilla	1.936.908	14.036 km <sup>2</sup>	

Nombre \_\_\_\_\_ Fecha \_\_\_\_\_

### El turismo español

En España el sector servicios ocupa al 74 % de la población. Dentro de este sector se puede destacar el turismo.

El turismo tradicional español ha sido siempre el de sol y playa, es decir, aquel que busca el atractivo de las playas y otras actividades acuáticas. Esto se debe principalmente a que España es uno de los países europeos con mayor litoral costero y a que el clima favorece este tipo de turismo. Así, entre los turistas extranjeros que visitan nuestras playas destacan los de Reino Unido, Francia y Alemania. Las Comunidades más visitadas son Cataluña, Comunidad Valenciana, Andalucía, Baleares y Canarias.



Sin embargo, también hay en España un turismo de interior, que se podría enmarcar en el llamado turismo rural. Este tipo de turismo trata de acercar al viajero a núcleos rurales y le da la oportunidad de conocer cómo se desarrolla la vida en el campo o en una pequeña aldea, y de practicar, además, ciertas actividades y deportes en contacto con la naturaleza (senderismo, rutas en bici, a caballo, o simplemente la contemplación de los paisajes).

Este tipo de turismo ha permitido diversificar las actividades económicas, primordialmente agrícolas, de los entornos rurales. Sin embargo, es un turismo mayoritariamente nacional, un 84 % de españoles realiza estos viajes.

#### 1 Lee el texto y contesta.

- ¿Qué turismo predomina más en España? ¿Por qué? \_\_\_\_\_

\_\_\_\_\_  
\_\_\_\_\_

- ¿De qué países son los turistas que más visitan España? \_\_\_\_\_

\_\_\_\_\_  
\_\_\_\_\_

- ¿Qué caracteriza el turismo rural? \_\_\_\_\_

\_\_\_\_\_  
\_\_\_\_\_

**2** Explica la diferencia entre turismo de sol y playa y turismo rural.

---



---



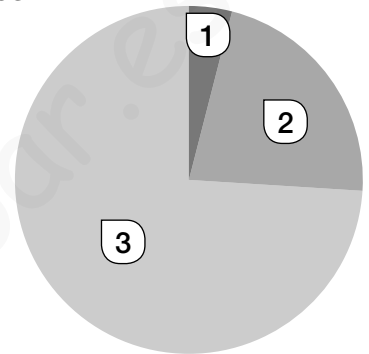
---

**3** Observa el gráfico de la población de España por sectores económicos y completa a cuál de ellos corresponde cada apartado. ¿Qué porcentaje de población trabaja en cada uno? Escríbelo en el gráfico.

1. \_\_\_\_\_

2. \_\_\_\_\_

3. \_\_\_\_\_



**4** El turismo rural diversifica las actividades económicas de los entornos rurales. Escribe en qué Comunidades Autónomas españolas predomina más la agricultura tanto de secano como de regadío.

---



---



---

**5** Observa el siguiente cartel.

- Explica qué tipo de turismo promociona.

---



---



---



---



---



- Imagina que tuvieras que promocionar el turismo de tu Comunidad. Dibuja en una cartulina un cartel e inventa un eslogan para atraer turistas.

Nombre: ..... Fecha: ..... Curso: .....

## 1 Lee el texto y responde las preguntas.

[...] La comunidad internacional aspira a establecer en la reunión de París las bases de una salida cooperativa al formidable desafío del cambio climático. [...]

Hay razones para un moderado optimismo ya que el camino hacia París ha modificado la política climática internacional. Las tres mayores economías del mundo (la Unión Europea, los Estados Unidos y China) han dado un paso al frente. Estados Unidos se ha propuesto reducir sus emisiones un 26-28% en 2025 respecto al año 2005. China se ha fijado el objetivo de disminuir las suyas en cifras absolutas a partir de 2030; y si es posible, antes. La Unión Europea ha adoptado la decisión vinculante de reducir las suyas un 40% en 2030. Entre los tres son responsables del 46% de las emisiones totales, por lo que esas decisiones son sustanciales. Si países como India, Rusia, Indonesia, Brasil y Japón adoptan objetivos significativos de mitigación, se podría salir de la cumbre con una esperanza razonable en la reconducción de la crisis del clima. No en vano esos ocho actores son responsables conjuntamente de las dos terceras partes de las emisiones mundiales.

Antxon Olabe Egaña, 1955: *Homo sapiens y Biosfera* (Fragmento)  
*El País*, 30 de diciembre de 2014

a) ¿Cuál es el tema del que habla el texto?

.....

b) ¿Por qué puede ser una cumbre decisiva?

.....

.....

c) ¿Quiénes son los responsables del 46% de las emisiones totales del mundo?

.....

d) ¿Cuál sería el compromiso de la Unión Europea?

.....

## 2 Haz una lista con cinco medidas individuales que puedes seguir tú como ciudadano para un desarrollo sostenible. Razona tu respuesta.

1. ....

2. ....

3. ....

4. ....

5. ....

- 1 Lee y realiza las actividades.

### La otra amenaza de España: la reducción y el envejecimiento de la población

Si la progresión de la población se mantiene como hasta ahora, España perderá 1.022.852 habitantes en los próximos 15 años y más de 5,6 millones dentro de 50 años, según consta en la proyección de la población de España 2014-2064 elaborada por el Instituto Nacional de Estadística (INE). En concreto, la población en España se reduciría hasta los 45,8 millones en el año 2024 y los 40,9 millones en 2064.

La esperanza de vida al nacer alcanzaría los 84 años en los varones y los 88,7 en las mujeres en 2029. De mantenerse la tendencia actual, en 2064 la esperanza de vida de los hombres superaría los 91 años y la de las mujeres casi alcanzaría los 95.

La reducción de la población se debe, principalmente, al progresivo aumento de las defunciones y a la disminución de los nacimientos, fenómeno que será especialmente acusado a partir de 2040.

De mantenerse la situación demográfica de la actualidad, la pérdida de población se concentraría en el tramo de edad entre 30 y 49 años, que se reduciría en 1,1 millones de personas en los próximos 15 años y en 6,8 millones menos en los próximos 50 años.

Además, el descenso de la natalidad provocaría que en 2029 hubiera unos 1.576.000 niños menores de 10 años menos que en la actualidad (un 32,8%) y 2,3 millones menos en 50 años (un 48,9% inferior). Por el contrario, todos los grupos de edad a partir de los 70 años experimentarían un crecimiento.

*El Economista*, 28 de octubre de 2014

- a) Marca con una cruz cuál crees que es el tema de la noticia.

España envejece y pierde población

España será más joven en 2064

Habrá más jubilados en 2024

- b) Indica a qué fuente de información se refiere la noticia.

.....  
 .....

- c) ¿Qué consecuencias puede tener que haya cada vez más ancianos y que cada vez sea menor el número de niños, jóvenes y adultos?

.....  
 .....  
 .....

Nombre: ..... Fecha: ..... Curso: .....

- 1 Lee el texto y responde las preguntas.

### España registra un nuevo récord de turistas extranjeros hasta febrero

España recibió 6,5 millones de turistas extranjeros hasta febrero, cifra que marca un nuevo récord histórico y que supone un aumento del 4,5% con respecto al mismo mes en 2014, según la Encuesta de Movimientos Turísticos en Frontera (Frontur), difundida este lunes por el Ministerio de Industria, Energía y Turismo.

De enero a febrero, Reino Unido, el principal mercado emisor de turistas hacia España, registró un repunte del 2,7%, hasta 1,2 millones de visitantes. Le siguió Francia, que experimentó un crecimiento del 2,1%, hasta superar el millón de visitantes. Alemania, ocupó la tercera posición por emisión de viajeros. Del resto de mercados, Italia elevó un 20,4% el número de turistas que visitaron España.

El uso de la vivienda alquilada sigue creciendo entre los turistas extranjeros, al registrar un repunte del 24,5 % hasta febrero [...] No obstante, 4,1 millones de turistas extranjeros (el 64,1 %) se decantó por alojarse en un hotel durante su estancia en España...

Según vía de acceso, aumentó tanto el número de turistas que llegaron a España en avión, opción que eligió el 82,5 % de viajeros, como por carretera, con una subida del 4,3 %.

*El Mundo*, 23 de febrero de 2015

- a) ¿Cuál es el tema del que habla el texto?

.....

- b) ¿Cuántos turistas llegaron hasta febrero de 2015?

.....

- c) ¿De qué zona del mundo son principalmente los turistas que llegan a España?

.....

- d) ¿En qué transporte llegan mayoritariamente los turistas a España?

.....

- e) ¿Cuál es la opción de alojamiento preferida de estos turistas?

.....

- 2 Ordena los países de mayor a menor en función de la cantidad de turistas que llegan a España.

1.º ..... 4.º .....

2.º ..... 3.º .....