

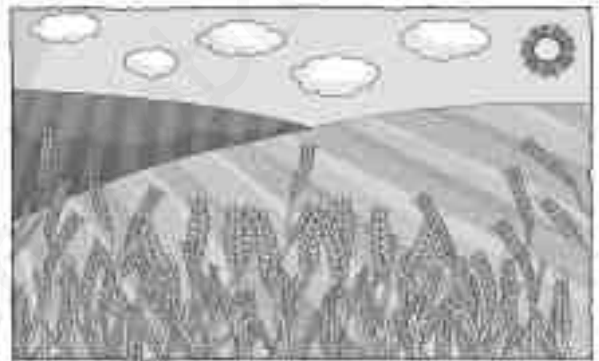
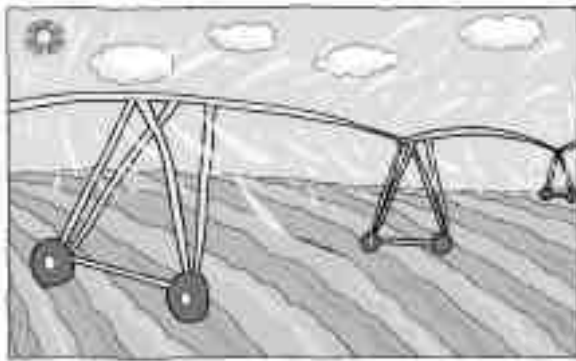
Nombre \_\_\_\_\_ Fecha \_\_\_\_\_

**Recuerda**

La **agricultura** es el trabajo de la tierra para obtener alimentos y otros productos. La agricultura puede ser de **secano** o de **regadío**.

- Los cultivos de **secano** son los que crecen solo con el agua de lluvia.
- Los cultivos de **regadío** son los que necesitan abundante agua para crecer y se riegan con agua de acequias y canales.

1. Escribe debajo de cada dibujo *secano* o *regadío* según corresponda.



\_\_\_\_\_

\_\_\_\_\_

2. Completa el esquema con las siguientes palabras.

regadío

la que no se riega

la que se riega

La agricultura

puede ser de...

secano

que es...

que es...

\_\_\_\_\_

\_\_\_\_\_


Nombre \_\_\_\_\_ Fecha \_\_\_\_\_


**REPASA ESTA INFORMACIÓN.**


La **agricultura** es la actividad que consiste en el cultivo de la tierra para obtener productos vegetales. Los cultivos pueden ser de **secano** o de **regadío**.

**1** Completa el esquema con las tareas que hace el agricultor. Después, ordena los dibujos del 1 al 3. Por último, escribe cada tarea debajo del dibujo correspondiente.

Tareas del agricultor







---

**2** Explica la diferencia entre los cultivos de secano y de regadío.

---



---



---

**3** ¿Qué son los cultivos industriales? Pon un ejemplo.

---



---

Nombre \_\_\_\_\_ Fecha \_\_\_\_\_

**REPASA ESTA INFORMACIÓN.**

La ganadería es la cría y cuidado de animales domésticos para obtener productos.

Puede ser extensiva, cuando viven en espacios grandes, o intensiva, cuando viven en granjas.

Hay varios tipos de ganado: bovino, ovino, porcino, caprino y avícola.

**1 Une correctamente y escribe las oraciones que se forman.**

En la ganadería extensiva...

... los animales viven en espacios grandes...

... y se alimentan de pienso.

En la ganadería intensiva...

... los animales viven en granjas o establos...

... y consiguen su alimento de la naturaleza.

• \_\_\_\_\_  
\_\_\_\_\_  
\_\_\_\_\_

• \_\_\_\_\_  
\_\_\_\_\_  
\_\_\_\_\_

**2 Escribe debajo de cada dibujo qué tipo de ganado es.**



\_\_\_\_\_

# La ganadería y la pesca

Nombre \_\_\_\_\_ Fecha \_\_\_\_\_

**Recuerda**

- La **ganadería** es la cría de animales para obtener alimentos y otros productos. Puede ser **intensiva** o **extensiva**.
- Hay diferentes tipos de ganado, por ejemplo: **vacuno**, **ovino** o **porcino**.
- La **pesca** es la captura de peces y mariscos en los ríos y en el mar. La pesca marítima puede ser de **altura** o de **bajura**.

**1. Tacha la palabra incorrecta en cada caso.**

- |  |             |             |
|--|-------------|-------------|
| • Captura de peces y mariscos en los ríos o en el mar.       | ▶ pesca     | ganadería   |
| • Tipo de ganado formado por ovejas.                         | ▶ vacuno    | ovino       |
| • Cría de animales para obtener alimentos y otros productos. | ▶ ganadería | agricultura |
| • Tipo de pesca que se realiza en alta mar.                  | ▶ altura    | bajura      |
| • Tipo de ganadería que se realiza en granjas o establos.    | ▶ extensiva | intensiva   |

**2. Observa los dibujos. Después, responde.**



- ¿Qué dos tipos de pesca marítima existen? \_\_\_\_\_  
\_\_\_\_\_
- ¿En qué se diferencian? \_\_\_\_\_  
\_\_\_\_\_  
\_\_\_\_\_
- ¿Con cuál crees que se capturan más peces? ¿Por qué? \_\_\_\_\_  
\_\_\_\_\_  
\_\_\_\_\_

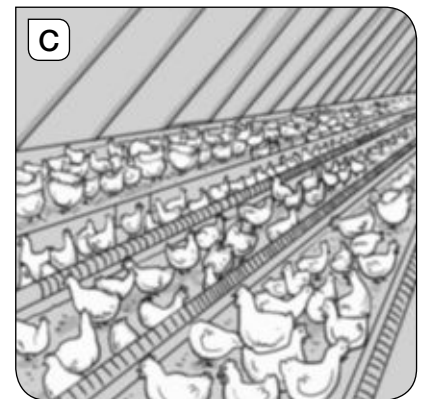
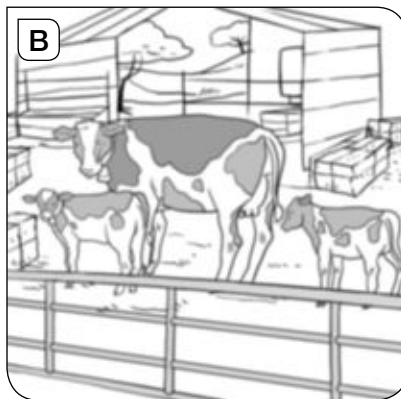

Nombre \_\_\_\_\_ Fecha \_\_\_\_\_

### REPASA ESTA INFORMACIÓN.

La **ganadería** es la cría de animales para obtener alimentos y otros productos. Puede ser **intensiva** o **extensiva**.

La **pesca** es la captura de peces y otros animales acuáticos en el mar, en los ríos y en los lagos. La pesca marítima puede ser de **altura** o de **bajura**.

### 1 Escribe el tipo de ganado que representa cada dibujo.



\_\_\_\_\_

\_\_\_\_\_

\_\_\_\_\_

### 2 ¿Cuál de las ilustraciones representa la ganadería extensiva? ¿Por qué lo sabes?

El dibujo \_\_\_\_\_ representa la ganadería extensiva, porque \_\_\_\_\_

\_\_\_\_\_

### 3 Relaciona las oraciones.

La pesca fluvial...

se realiza en alta mar con grandes barcos.

La pesca de altura...

consiste en el cultivo de plantas y animales acuáticos.

La pesca de bajura...

se practica cerca de la costa con pequeños barcos.

La acuicultura...


se practica en ríos.

Nombre \_\_\_\_\_ Fecha \_\_\_\_\_

**Recuerda**

- La **industria** transforma las **materias primas** en **productos elaborados**.
- Según las materias primas que utilizan y los productos que fabrican las industrias pueden ser **básicas, de consumo o tecnológicas**.

**1. Relaciona cada materia prima con su producto elaborado.**



**2. Ordena este proceso industrial con 1, 2, 3 y 4.**



**3. Tacha el producto elaborado que no corresponde en cada caso.**

- |                          |   |           |             |           |
|--------------------------|---|-----------|-------------|-----------|
| • Industria básica.      | ▶ | cemento   | plástico    | medicinas |
| • Industria de consumo.  | ▶ | conservas | vidrio      | zapatos   |
| • Industria tecnológica. | ▶ | corbatas  | ordenadores | teléfonos |

Nombre \_\_\_\_\_ Fecha \_\_\_\_\_

**REPASA ESTA INFORMACIÓN.**

Según los productos que se obtengan, las industrias se clasifican en **industrias de base** e **industrias de consumo**.

**1 Completa las oraciones.**

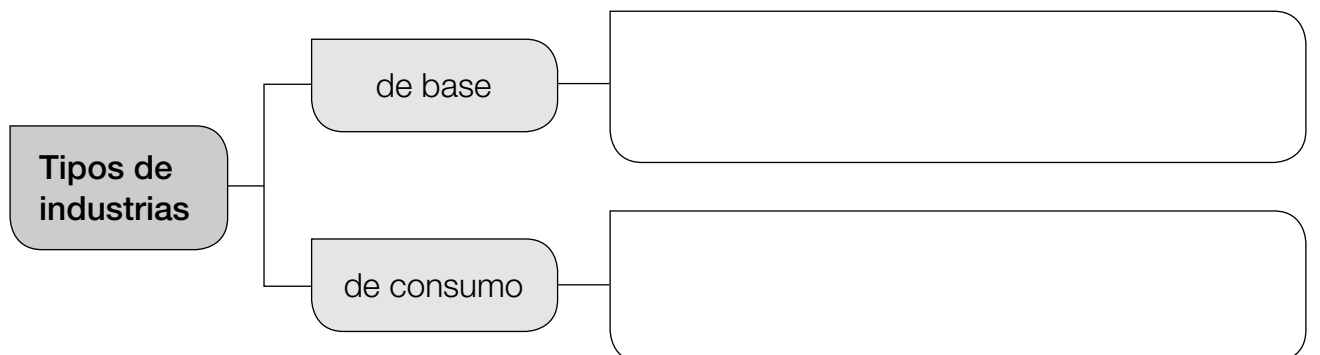
- Las industrias que fabrican productos que sirven de materias primas a otras industrias se llaman industrias de \_\_\_\_\_
- Las industrias que fabrican productos que se venden directamente a los consumidores se llaman industrias de \_\_\_\_\_

**2 Escribe cada producto industrial en la columna correspondiente.**




plástico – moto – acero – lata de sardinas – cemento – tableta digital

Industrias de base	Industrias de consumo

**3 Escribe tres ejemplos de industrias de base y otros tres de industrias de consumo.**



1 Indica el nombre de las siguientes actividades.



.....

2 Sitúa en la celda correspondiente las siguientes actividades, dependiendo de si pertenecen al sector primario o secundario.

SECTOR PRIMARIO	SECTOR SECUNDARIO
.....	.....
.....	.....
.....	.....
.....	.....

AGRICULTURA GANADERÍA INDUSTRIA MINERÍA ARTESANÍA PESCA

3 Señala si las siguientes afirmaciones son verdaderas (V) o falsas (F).

- La agricultura de regadío se riega solo con la lluvia.
- Los mineros extraen minerales de las minas.
- En los talleres los obreros usan grandes máquinas.
- Las materias primas se transforman en productos elaborados en las fábricas.

Nombre \_\_\_\_\_ Fecha \_\_\_\_\_

**Recuerda**

Los **servicios** son los trabajos dedicados a atender las necesidades de las personas. Según quien ofrece los servicios, estos pueden ser **públicos** o **privados**.

1. Observa los dibujos y rodea las personas que prestan servicios.



2. Tacha la opción incorrecta en cada caso.

Belén es conductora de autobús en el ayuntamiento. Trabaja en **la agricultura/el sector servicios**.

Realiza un servicio **público/privado**, porque es gestionado por **el gobierno de un territorio/una empresa privada**.

El traslado de personas es un servicio de **ocio/transporte**.



3. Completa la tabla con las profesiones del recuadro.

enfermero    músico    electricista    actor    ingeniero  
periodista    cirujano    locutor

Tipo de servicio			
Empresarial	Sanitario	De comunicación	Cultural

Nombre \_\_\_\_\_ Fecha \_\_\_\_\_

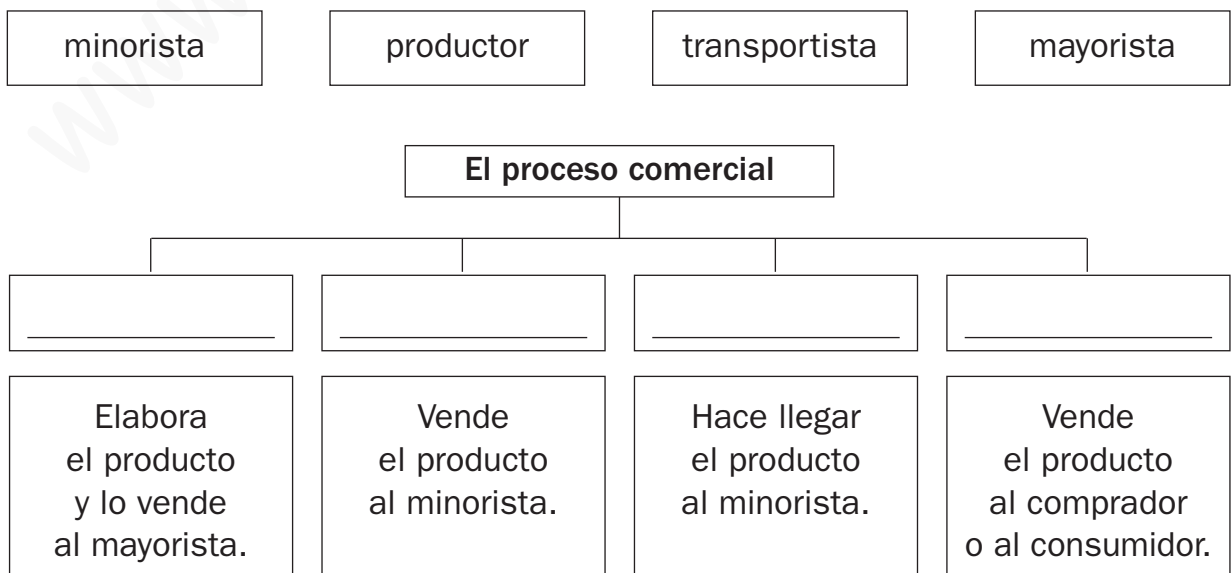
**Recuerda**

- El **comercio** es el intercambio de productos y servicios por dinero.
- En la actividad comercial intervienen los **productores**, los **comerciantes** y los **consumidores**.
- El comercio puede ser **al por mayor** o **al por menor**.

**1. Responde.**

- ¿En qué consiste el comercio? \_\_\_\_\_  
 \_\_\_\_\_  
 \_\_\_\_\_
- ¿Qué personas intervienen en el proceso comercial? \_\_\_\_\_  
 \_\_\_\_\_
- ¿Qué tipos de comercio hay? \_\_\_\_\_  
 \_\_\_\_\_
- ¿Qué formas de pago existen? \_\_\_\_\_  
 \_\_\_\_\_

**2. Completa el esquema del proceso comercial con las palabras de los recuadros.**



Nombre \_\_\_\_\_ Fecha \_\_\_\_\_

**REPASA ESTA INFORMACIÓN.**

El **trabajo** es cualquier actividad por la que se obtiene un sueldo. Según el trabajo, las personas pueden ser **activas** o **inactivas**. Los trabajos se pueden clasificar en tres sectores: **primario**, **secundario** y **terciario**.

**1** ¿Quiénes forman el grupo de la población activa? ¿Y el de la inactiva?

---

---

---

**2** Escribe (A) para población activa o (I) para población inactiva donde corresponda.

- |                                     |                                      |                                     |
|-------------------------------------|--------------------------------------|-------------------------------------|
| <input type="checkbox"/> parado     | <input type="checkbox"/> informático | <input type="checkbox"/> jubilado   |
| <input type="checkbox"/> agricultor | <input type="checkbox"/> economista  | <input type="checkbox"/> estudiante |

**3** ¿Qué es una empresa? ¿Cómo se clasifican según su tamaño?

---

---

---

**4** Escribe a qué sector económico (primario, secundario o terciario) corresponde cada imagen.



---



---



---

Nombre \_\_\_\_\_ Fecha \_\_\_\_\_

**REPASA ESTA INFORMACIÓN.**

El **sector secundario** agrupa todas las actividades que transforman las **materias primas** en **productos elaborados**.

**1** Escribe los productos que aparecen en la imagen según corresponda.



• Materias primas: \_\_\_\_\_

\_\_\_\_\_

\_\_\_\_\_

• Productos elaborados: \_\_\_\_\_

\_\_\_\_\_

\_\_\_\_\_

**2** Escribe si son verdaderas (V) o falsas (F) las siguientes oraciones. Después, copia correctamente las oraciones falsas.

La industria es el conjunto de actividades que se realizan para obtener materias primas.

Los trabajadores de la construcción hacen edificios y obras públicas.

Los artesanos trabajan en grandes talleres con máquinas que funcionan con energía.

\_\_\_\_\_

\_\_\_\_\_

\_\_\_\_\_

**3** Completa la tabla.

	Trabajos industriales	Trabajos artesanales
Lugar dónde se realizan		
Ejemplos de productos		

Nombre \_\_\_\_\_ Fecha \_\_\_\_\_

**REPASA ESTA INFORMACIÓN.**

El **sector terciario** agrupa todos los trabajos que prestan **servicios**. Estos son muy variados y se pueden clasificar en servicios **comerciales** y de **distribución**, servicios a **empresas**, servicios **sociales** y servicios **turísticos, culturales y de ocio**.

**1** Observa las imágenes y marca las que representan una actividad del sector terciario.



**2** Observa el dibujo. Escribe qué establecimientos ofrecen un servicio y a qué tipo de servicios corresponden.



• Establecimientos:

\_\_\_\_\_

\_\_\_\_\_

\_\_\_\_\_

• Tipos de servicios:

\_\_\_\_\_

\_\_\_\_\_

\_\_\_\_\_

Nombre \_\_\_\_\_ Fecha \_\_\_\_\_

**REPASA ESTA INFORMACIÓN.**


El **transporte** es el servicio que permite trasladar personas y mercancías de un lugar a otro. El **comercio** es el intercambio de productos y servicios por dinero. El **turismo** es el desplazamiento de las personas en busca de ocio o descanso.

**1** Escribe qué infraestructuras emplea cada uno de los siguientes transportes.

Transporte	Infraestructura
Avión	
Barco	
Coche	
Tren	

**2** Observa el dibujo y escribe los números de estas palabras donde corresponda.

1. consumidor
2. vendedor
3. producto
4. forma de pago



**3** ¿A qué tipo de turismo corresponde la fotografía? Explícalo.




---



---



---



---

Nombre \_\_\_\_\_ Fecha \_\_\_\_\_

**1. Relaciona.**

La agricultura...

... es el trabajo de la tierra para obtener alimentos y otros productos.

Los cultivos de regadío...

... son los que crecen con el agua de la lluvia.

Los cultivos de secano...

... son los que se riegan con el agua de acequias y canales.

**2. Ordena las labores que realiza un agricultor.**

- Sembrar las semillas.
- Recolectar los frutos.

- Arar la tierra.
- Abonar el suelo.

**3. Escribe un nombre de animal en cada caso.**

ganado ovino	
ganado vacuno	
ganado porcino	

**4. Completa.**

- En la ganadería intensiva o \_\_\_\_\_ los animales se crían en granjas y establos.
- En la ganadería \_\_\_\_\_ los animales se crían al aire libre.
- La pesca de \_\_\_\_\_ se lleva a cabo cerca de la costa.
- La pesca de \_\_\_\_\_ se realiza en alta mar.

**5. ¿Qué es una piscifactoría? Contesta.**

---



---

6. Explica la diferencia entre *explotaciones a cielo abierto* y *minas subterráneas*.

---

---

7. Contesta.

• ¿Qué son las materias primas? \_\_\_\_\_

---

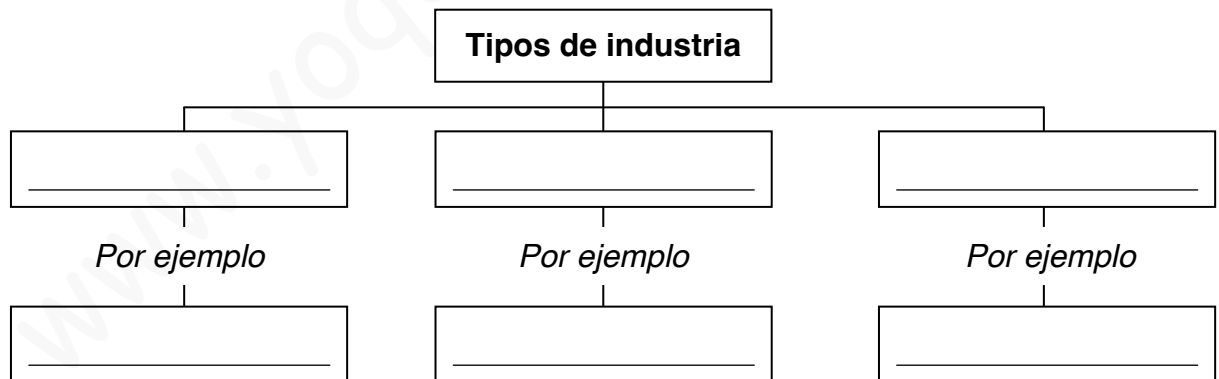
• ¿Qué son los productos elaborados? \_\_\_\_\_

---

8. Observa los dibujos y ordena el proceso de transformación industrial.



9. Completa el esquema.



10. ¿Por qué hay más industrias en las ciudades que en los pueblos?  
Piensa y responde.

---

---

---

Nombre \_\_\_\_\_ Fecha \_\_\_\_\_

**Rodea la opción correcta.****1. El trabajo de la tierra para obtener alimentos y otros productos es la:**

- a. agricultura.                      b. ganadería.                      c. pesca.

**2. Para evitar que los insectos puedan dañar las plantas, los agricultores deben:**

- a. fumigar.                      b. sembrar.                      c. ordeñar.

**3. Los cultivos de secano crecen con:**

- a. el agua de las acequias y canales.  
b. el agua que sale del grifo.  
c. el agua de la lluvia.

**4. Las hortalizas, los frutales, el arroz o el maíz son cultivos de:**

- a. secano.                      b. invierno.                      c. regadío.

**5. El ganado formado por ovejas se llama:**

- a. vacuno.                      b. porcino.                      c. ovino.

**6. Cuando los animales se crían al aire libre y se alimentan de pastos naturales se habla de ganadería:**

- a. intensiva.                      b. extensiva.                      c. estabulada.

**7. La pesca que se practica en alta mar con grandes barcos es de:**

- a. altura.                      b. intensiva.                      c. bajura.

**8. La extracción de piedras y minerales de la naturaleza es la:**

- a. ganadería.  
b. minería.  
c. explotación forestal.

**9. Los productos que se obtienen directamente de la naturaleza son:**

- a. materias primas.  
b. productos elaborados.  
c. trabajos en cadena.

**10. Las industrias pueden ser básicas, de consumo o:**

- a. agrarias.                      b. forestales.                      c. tecnológicas.

Nombre \_\_\_\_\_ Fecha \_\_\_\_\_

1. Explica qué son los servicios.

---

---

2. Rodea el dibujo en el que se está prestando un servicio.



3. Indica quién gestiona los servicios públicos y los servicios privados.

- Los servicios públicos ► \_\_\_\_\_
- Los servicios privados ► \_\_\_\_\_

4. Relaciona.

- bomberos
- policía
- bancos
- hoteles

- servicios públicos
- servicios privados

5. Escribe un ejemplo de cada tipo de servicio.

- servicios sanitarios ► \_\_\_\_\_
- servicios culturales ► \_\_\_\_\_
- servicios empresariales ► \_\_\_\_\_
- servicios de transportes ► \_\_\_\_\_

6. Observa y escribe debajo de cada dibujo *productor, consumidor o comerciante*.



\_\_\_\_\_

7. Define.

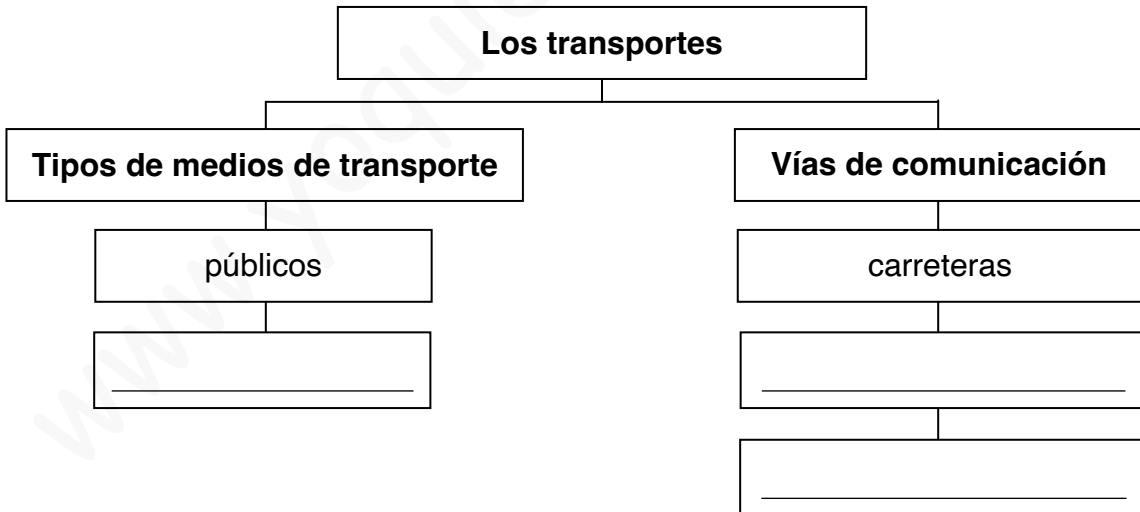
• Comercio al por menor: \_\_\_\_\_  
 \_\_\_\_\_

• Comercio al por mayor: \_\_\_\_\_  
 \_\_\_\_\_

8. Explica qué es el comercio electrónico.

\_\_\_\_\_  
 \_\_\_\_\_

9. Completa el esquema.



10. Escribe dos ejemplos en cada caso.

• Medios de comunicación social: \_\_\_\_\_  
 \_\_\_\_\_

• Medios de comunicación individual: \_\_\_\_\_  
 \_\_\_\_\_

Nombre \_\_\_\_\_ Fecha \_\_\_\_\_

**Rodea la opción correcta.**

**1. El trabajo que no produce objetos materiales sino que atiende a las necesidades de las personas es:**

- a. una industria.
- b. un servicio.
- c. una materia prima.

**2. Los servicios públicos están gestionados por:**

- a. una persona.
- b. varias personas.
- c. el gobierno de un territorio.

**3. Los servicios que se ofrecen en museos, teatros o cines son:**

- a. culturales.
- b. empresariales.
- c. turísticos.

**4. Las personas que producen las mercancías son los:**

- a. consumidores.
- b. comerciantes.
- c. productores.

**5. El comercio puede ser:**

- a. supermercado y tienda.
- b. al por mayor o al por menor.
- c. pequeño o grande.

**6. El comercio electrónico es el que se realiza a través de:**

- a. consumidores.
- b. comerciantes.
- c. Internet.

**7. La actividad que se encarga de trasladar a personas o mercancías de un lugar a otro es:**

- a. el comercio.
- b. la agricultura.
- c. el transporte.

**8. El transporte utilizado únicamente por su propietario es:**

- a. público.
- b. privado.
- c. urbano.

**9. Para intercambiar mensajes e información se utilizan:**

- a. los medios de comunicación.
- b. los medios de transporte.
- c. los medios comerciales.

**10. El correo electrónico es un medio de comunicación:**

- a. social.
- b. individual.
- c. público.

# Los trabajos. El sector primario

Nombre \_\_\_\_\_

Fecha \_\_\_\_\_

## Recuerda

- Los **trabajos** son las actividades que realizan las personas a cambio de dinero.
- El **sector primario** obtiene materias primas y alimentos de la naturaleza.

### 1 Marca las actividades que se consideran trabajos.

recolectar fruta

conducir un autobús

ir al colegio

ayudar en casa

fabricar bicicletas

pasear a tu perro

### 2 Para que podamos comer pan, ¿qué sectores económicos intervienen?

Explica las características de cada sector.




---



---



---




---



---



---




---



---



---

**3** Los voluntarios de las ONG que cuidan de los demás sin recibir nada a cambio, ¿realizan un trabajo? ¿Por qué?

---



---

**4** Completa.

Los trabajos del sector primario obtienen de la \_\_\_\_\_ alimentos para las personas y los animales, y \_\_\_\_\_ para la industria.

**5** Corrige las oraciones para que sean verdaderas.

- Las acequias y los canales se utilizan para regar los cultivos de secano.

---



- El ganado se cría de forma extensiva en las granjas.

---

- La pesca de altura se realiza desde los acantilados.

---

**6** Observa los dibujos y completa.



A. Es ganado \_\_\_\_\_. La forma de cría es \_\_\_\_\_, porque \_\_\_\_\_.

B. Es ganado \_\_\_\_\_. La forma de cría es \_\_\_\_\_, porque \_\_\_\_\_.

# La industria y los servicios

Nombre \_\_\_\_\_

Fecha \_\_\_\_\_

## Recuerda

- El **sector secundario** agrupa los trabajos que transforman las materias primas en productos elaborados.
- Los trabajos del **sector terciario** proporcionan servicios a las personas.

### 1 Clasifica estos trabajos del sector secundario según donde se realicen.

albañil – alfarera – mecánico – canastero – fontanero – soldador

Taller artesanal	Fábrica	Construcción

### 2 ¿Qué es un proceso industrial? Pon un ejemplo.

---



---

### 3 Escribe V si son verdaderas y F si son falsas estas oraciones.

- La industria que fabrica productos de acero es una industria tecnológica.
- La fabricación de teléfonos móviles es una industria básica.
- Los helados son un producto de la industria de consumo.

### 4 Corrige esta oración para que sea verdadera.

El trabajo en cadena de las fábricas lo realizan artesanos.

---

**5** ¿Qué produce el sector secundario?

---



---

**6** Escribe tres trabajos en cada caso.

**Servicios comerciales**

---



---



---

**Servicios sanitarios**

---



---



---

**Servicios de transporte**

---



---



---

**Servicios de ocio y turismo**

---



---



---

**7** ¿Cómo cambian el paisaje las actividades del sector terciario? Cita ejemplos.

---

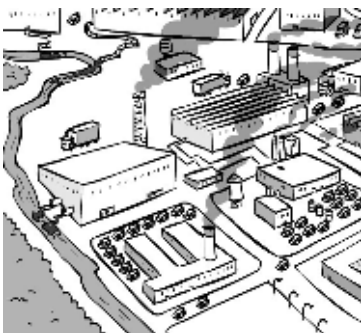


---



---

**8** Algunas actividades industriales pueden provocar problemas al medio ambiente. Di de qué problemas se trata y cómo se pueden evitar.




---



---



---



---

1 Completa esta tabla de la clasificación de los trabajos.

Los tipos de trabajos		
Trabajos en la naturaleza	Trabajos que transforman las materias primas	Trabajos que dan servicios
<ul style="list-style-type: none"> <li>● Obtienen ..... de la naturaleza.</li> <li>● Son agricultura, .....</li> </ul>	<ul style="list-style-type: none"> <li>● Obtienen ..... elaborados.</li> <li>● Se realizan en las ..... y los .....</li> </ul>	<ul style="list-style-type: none"> <li>● Atienden las necesidades de las .....</li> <li>● Algunos son: .....</li> </ul>

2 Escribe qué aspectos se incluyen en un contrato laboral.

.....

.....

3 ¿Cómo obtenemos alimentos del mar? Une con flechas.

**Pesca de bajura**

Se realiza con barcos grandes lejos de la costa.

**Acuicultura**

Se realiza en barcos pequeños cerca de la costa.

**Pesca de altura**

Es el cultivo y la cría de plantas y animales.

1 ¿Qué pasos seguirías para obtener productos cultivados? Ordénalos del 1 al 3. Después, anota debajo de qué tarea se trata.



.....

2 Observa las imágenes y marca a qué corresponde cada una.



Agricultura de regadío

Agricultura de secano

Ganadería intensiva

Ganadería extensiva

3 ¿Qué es el bienestar animal? Explica cómo cuidan los ganaderos y ganaderas a sus animales.

.....

.....

.....

1 Escribe los alimentos de estas estanterías que se han elaborado en fábricas y los que se obtienen de los trabajos del campo.



Alimentos procedentes del campo:

.....

.....

Productos elaborados:

.....

.....

2 Completa estas oraciones.

- Las industrias que elaboran productos que sirven de materias primas a otras fábricas se llaman industrias de .....
- Las industrias que fabrican productos que se venden directamente a los clientes se llaman industrias de .....

3 ¿Qué productos se pueden elaborar con estas materias primas?



.....

.....

.....

.....

.....

.....

1 Anota dos profesionales relacionados con cada uno de estos servicios.

- Culturales: .....
- Protección: .....
- Comercio: .....
- Sanitario: .....

2 ¿Qué elementos intervienen en una compra? Escribe los términos que faltan.



..... es la persona que compra.

..... es la persona que vende.

..... es el objeto o servicio que se vende y se compra.

..... es el medio con el que se paga.

3 Cada medio de transporte utiliza unas infraestructuras. Identifica y completa.



Medios de transporte:

.....

Infraestructuras:

.....



Medios de transporte:

.....

Infraestructuras:

.....



Medios de transporte:

.....

Infraestructuras:

.....