

Nombre: ..... Fecha: ..... Curso: .....

- 1 Rodea de marrón las formas de relieve, de verde la vegetación y de azul las aguas.

Arroyo

Castaño

Océano

Nieve

Río

Mar

Palmera

Embalse

Cerro

Valle

Lago

Montaña

Hierba

Margarita

Pino

- 2 ¿Qué es el paisaje? ¿Cómo podemos proteger ciertos paisajes?

---

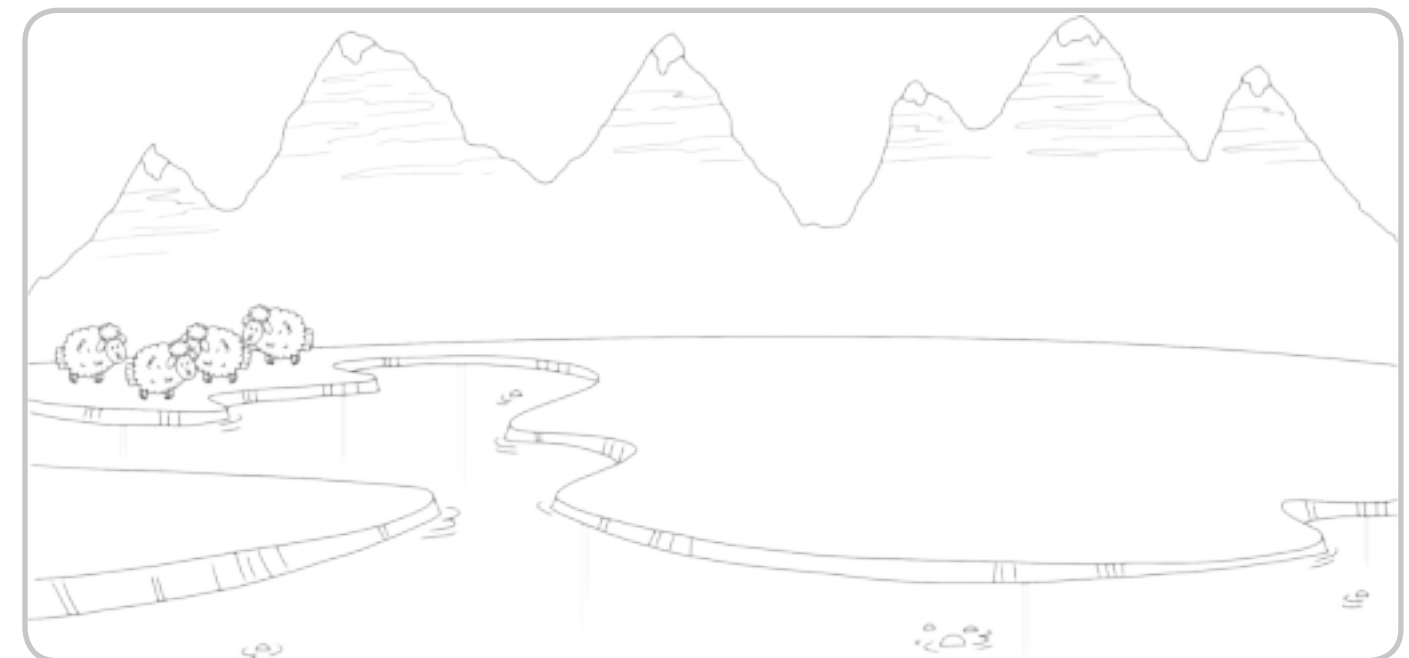


---



---

- 3 Escribe al menos tres elementos naturales que observas en el paisaje. Después, dibuja al menos otros tres elementos construidos por las personas.




Nombre: ..... Fecha: ..... Curso: .....

1 Escribe cómo son habitualmente los ríos y los pueblos en estos paisajes.

grandes      estrechos      pequeños      anchos

	Paisaje de montaña	Paisaje de llanura
Ríos	<input type="text"/>	<input type="text"/>
Pueblos	<input type="text"/>	<input type="text"/>

2 ¿Qué hay en este paisaje de costa? Une las palabras y completa las que faltan.



3 Clasifica estos elementos en los distintos paisajes.

Sierra    Cantera    Península    Depresión    Cerro    Archipiélago

Paisaje de llanura	Paisaje de montaña	Paisaje de costa
<input type="text"/>	<input type="text"/>	<input type="text"/>
<input type="text"/>	<input type="text"/>	<input type="text"/>

Nombre: ..... Fecha: ..... Curso: .....

**1** ¿Qué es el paisaje? Marca.

Un conjunto de campos sin agua.

El terreno que imaginamos.

El terreno que vemos alrededor.


Un conjunto de ríos y lagos.

**2** Colorea este paisaje natural siguiendo el código.

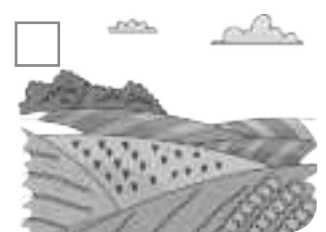
Marrón → relieve

Azul → zonas de agua

Verde → Vegetación



**3** Escribe N en los elementos naturales y C en los contruidos por las personas. Después, escribe sus nombres.



\_\_\_\_\_

\_\_\_\_\_

\_\_\_\_\_

\_\_\_\_\_

**4** ¿Qué son los continentes? ¿Y los océanos? Escribe un ejemplo de cada.

---



---



---

Nombre: ..... Fecha: ..... Curso: .....

1 Une los nombres con cada parte de este paisaje.

Meseta

Lago

Cultivos

Sierra

Pueblo



2 ¿Cómo se llama cada paisaje? Une.

Es la parte más alta del paisaje.

Llanura

Es un terreno plano, sin montañas.

Montaña

3 ¿Qué suele tener cada paisaje? Une.

paisaje de montaña

paisaje de llanura

- sierras
- ciudades
- ríos estrechos
- campos de cultivo
- pueblos pequeños
- ríos anchos

Nombre: ..... Fecha: ..... Curso: .....

1 Tacha el intruso en cada caso.

Relieve

isla colina valle meseta mar cordillera

Zonas de agua

manantial río cascada cultivo lago bahía

Vegetación

musgo setas cerezo rosa roble amapola

2 Explica las diferencias y similitudes entre un paisaje de montaña, de llanura y de costa.

---



---



---



---



---



---



---



---



---



---

3 ¿De qué colores representamos la superficie de la Tierra?

---



---



---

Nombre: ..... Fecha: ..... Curso: .....

1 ¿Qué elementos no tiene un paisaje de montaña? Márcalos.

montañas

golfos

valles

islas

llanuras

acantilados

2 Escribe un elemento natural que sea diferente entre ambos paisajes, y otro construido por el hombre que sea común entre ellos.

Paisaje de montaña	Paisaje de llanura
<input type="text"/>	<input type="text"/>
<input type="text"/>	<input type="text"/>

3 Escribe el nombre de los océanos y los continentes.

---



---



---

4 Dibuja un paisaje que reúna estas tres condiciones.

→ Una sierra.

→ Un pueblo en la ladera de la montaña.

→ Un río que nazca en la cima de la montaña.

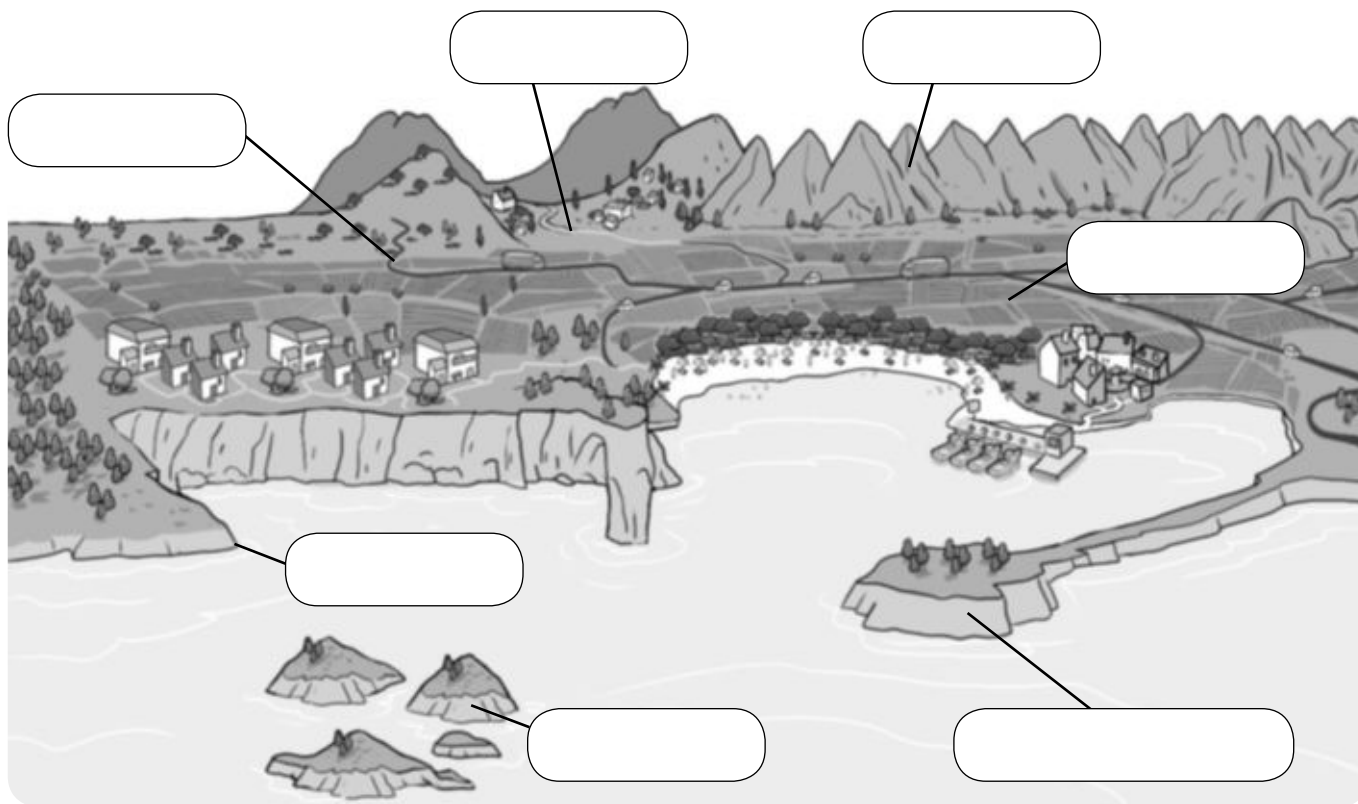
• ¿Qué tipo de paisaje es?

# Evaluación inicial

Nombre \_\_\_\_\_ Fecha \_\_\_\_\_

## 1 Sitúa las palabras en su lugar correspondiente.

valle – llanura – sierra – río – isla – cabo – península



## 2 Define los siguientes términos:

• Valle: \_\_\_\_\_

• Meseta: \_\_\_\_\_

• Montaña: \_\_\_\_\_

• Depresión: \_\_\_\_\_

• Isla: \_\_\_\_\_

• Cabo: \_\_\_\_\_

**3** Observa la foto y marca.



- ¿Qué tipo de paisaje es?
  - De costa
  - De montaña
  - De llanura
- ¿Cómo es el río en esa zona?
  - Ancho
  - Estrecho

**4** Marca verdadero (V) o falso (F) según corresponda. Después, escribe correctamente las frases erróneas.

- En los paisajes de montaña suele haber muchos pueblos grandes.
- En las zonas de llanura hay campos de cultivos junto a los ríos.
- En los paisajes de montaña podemos encontrar playas y valles.
- En los paisajes de costa puede haber islas que forman penínsulas.

---



---



---



---

# 1

## Prueba de control

MODELO A

Nombre \_\_\_\_\_ Fecha \_\_\_\_\_

**1** Explica algunas diferencias entre un paisaje de montaña y otro de costa.

---

---

**2** Identifica cada forma del relieve de costa y defínelas.

Cabo: \_\_\_\_\_

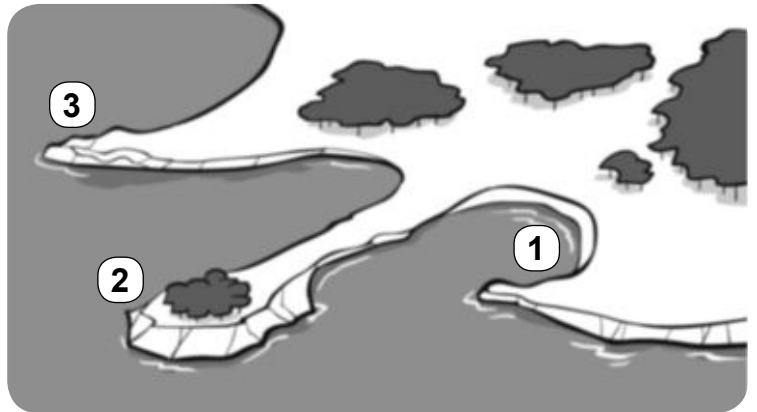
\_\_\_\_\_

Bahía: \_\_\_\_\_

\_\_\_\_\_

Península: \_\_\_\_\_

\_\_\_\_\_



**3** Explica la diferencia entre una sierra y una cordillera.

---

---

---

**4** ¿Un valle forma parte de un paisaje de montaña o de llanura? ¿Por qué?

---

---

**5** ¿Qué trabajos se realizan en las zonas de llanura? Explica las diferencias entre las ciudades y los pueblos.

---


---

---

---

Nombre \_\_\_\_\_ Fecha \_\_\_\_\_

1. Completa con el nombre de las partes de la montaña.



2. ¿Qué es una sierra? Escribe.

---

---

3. ¿Cómo son los paisajes de llanura? Explica.

---

---

4. Observa el dibujo y rodea de azul tres elementos naturales y de rojo tres elementos hechos por las personas.



5. ¿Qué diferencia hay entre un paisaje de costa baja y un paisaje de costa alta? Explica.

---

---

---

**6. Completa el dibujo con las palabras del recuadro.**

- bahía
- acantilado
- península
- isla
- playa



**7. ¿Qué es una península? ¿Y un istmo?**

---

---

**8. Completa.**

- Cuando los cabos son pequeños se llaman \_\_\_\_\_.
- Los golfos más pequeños se llaman \_\_\_\_\_.
- Varias islas cercanas forman un \_\_\_\_\_.
- Las penínsulas se rodean de agua por todas las partes menos por una, que se llama \_\_\_\_\_.

**9. Explica qué son las siguientes formas de relieve de un paisaje de llanura.**

Meseta: \_\_\_\_\_

\_\_\_\_\_

Depresión: \_\_\_\_\_

\_\_\_\_\_

Cerro: \_\_\_\_\_

\_\_\_\_\_

**10. ¿Cómo viven las personas en la costa?**

---

---

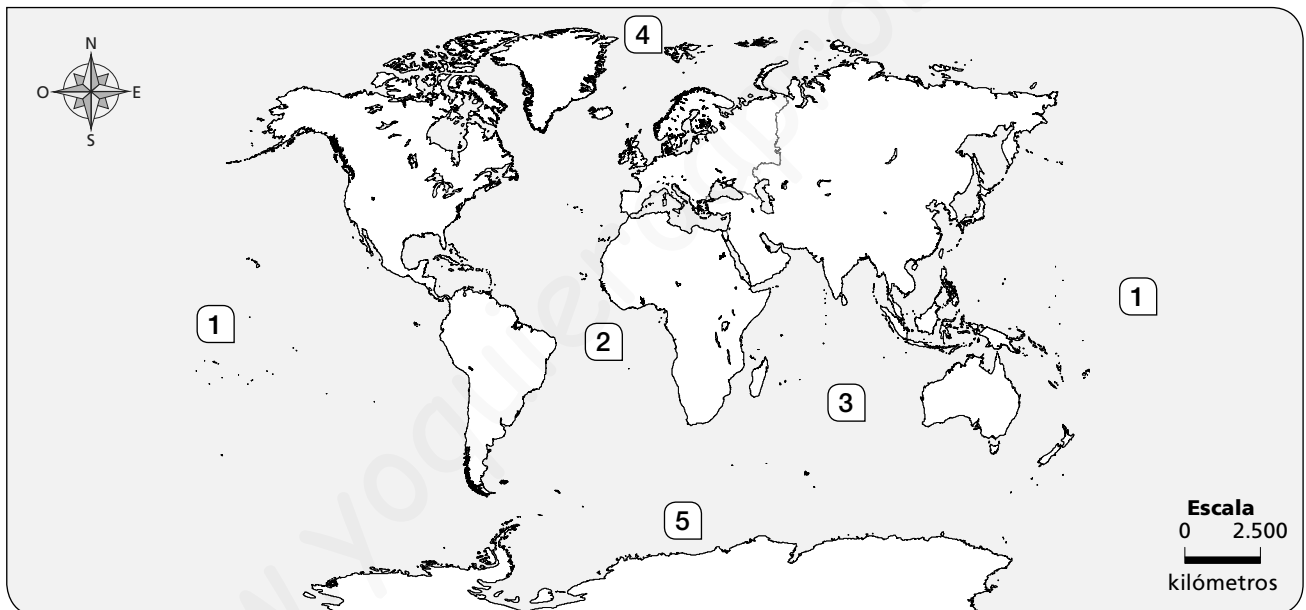
Nombre \_\_\_\_\_ Fecha \_\_\_\_\_

### REPASA ESTA INFORMACIÓN.

La superficie de la Tierra está cubierta por los océanos y los continentes:

- Los **océanos** son grandes masas de agua salada. Son cinco: **Pacífico, Atlántico, Índico, Glacial Ártico** y **Glacial Antártico**.
- Los **continentes** son grandes extensiones de tierra que se levantan por encima de los océanos. Son seis: **Asia, América, África, Europa, Oceanía** y la **Antártida**.

### 1 Escribe el nombre del océano que corresponde a cada número en el mapa.



1. \_\_\_\_\_

4. \_\_\_\_\_

2. \_\_\_\_\_

5. \_\_\_\_\_

3. \_\_\_\_\_

### 2 Colorea los continentes en el mapa anterior siguiendo las indicaciones.

Naranja

África

Verde

América

Morado

Antártida

Amarillo

Asia

Rojo

Europa

Rosa

Oceanía

Nombre \_\_\_\_\_ Fecha \_\_\_\_\_

### REPASA ESTA INFORMACIÓN.


El **relieve de interior** es el conjunto de las distintas formas que puede presentar la superficie terrestre que no está en contacto con el mar. El relieve de interior puede ser **montañoso** o **llano**.

### 1 Explica las diferencias entre los siguientes términos.

- Sierra y cordillera: \_\_\_\_\_  
 \_\_\_\_\_  
 \_\_\_\_\_
- Meseta y depresión: \_\_\_\_\_  
 \_\_\_\_\_  
 \_\_\_\_\_
- Montaña y valle: \_\_\_\_\_  
 \_\_\_\_\_  
 \_\_\_\_\_

### 2 Completa las definiciones con la parte de la montaña a la que se refiere. Escribe, después, cada número donde corresponda en el dibujo.

1. El \_\_\_\_\_ es el punto más bajo de la montaña.
2. La \_\_\_\_\_ es el punto más alto de la montaña.
3. La \_\_\_\_\_ es el terreno inclinado entre el pie y la cima.



Nombre \_\_\_\_\_ Fecha \_\_\_\_\_

### REPASA ESTA INFORMACIÓN.

La **costa** es la orilla del mar. Puede ser **alta** o **baja**. La costa tiene diferentes formas del relieve; estas pueden ser entrantes de tierra en el mar o entrantes de mar en la tierra.

### 1 Define costa baja y costa alta.

---



---




---



---

### 2 Escribe donde corresponda en el dibujo el número de estas formas del relieve.

- |              |                 |          |               |
|--------------|-----------------|----------|---------------|
| 1. cabo      | 3. isla         | 5. golfo | 7. acantilado |
| 2. península | 4. archipiélago | 6. bahía | 8. playa      |



Nombre \_\_\_\_\_ Fecha \_\_\_\_\_

## REPASA ESTA INFORMACIÓN.

El **paisaje** es el aspecto que tiene una amplia extensión de terreno. Los paisajes pueden ser **naturales** o **transformados**.

### 1 Observa el dibujo y escribe en la tabla los elementos naturales y transformados que hay en este paisaje.



Elementos naturales	Elementos transformados

Nombre \_\_\_\_\_ Fecha \_\_\_\_\_

## REPASA ESTA INFORMACIÓN.

Los paisajes pueden ser de **llanura**, de **montaña** o de **costa**. Las llanuras y las costas están más pobladas que las zonas de montaña.

## 1 Di a qué tipo de paisaje corresponde cada dibujo: de llanura, de montaña o de costa.



\_\_\_\_\_

\_\_\_\_\_

\_\_\_\_\_

## 2 Escribe tres características de los paisajes de llanura, montaña y costa.

- En la llanura: \_\_\_\_\_

\_\_\_\_\_

- En la montaña: \_\_\_\_\_

\_\_\_\_\_

- En la costa: \_\_\_\_\_

\_\_\_\_\_

Nombre \_\_\_\_\_ Fecha \_\_\_\_\_

### REPASA ESTA INFORMACIÓN.

Los **pueblos** son localidades pequeñas en las que viven pocas personas. Los habitantes de los pueblos forman la **población rural**.

### 1 Fíjate en este pueblo y marca las opciones correctas en cada caso.



- Las calles son:
  - anchas.  estrechas.
  - largas.  cortas.
- Las viviendas son:
  - altas.  bajas.
- Sus habitantes se dedican a:
  - la agricultura.  la industria.
- Este pueblo está en:
  - la llanura.  la montaña.

### 2 Observa las ilustraciones y escribe *montaña* o *costa* según corresponda. Después, di en qué trabajan sus habitantes en cada caso.



Es un pueblo de \_\_\_\_\_

Sus habitantes trabajan sobre todo en \_\_\_\_\_



Es un pueblo de \_\_\_\_\_

Sus habitantes trabajan sobre todo en \_\_\_\_\_