


Los paisajes

1 Escribe qué tipo de paisaje es y coloréalo según la clave. Escribe también los nombres de los puntos cardinales.




 Sierra
(marrón)

 Valle
(verde)


 Llanura
(amarillo)

2 Escribe qué tipo de paisaje es y anota las palabras donde corresponda.

acantilado playa cabo isla



- 3 Colorea en azul el curso del río y dibuja un punto rojo donde nace y un punto verde donde desemboca. Después, responde.



- ¿Dónde es más estrecho el río y sus aguas van muy rápidas?

En .

- ¿Qué es un afluente? Un río que
.

Recuerdo las ideas principales

- Los paisajes de están situados lejos del mar. Pueden ser de o de .
- Los paisajes de están bañados por el mar.
- Los son dibujos que muestran elementos de los .

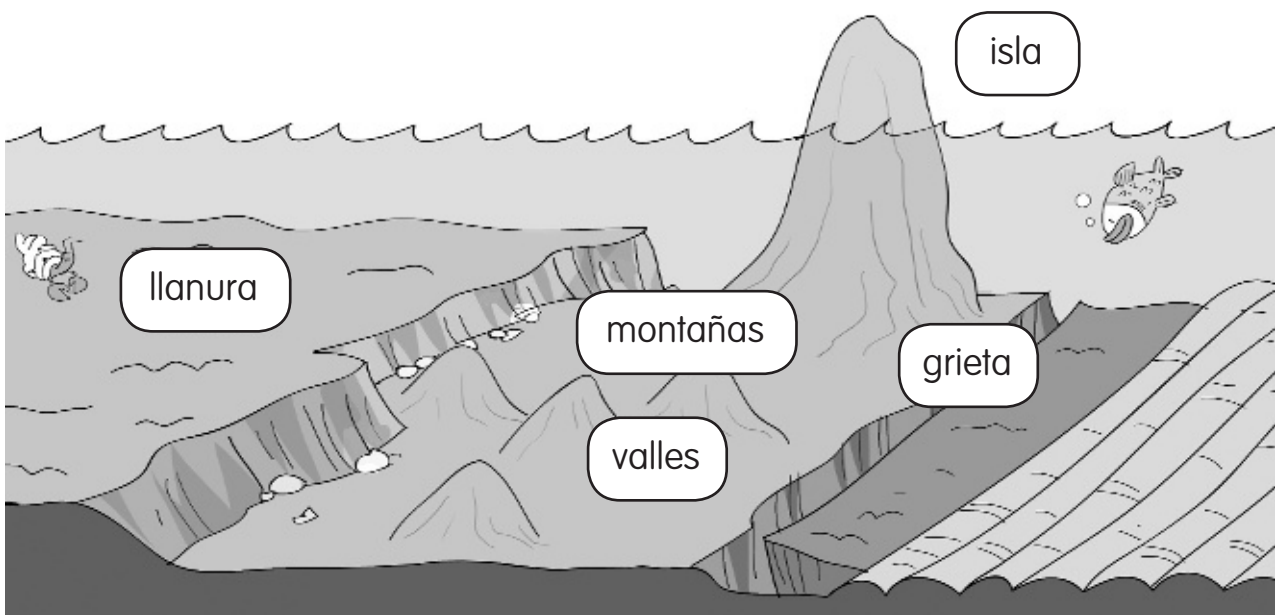

Los paisajes

El paisaje del fondo marino

Antiguamente se pensaba que el fondo del mar era plano. Pero hace algo más de 150 años, unos científicos descubrieron que no lo era. Desde un barco midieron la profundidad del océano Atlántico. Estos científicos vieron que en unos lugares del océano la distancia al fondo era mucho mayor que en otros.

Desde entonces, muchos científicos han estudiado el fondo de los océanos utilizando máquinas modernas. Y han descubierto que el paisaje submarino se parece mucho al de la tierra firme.

A mucha profundidad, donde el fondo del mar es muy oscuro porque no llega la luz del Sol, hay enormes **llanuras**. También hay **grietas** muy profundas. Y muchas **montañas**, con **valles** entre ellas. Algunas montañas son tan altas que sus cimas salen fuera del agua y forman islas.




1 Elige la palabra correcta para completar las oraciones.

encima debajo hondo estrecho

• «Submarino» significa que está de la superficie.

• «Profundo» significa que está .

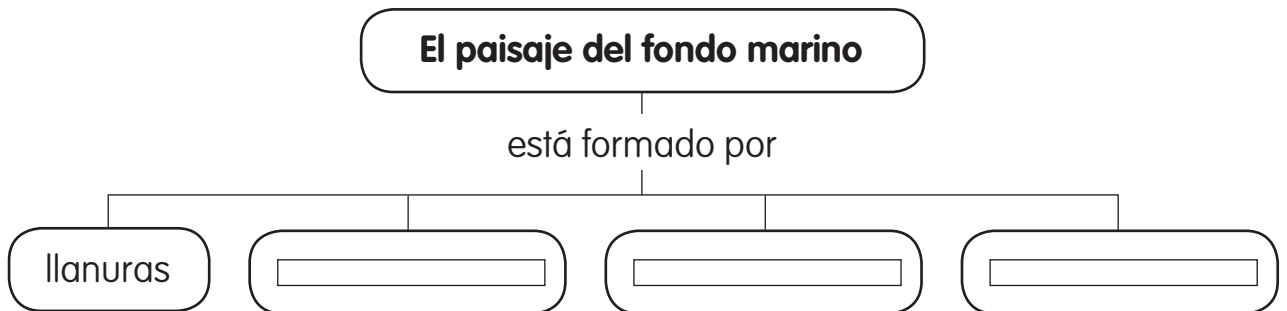
2 Compara el dibujo del fondo del mar con este paisaje de interior.



• ¿Qué tienen en común?

• ¿En qué se diferencian?

3 Completa el esquema.



Nombre: Fecha: Curso:

- 1 Colorea las palabras correctas en cada caso.

El paisaje natural está formado por el relieve, las zonas de

aire	agua
------	------

 y

los seres vivos	los animales
-----------------	--------------

.

El paisaje humanizado

sí	no
----	----

 ha sido modificado por

las personas	las plantas
--------------	-------------

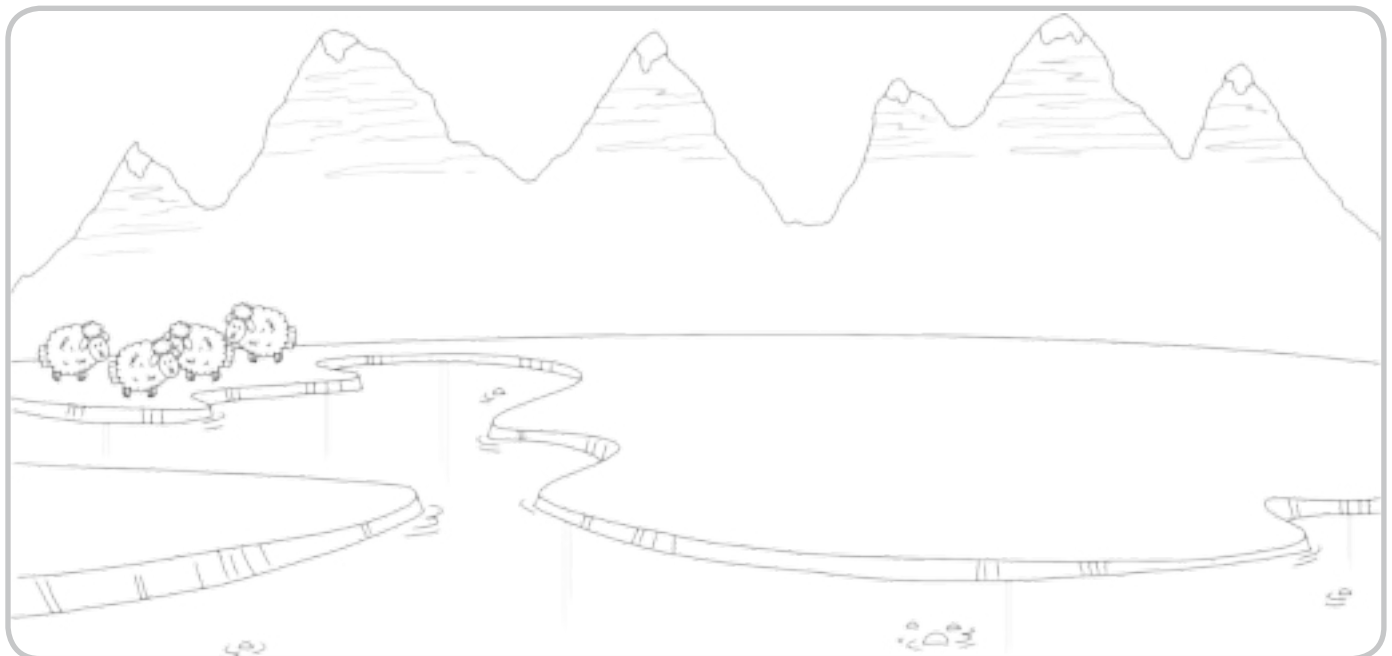
.

- 2 Rodea de verde los elementos del relieve, de azul las zonas de agua y de marrón, los seres vivos.

llanura vacas lago río arroyo montaña valle rebaño

- 3 ¿Qué elementos pueden convertir este paisaje natural en uno humanizado? Márcalos y dibuja alguno en el paisaje.

- | | | |
|----------------------------------|---------------------------------|---------------------------------|
| <input type="checkbox"/> árbol | <input type="checkbox"/> pueblo | <input type="checkbox"/> puente |
| <input type="checkbox"/> cultivo | <input type="checkbox"/> pozo | <input type="checkbox"/> pájaro |



- ¿Es un paisaje rural o urbano?


Nombre: Fecha: Curso:

1 Escribe cómo son habitualmente los ríos y los pueblos en estos paisajes.

grandes estrechos pequeños anchos

	Paisaje de montaña	Paisaje de llanura
Ríos	<input type="text"/>	<input type="text"/>
Pueblos	<input type="text"/>	<input type="text"/>

2 ¿Qué hay en este paisaje de costa? Une las palabras y completa las que faltan.



3 Clasifica estos elementos en los distintos paisajes.

acantilado sierra lago cultivo cascada isla

Paisaje de llanura	Paisaje de montaña	Paisaje de costa
<input type="text"/>	<input type="text"/>	<input type="text"/>
<input type="text"/>	<input type="text"/>	<input type="text"/>


Nombre: Fecha: Curso:

1 ¿Qué es el paisaje? Marca.

- | | |
|--|---|
| <input type="checkbox"/> Un conjunto de campos sin agua. | <input type="checkbox"/> El terreno que imaginamos. |
| <input type="checkbox"/> El terreno que vemos alrededor. | <input type="checkbox"/> Un conjunto de ríos y lagos. |

2 Colorea este paisaje natural siguiendo el código.

Verde → relieve Azul → zonas de agua Marrón → seres vivos



3 ¿Qué elementos puede haber en un paisaje humanizado? Marca y escribe.



4 ¿A qué tipo de paisaje humanizado pertenecen? Une.

- | | | |
|-------------------|---|-----------------|
| campo ● | <input type="checkbox"/> paisaje urbano | ● rebaño |
| edificios altos ● | <input type="checkbox"/> paisaje rural | ● tráfico |
| camino ● | | ● calles anchas |

Nombre: Fecha: Curso:

1 Rodea en la escena según el código.

Verde → paisaje de montaña

Marrón → paisaje de llanura



2 ¿Cómo se llama cada paisaje? Une.

Es la parte más alta del paisaje.

Llanura

Es un terreno plano, sin montañas.

Montaña

3 ¿Qué suele tener cada paisaje? Une.

paisaje de montaña

paisaje de llanura

- sierras
- ciudades
- ríos estrechos
- campos de cultivo
- pueblos pequeños
- ríos anchos

Nombre: Fecha: Curso:

1 Tacha el intruso en cada caso.

Relieve	isla	colina	valle	meseta	mar	cordillera
Zonas de agua	manantial	río	cascada	cultivo	lago	bahía
Seres vivos	ovejas	coral	musgo	árboles	setas	playa

2 ¿Cómo se transforma el paisaje? Numera. Después, escribe cómo se le llama al paisaje antes y después del proceso.



- Construcciones humanas.
- Elementos naturales.
- Modificaciones del terreno introducidas por las personas.

Paisaje _____ → Paisaje _____

3 Tacha las palabras equivocadas y escribe las frases correctamente.

Es un paisaje natural con construcciones humanas. Es urbano.



Nombre: Fecha: Curso:

1 ¿Qué elementos no tiene un paisaje de interior? Marca.

montañas

golfos

valles

islas

llanuras

acantilados

2 Escribe un elemento natural diferente en cada paisaje, y otro elemento natural que sea común a los dos paisajes.

Paisaje de montaña	Paisaje de llanura
<input type="text"/>	<input type="text"/>
<input type="text"/>	<input type="text"/>

3 Añade un elemento humanizado característico de cada paisaje.

Paisaje de montaña	Paisaje de llanura
<input type="text"/>	<input type="text"/>

4 Dibuja un paisaje que reúna estas tres condiciones.

→ Una sierra.

→ Un pueblo en la ladera de la montaña.

→ Un río que nazca en la cima de la montaña.

• ¿Qué tipo de paisaje es?

Nombre _____ Fecha _____

1 ¿Qué elementos ves en este paisaje? Escribe sus nombres.




Elementos naturales ►

Elementos construidos ►

2 Lee y numera según corresponda.

1. En este paisaje el terreno es principalmente plano, con algunas colinas y lomas. En él suelen construirse grandes pueblos y ciudades.
2. Este paisaje se encuentra junto al mar. Suele tener muchos habitantes, y en él hay playas y acantilados, cabos e islas.
3. Las montañas son el elemento principal de este paisaje; en él hay pocos habitantes y se pueden ver valles, mesetas y bosques.



Nombre _____ Fecha _____

1 ¿Qué es el relieve? Marca.

- Es un tipo de paisaje donde el terreno es llano.
- Es el conjunto de las distintas formas que tiene el terreno.
- Es lo que diferencia los ríos y los lagos del mar abierto.

2 ¿A qué tipo de relieve corresponden estas formas? Une.

- | | |
|---------------------|-----------------------------------|
| relieve montañoso ■ | ■ cabo – isla – península – bahía |
| relieve llano ■ | ■ valle – meseta – depresión |
| relieve de costa ■ | ■ sierra – cordillera – colina |

3 Observa el dibujo y colorea con color verde oscuro el río, con color verde claro el afluente y con color azul el mar.

► ¿Qué es un afluente? Elige y completa.


nace
desemboca

Un afluente es un río que
_____ en otro río.

Nombre:

Curso:

1. Fíjate en estos paisajes y contesta:



Es un paisaje de...

Observa la fotografía e indica dónde están estos elementos:

- 1. Cima / 2. Ladera / 3. Pie



Es un paisaje de...

¿Qué elementos humanizados puedes ver en el paisaje?



Es un paisaje de...

¿Qué formas del relieve podemos encontrar cerca del mar?

2. ¿Cómo son las localidades en los diferentes paisajes?

Nombre:

Curso:

1. Clasifica estas rocas y minerales y relaciónalos con los objetos realizados a partir de los mismos:



oro



mármol



arcilla



yeso


rocas

minerales



2. Sigue las instrucciones y completa el recuadro:

Dibuja una bicicleta en el centro de este recuadro. A la derecha, dibuja un niño. A la izquierda, una niña. Encima de ellos, pinta tres líneas naranjas. Debajo, dibuja cinco círculos verdes. Dibuja cruces amarillas dentro de los círculos verdes.



Nombre:

Curso:

1. Relaciona las imágenes y los textos.



pueblo de montaña

pueblo de llanura

pueblo de costa

Está cerca del mar y los habitantes trabajan en el turismo.

Recibe visitantes que disfrutan de la naturaleza y el deporte.

Está bien comunicado y rodeado de campos de cultivo.

2. Relaciona cada elemento de la primera columna con una característica:

Isla

Entrante del mar en tierra.

Cabo

Terreno alto y rocoso en la costa.

Playa

Acumulación de arena en la costa.

Golfo

Porción de tierra que se adentra en el mar.

Acantilado

Terreno rodeado de agua por todas partes.

3. Escribe tres usos que podemos hacer con tres rocas diferentes:

Nombre:

Curso:

1. Indica si estas frases son verdaderas (V) o falsas (F):

- El mármol es un mineral.
- Una sierra es un conjunto de cordilleras.
- Las colinas son pequeñas montañas aisladas.
- Los valles son terrenos planos entre montañas.

2. Una montaña de 2000 metros de altura tiene un refugio a 1400 m. Contesta:

- ¿El refugio está en la cima? _____
- ¿Por qué? _____

3. Relaciona con flechas cada elemento del paisaje de la primera columna con su tipo en la segunda.

Río

Bosque

Embalse

Montaña

Carretera

Elementos naturales

Elementos humanos

4. Busca con qué mineral se fabrican:

- Los cuchillos: _____
- Las latas de refresco: _____
- Los cables eléctricos: _____

NOMBRE

FECHA

> Completa y escribe qué tipo de paisaje de interior es cada uno.

MONTAÑAS SIERRAS VALLES COLINAS MESETAS
 PEQUEÑAS GRANDES



PAISAJE DE

Hay grandes elevaciones de terreno, son las _____, que se agrupan formando _____. Entre ellas hay terrenos planos llamados _____. Suele haber localidades _____

El terreno es llano. Puede haber pequeñas elevaciones llamadas _____ o terrenos planos más elevados, como las _____. Suele haber localidades _____



PAISAJE DE

> Numera las partes de la montaña.

1. Cima
2. Ladera
3. Pie



NOMBRE

FECHA

> Escribe el nombre de cada elemento del paisaje en su lugar.

PLAYA


ISLA

ACANTILADO

FARO

CABO

PUERTO



> Relaciona cada elemento del paisaje de costa con su definición.

Cabo •

Isla •

Bahía •

Península •

Archipiélago •

- Terreno rodeado de agua por todas partes menos por una.
- Punta de tierra que se adentra en el mar.
- Grupo de islas cercanas.
- Entrada del mar en la tierra.
- Terreno rodeado de agua por todas partes.

NOMBRE

FECHA

- > Rodea en el dibujo los siguientes elementos. Después, colorea el curso del río como se indica debajo.

EMBALSE

PRESA

AFLUENTE

DESEMBOCADURA



VERDE ▶ CURSO ALTO

AZUL ▶ CURSO MEDIO

ROJO ▶ CURSO BAJO

- > ¿De qué parte del curso del río se trata? Escribe.

En el el río lleva poca y agua
y discurre rápidamente.

En el el río es ancho y recibe el agua
de los afluentes.

En el el río lleva mucha agua
y discurre lentamente.