



وزارة التربية
Ministry of Education
دولة الكويت | State of Kuwait

الصف الثامن

بنك الأسئلة لمقرر الكويت والعالم الإسلامي

إعداد الموجه الفني
أ. إيمان لافي المطيري

إشراف الموجه الأول بالإدارة
أ. غفران عبدالكريم السيف

أ. غفران عبدالكريم السيف
الموجه الأول للإجتماعيات - بالتكليف

الموجه العام بالإدارة
أ. محمد علي العتيبي

محمد علي العتيبي
الموجه الفني العام للإجتماعيات بالإدارة

وزارة
التربية
التوجيه الفني العام للإجتماعيات

المرحلة المتوسطة

٢٠٢٥ - ٢٠٢٦ م

أولاً: الأسئلة الموضوعية

السؤال الأول : (موضوعي) يتكون من (أ - ب - ج - د - ن - هـ - و - ي)

(أ) - ظلل الخيار الصحيح من بين الخيارات التي تلي كل عبارة مما يلي :-

١- من مظاهر الحضارة الإسلامية الروحية : ص ١٤

| | | | |
|---------|--------|---------|---------------|
| المساجد | القصور | المدارس | <u>الصلاة</u> |
|---------|--------|---------|---------------|

٢ - المدينة التي انطلقت منها الدعوة الإسلامية : ص ١٦

| | | | |
|--------------------|-----------------|--------|-------|
| <u>مكة المكرمة</u> | المدينة المنورة | الكوفة | بغداد |
|--------------------|-----------------|--------|-------|

٣- العام الذي تم فيه إدخال اللغة العربية ضمن اللغات الرسمية في هيئة الأمم المتحدة : ص ٢٠

| | | | |
|-------|-------|--------------|-------|
| ١٩٧١م | ١٩٧٢م | <u>١٩٧٣م</u> | ١٩٧٤م |
|-------|-------|--------------|-------|

٤- الخاصية الحضارية التي تشير إليها الآية الكريمة ﴿ وَلَا تُجَادِلُوا أَهْلَ الْكِتَابِ إِلَّا بِالَّتِي هِيَ أَحْسَنُ ﴾ : ص ٢٣

| | | | |
|------------|--------------|--------|-------|
| إيمان وعمل | <u>تسامح</u> | متطورة | وسطية |
|------------|--------------|--------|-------|

٥- أمير كويتي لُقّب بقائد العمل الإنساني : ص ٢٤

| | | | |
|-------------------|---------------------|--------------------------|-------------------|
| الشيخ جابر الأحمد | الشيخ سعد العبدالله | <u>الشيخ صباح الأحمد</u> | الشيخ نواف الأحمد |
|-------------------|---------------------|--------------------------|-------------------|

٦- الخليفة الذي تم اختياره بعد وفاة الرسول ﷺ ليدبر شؤون الدولة الإسلامية : ص ٣٢

| | | | |
|-------------------------|---------------|---------------|-----------------|
| <u>أبو بكر الصديق</u> ﷺ | عمر بن الخطاب | عثمان بن عفان | علي بن أبي طالب |
|-------------------------|---------------|---------------|-----------------|

٧- النظام الإداري الذي استحدثه الخليفة عمر بن الخطاب ﷺ لتنظيم شؤون المال وتسجيل أسماء الجند : ص ٣٣

| | | | |
|---------|---------|--------|-----------------|
| الولاية | الوزارة | الشرطة | <u>الدواوين</u> |
|---------|---------|--------|-----------------|

٨- الخليفة الذي في عهده أطلق لقب صاحب الشرطة على رئيس الشرطة : ص ٣٤

| | | | |
|----------------|---------------|---------------|------------------------|
| أبو بكر الصديق | عمر بن الخطاب | عثمان بن عفان | <u>علي بن أبي طالب</u> |
|----------------|---------------|---------------|------------------------|

٩- المنطقة التي تميزت بزراعة القمح في شبه الجزيرة العربية : ص ٣٦

| | | | |
|-------------|----------------|-----------------|-----|
| مكة المكرمة | <u>اليمامة</u> | المدينة المنورة | مرو |
|-------------|----------------|-----------------|-----|

١٠- المدينة التي أنشئ فيها ديوان الماء : ص ٣٦

| | | | |
|-------------|---------|-----------------|------------|
| مكة المكرمة | اليمامة | المدينة المنورة | <u>مرو</u> |
|-------------|---------|-----------------|------------|

١١- الاسم الذي أطلق على الصناعات الخشبية الإسلامية : ص ٣٧

| | | | |
|------------------|---------|--------|---------|
| <u>الأرابيسك</u> | البوصلة | القباب | الأعمدة |
|------------------|---------|--------|---------|

١٢- العام الذي أنشئ فيه المسجد الكبير في دولة الكويت : ص ٤٢

| | | | |
|-------|--------------|-------|-------|
| ١٩٨٥م | <u>١٩٨٦م</u> | ١٩٨٧م | ١٩٨٩م |
|-------|--------------|-------|-------|

١٣- المدينة الأشهر في العمائر المدنية والتي أنشئت بشكل دائري : ص ٤٢

| | | | |
|-------------|--------|--------------|------|
| مكة المكرمة | غرناطة | <u>بغداد</u> | دمشق |
|-------------|--------|--------------|------|

١٤- العالم المسلم الذي رسم خريطة العالم وتكلم عن كروية الأرض : ص ٤٥

| | | | |
|--------------|-----------|----------|------------------------|
| جابر بن حيان | ابن بيطار | البيروني | <u>الشريف الإدريسي</u> |
|--------------|-----------|----------|------------------------|

١٥- يبلغ عدد دول العالم الإسلامي : ص ٥٢

| | | | |
|----|----|----|-----------|
| ٥٥ | ٥٦ | ٥٧ | <u>٥٨</u> |
|----|----|----|-----------|

١٦- الدولة الإسلامية الأكبر من حيث المساحة في قارة آسيا : ص ٥٢

| | | | |
|--------------|---------|---------|------------------|
| جزر المالديف | البانيا | سورينام | <u>كازاخستان</u> |
|--------------|---------|---------|------------------|

١٧- الجمهورية الإسلامية التي تقع في قارة أمريكا الجنوبية : ص ٥٢

| | | | |
|--------------|---------|----------------|-----------|
| جزر المالديف | البانيا | <u>سورينام</u> | كازاخستان |
|--------------|---------|----------------|-----------|

١٨- الدولة الإسلامية التي تقع في قارة أوروبا : ص ٥٢

| | | | |
|---------|------------------------|-----------|--------------|
| سورينام | <u>البوسنة والهرسك</u> | كازاخستان | جزر المالديف |
|---------|------------------------|-----------|--------------|

١٩- مظهر تضاريسي غالباً ما يكون صالح للسكن إلا في حدود ضيقة : ص ٥٧

| الهضاب | الجبال | التلال | السهول |
|--------|--------|--------|--------|
|--------|--------|--------|--------|

٢٠- أكبر هضاب العالم الإسلامي من حيث المساحة : ص ٥٨

| ايران | الأناضول | نجد | الصحراء الكبرى |
|-------|----------|-----|----------------|
|-------|----------|-----|----------------|

٢١- ارتفاعات طبيعية من سطح الأرض تتميز بوجود قمة واضحة تشبه قمة الجبال: ص ٦٠

| الوديان | التلال | الهضاب | السهول |
|---------|--------|--------|--------|
|---------|--------|--------|--------|



٢٢- - الخريطة المقابلة تشير إلى مظهر تضاريسي منتشر في دولة الكويت: ص ٦٠

| جبل | هضبة |
|------|------|
| وادي | تل |

٢٣- سهول تتميز بخصوبتها العالية مما جعلها مركزاً لتجمع السكان وممارسة الأنشطة التجارية : ص ٦٢

| اللياح | وارة | كابور | بورصه |
|--------|------|-------|-------|
|--------|------|-------|-------|

٢٤- دوائر العرض التي تقع بينهما دول العالم الإسلامي : ص ٦٣

| ١٢ ج - ٥٥ ش | ١٣ ج - ٥٥ ش | ١٤ ج - ٥٥ ش | ١٥ ج - ٥٥ ش |
|-------------|-------------|-------------|-------------|
|-------------|-------------|-------------|-------------|

٢٥- الدولة الإسلامية الأولى في إنتاج معدن الفضة : ص ٧٥

| أوزبكستان | المغرب | بوركينافاسو | كازاخستان |
|-----------|--------|-------------|-----------|
|-----------|--------|-------------|-----------|

٢٦- تبلغ نسبة سكان دول العالم الإسلامي العاملين في الزراعة : ص ٧٦

| ٣٠% | ٥٠% | ٧٠% | ٩٠% |
|-----|-----|-----|-----|
|-----|-----|-----|-----|

٢٧- الصورة المقابلة تشير إلى نوع من أنواع المزروعات : ص ٧٧



| القمح | الذرة |
|--------|-------|
| الشعير | الأرز |



٢٨- الصورة المقابلة تشير إلى نوع من أنواع المزروعات : ص ٧٧

| | |
|---------------|-------|
| القمح | الذرة |
| <u>الشعير</u> | الأرز |

٢٩- الدولة الإسلامية الأولى في إنتاج الجوت : ص ٧٨

| | | | |
|-----------|-------|---------|------------------|
| أوزبكستان | تركيا | الجزائر | <u>كازاخستان</u> |
|-----------|-------|---------|------------------|

(ب) - صنّف الكلمات التالية بمكانها المناسب في الجدول الذي يليها :-

١- (بغداد - إسطنبول - المدينة المنورة والكوفة - دمشق)

| دولة الخلافة الراشدة ص ١٧ | الدولة الأموية ص ١٧ | الدولة العباسية ص ١٧ | الدولة العثمانية ص ١٧ |
|---------------------------|---------------------|----------------------|-----------------------|
| - المدينة المنورة والكوفة | - دمشق | - بغداد | - إسطنبول |

٢- (الأخلاق - الأدوات - الآلات - المباني - التقاليد - الأعراف - الزروع - القيم - الأفكار - الصناعات - المثل)

| الجانب الروحي ص ١٩ | الجانب المادي ص ١٩ |
|---|---|
| الأخلاق - التقاليد - الأعراف - القيم - الأفكار - المثل | الأدوات - الآلات - المباني - الزروع - الصناعات |

٣- (الدواوين - الولاية - الخلافة - الشرطة - الوزارة)

| الجانب السياسي ص ٣٢ + ٣٣ | الجانب الإداري ص ٣٣ + ٣٤ |
|-------------------------------|--------------------------|
| - الخلافة - الولاية - الوزارة | - الدواوين - الشرطة |

٤- (القاهرة - المدينة المنورة - مكة المكرمة - بغداد)

| | | | |
|--------------------|--------------------|-----------------------|--------------------|
| المسجد الحرام ص ٤٤ | المسجد النبوي ص ٤٤ | مكتبة بيت الحكمة ص ٤٤ | الجامع الأزهر ص ٤٤ |
| - مكة المكرمة | - المدينة المنورة | - بغداد | - القاهرة |

٥- (أسرار الكيمياء - الجبر والمقابلة - القانون المسعودي - القانون في الطب - رسم خريطة العالم)

| | | | | |
|------------------|-----------------|----------------------|-------------------|-----------------|
| البيروني ص ٤٤ | ابن سينا ص ٤٦ | الشريف الإدريسي ص ٤٥ | جابر بن حيان ص ٤٤ | الخوارزمي ص ٤٤ |
| القانون المسعودي | القانون في الطب | رسم خريطة العالم | أسرار الكيمياء | الجبر والمقابلة |

٦- (أطلس - زاجروس - كشمير - الجبل الأخضر - تيبستي - جوليانا توب - عسير - الحجاز -
جبال الألب الدينارية - باكستان)

| | | | |
|--|--------------------------------------|------------------------|--------------------------------|
| جبال قارة آسيا ص ٥٧ | جبال قارة أفريقيا ص ٥٧ | جبال قارة أوروبا ص ٥٧ | جبال قارة أمريكا الجنوبية ص ٥٧ |
| - زاجروس - كشمير - عسير - الحجاز - باكستان | - أطلس - الجبل الأخضر - تيبستي | - جبال الألب الدينارية | - جوليانا توب |

٧- (إيران - نجد - الصحراء الكبرى - الأناضول)

| | |
|--------------------------|-------------------|
| هضاب آسيا ص ٥٨ | هضاب أفريقيا ص ٥٨ |
| - إيران - نجد - الأناضول | - الصحراء الكبرى |

٨- (قيصرية - كابور - بأول - بورصة)

| | |
|------------------|-------------------|
| سهول تركيا ص ٦٢ | سهول السنغال ص ٦٢ |
| - قيصرية - بورصة | - كابور - بأول |

٩- (الأرز - القطن - القمح - الذرة - المطاط الطبيعي - الجوت - الشعير)

| | |
|-------------------------------------|-------------------------------------|
| الحبوب ص ٧٧ | الغلات النقدية ص ٧٨ |
| - الأرز - القمح - الذرة - الشعير | - القطن - المطاط الطبيعي - الجوت |

١٠- (الجزائر - تركيا - السودان - اوزباكستان - إندونيسيا - كازاخستان)

| | | |
|----------------------|-----------------------|-----------------------|
| القطن ص ٧٨ | الجوت ص ٧٨ | المطاط الطبيعي ص ٧٨ |
| - تركيا - اوزباكستان | - الجزائر - كازاخستان | - السودان - إندونيسيا |

(ج) صح ما تحته خط بكتابة الإجابة الصحيحة بين القوسين :

- ١- الديانة التي بُعث بها سيدنا موسى عليه السلام تسمى المسيحية . (اليهودية) ص ١٤
- ٢- الحضارة الجديدة التي أضافت إلى السلوك الإنساني قيماً أخلاقية سامية تسمى الفارسية . (الإسلامية) ص ٢٠
- ٣- الخاصية الحضارية التي تشير إليها الآية الكريمة ﴿ وَكَذَلِكَ جَعَلْنَاكُمْ أُمَّةً وَسَطًا ﴾ تسمى متطورة . (وسطية) ص ٢٤
- ٤- النظام السياسي الذي استُحدث بعد وفاة الرسول ﷺ وانفردت به الدولة الإسلامية يسمى الولاية . (الخلافة) ص ٣٢
- ٥- الدولة التي اقتبس منها المسلمون نظام الوزارة تسمى البيزنطية . (الساسانية) ص ٣٣
- ٦- أول من أطلق عليه لقب وزير في الدولة الإسلامية اسمه أبو العباس السفاح . (أبي سلمة الخلال) ص ٣٣
- ٧- الخليفة الراشدي الذي طوّر نظام الشرطة أسمه عثمان بن عفان . (علي بن أبي طالب) ص ٣٤
- ٨- النظام الذي أنشئ لحفظ الأمن الداخلي في الدولة الإسلامية والقبض على اللصوص يسمى الولاية . (الشرطة) ص ٣٤

- ٩- المدينة التي يوجد بها سد معاوية بن أبي سفيان اسمها المرو . (المدينة المنورة) ص ٣٦
- ١٠- العام الذي وقعت فيه معركة ذات الصواري البحرية ٢٤هـ . (٣٤ هـ) ص ٣٦
- ١١- الحبوب التي اشتهرت منطقة اليمامة بزراعتها تسمى الأرز . (القمح) ص ٣٦
- ١٢- المدينة التي عرف منها المسلمين صناعة الورق الرخيص اسمها الفسطاط (سمر قند) ص ٣٧
- ١٣- صناعة خشبية امتازت بها الحضارة الإسلامية سميت نسبةً إلى العرب تسمى صناعة السفن . (ارابيسك) ص ٣٦
- ١٤- الأداة التي سهلت معرفة الاتجاهات على القوافل والسفن التجارية اسمها الأسطرلاب . (البوصلة) ص ٣٨
- ١٥- الجزيرة الكويتية التي لها دوراً مهماً في التجارة البحرية خلال العصر الإسلامي اسمها بوبيان . (فيلكا) ص ٣٩
- ١٦- حاكم الكويت الذي أنشئ المسجد الكبير في عهده اسمه الشيخ صباح الأحمد . (الشيخ جابر الأحمد) ص ٤٢
- ١٧- المدينة التي يقع فيها قصر الحمراء اسمها إسطنبول . (غرناطة) ص ٤٢
- ١٨- عالم مسلم اشتهر بالصيدلة اهتم الأوروبيين في ترجمة كتبه اسمه ابن سينا . (ابن البيطار) ص ٤٦
- ١٩- النسبة التي يشغلها العالم الإسلامي من إجمالي مساحة اليابسة في العالم ٣٣,٣% . (٢٢,٢ %) ص ٥٢
- ٢٠- أصغر الدول الإسلامية في قارة آسيا اسمها غويانا . (جزر المالديف) ص ٥٢
- ٢١- القارة التي تقع فيها هضبة الصحراء الكبرى اسمها آسيا . (افريقيا) ص ٥٨
- ٢٢- الهضبة التي تنتشر فيها ظاهرة الكثبان الرملية اسمها الإيرانية . (الصحراء الكبرى) ص ٥٨
- ٢٣- العاصمة التي يوجد بها تلال مدينة التلال السبع اسمها الكويت . (عمان) ص ٦١
- ٢٤- الدولة التي اشتهرت بزراعة الفول السوداني اسمها السودان . (السنغال) ص ٦٢
- ٢٥- مصدر الطاقة الذي ينتج العالم الإسلامي منه ٣٦% من إجمالي الإنتاج العالمي اسمه النفط . (الغاز الطبيعي) ص ٧١
- ٢٦- الدولة الإسلامية الأولى في إنتاج معدن الذهب اسمها مالي . (اندونيسيا) ص ٧٥
- ٢٧- نوع من المزروعات يبلغ إنتاج العالم الإسلامي منها ١٤% تسمى الغلات النقدية . (الحبوب) ص ٧٧
- ٢٨- نسبة إنتاج العام الإسلامي من الحبوب يبلغ ٣٣% . (١٤ %) ص ٧٧
- ٢٩- الصورة المقابلة تشير إلى نوع من أنواع الحبوب يسمى الذرة . (الأرز) ص ٧٧



٢٨- الدولة الإسلامية الأولى في إنتاج الأرز اسمها باكستان . (إندونيسيا) ص ٧٨

٢٩- دولة إسلامية احتلت المركز الثاني على مستوى العالم في الإنتاج البحري في عام ٢٠١٤ م اسمها مصر. (إندونيسيا)

ص ٨٢

٣٠- من مصادر إنتاج الأسماك في دول العالم الإسلامي غير الطبيعية تسمى المياه العذبة. (الاستزراع السمكي) ص ٨٢

(د) - اختر للمجموعة (ب) ما يناسبها من المجموعة (أ) وذلك بوضع الرقم الصحيح في المكان المناسب :-

| (أ) | الرقم المناسب | (ب) |
|---------------------------|---------------|--------------------------------|
| ١- دولة الخلافة الراشدة . | ٤ | إسطنبول . ص ١٧ |
| ٢- الدولة الأموية . | ٣ | بغداد . ص ١٧ |
| ٣- الدولة العباسية . | ٢ | دمشق . ص ١٧ |
| ٤- الدولة العثمانية . | ١ | المدينة المنورة والكوفة . ص ١٧ |
| | — | مكة المكرمة ص ١٦ |

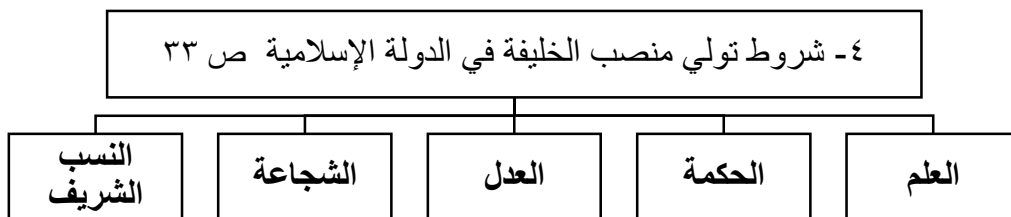
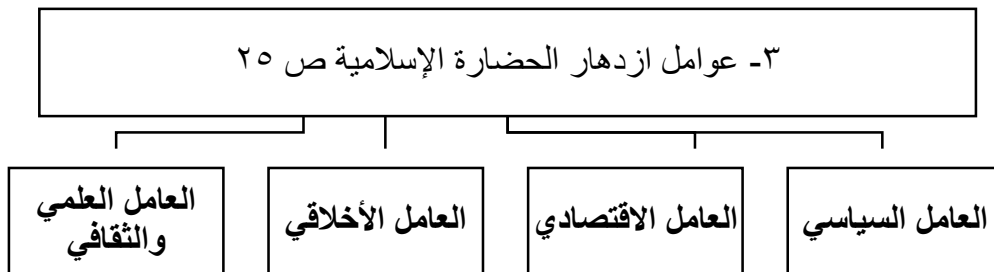
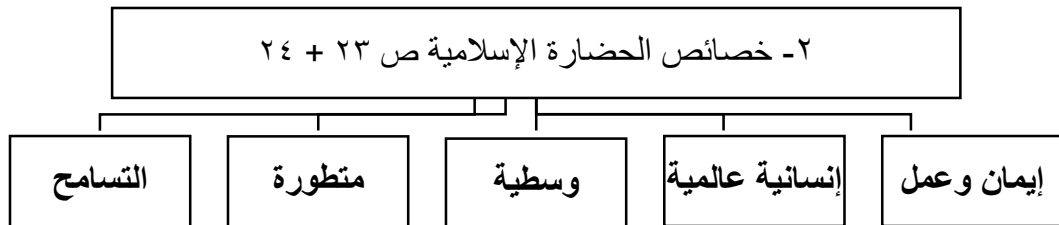
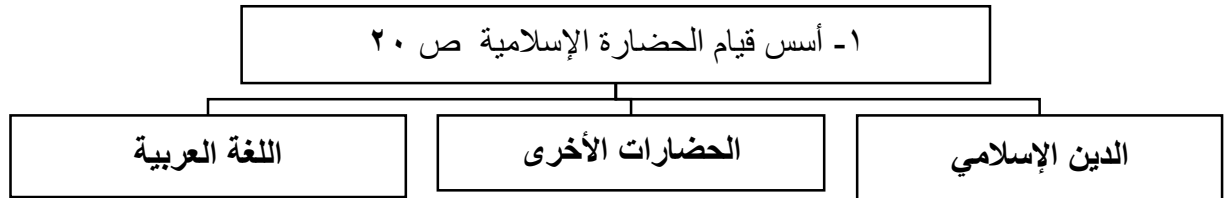
| (أ) | الرقم المناسب | (ب) |
|----------------------|---------------|---------------------------------------|
| ١- أبوبكر الصديق | ٥ | أطلق لقب وزير لأول مره في عهده . ص ٣٣ |
| ٢- عمر بن الخطاب | ٤ | طور نظام الشرطة . ص ٣٤ |
| ٣- عثمان بن عفان | ٣ | اهتم بصناعة السفن الحربية . ص ٣٦ |
| ٤- علي بن أبي طالب | ٢ | استحدث نظام الدواوين . ص ٣٣ |
| ٥- أبو العباس السفاح | ١ | أول الخلفاء الراشدين . ص ٣٢ |
| | — | أول من بدأ نظام الولاية . ص ٣٣ |

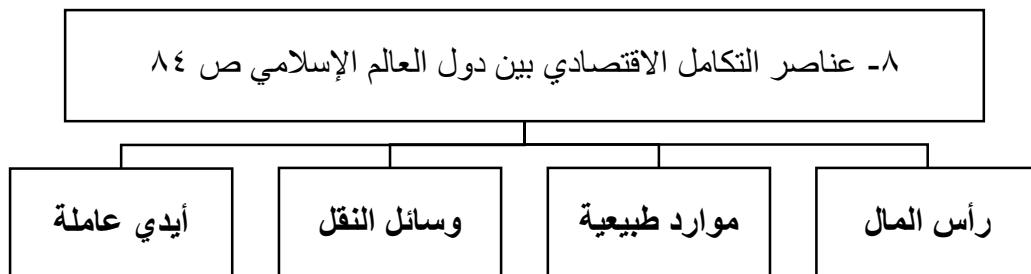
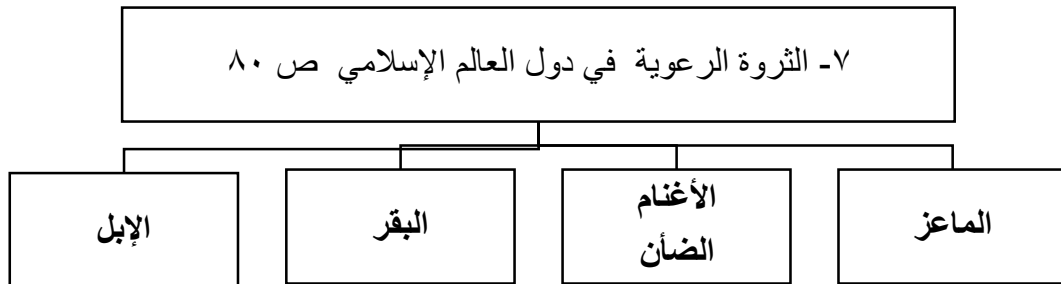
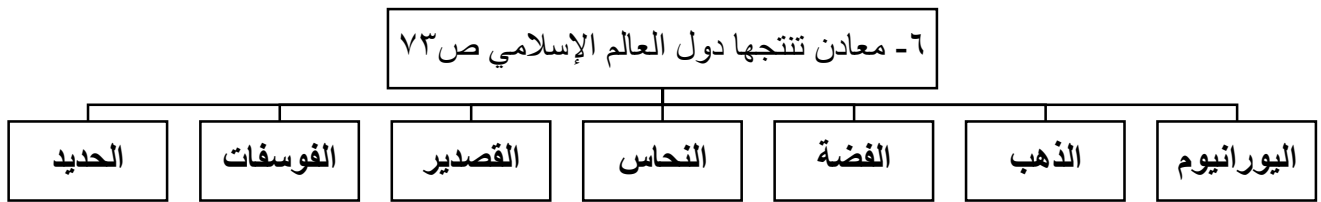
| (أ) | الرقم المناسب | (ب) |
|-----------------------|---------------|------------------------|
| ١- المسجد الحرام . | ٣ | بغداد. ص ٤٤ |
| ٢- المسجد النبوي . | ١ | مكة المكرمة. ص ٤٤ |
| ٣- مكتبة بيت الحكمة . | ٤ | القاهرة. ص ٤٤ |
| ٤- الجامع الأزهر . | ٢ | المدينة المنورة . ص ٤٤ |
| | — | بلاد الأندلس |

| (أ) | الرقم المناسب | (ب) |
|----------------------|---------------|---------------------|
| ١- الفلك والجغرافيا. | ٤ | ابن سينا . ص ٤٦ |
| ٢- الكيمياء . | ٥ | ابن البيطار. ص ٤٦ |
| ٣- الرياضيات . | ٢ | جابر بن حيان . ص ٤٤ |
| ٤- الطب | ٣ | الخوارزمي . ص ٤٤ |
| ٥- الصيدلة . | ١ | البيروني . ص ٤٤ |
| | — | الشريف الإدريسي |

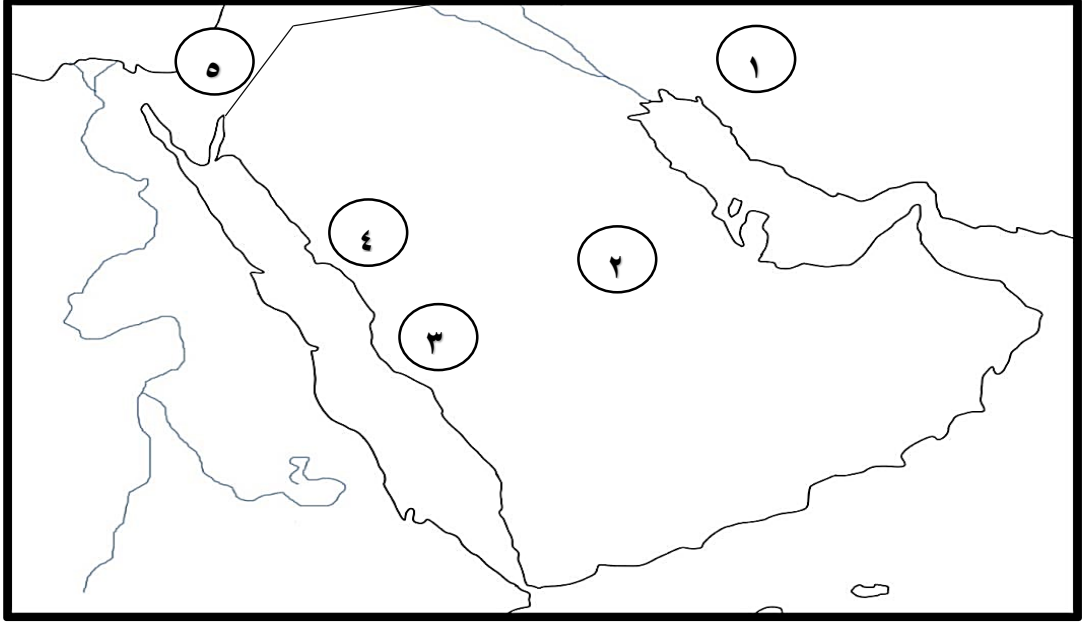
| (أ) | الرقم المناسب | (ب) |
|----------------|---------------|--|
| ١- السعودية. | ٢ | الدولة الأولى في انتاج الذهب . ٧٥ |
| ٢- إندونيسيا. | ٥ | الدولة الأولى في انتاج الغاز الطبيعي . ص ٧١ |
| ٣- موريتانيا . | ١ | الدولة الأولى في انتاج النفط . ص ٧٠ |
| ٤- كازاخستان | ٣ | الدولة الأولى في انتاج الحديد . ص ٧٤ |
| ٥- قطر . | ٤ | الدولة الأولى في انتاج الفضة . ص ٧٥ |
| | — | الدولة الأولى في انتاج الفوسفات ص ٧٤ |

(ن) - أكمل المخططات السهمية التالية :-

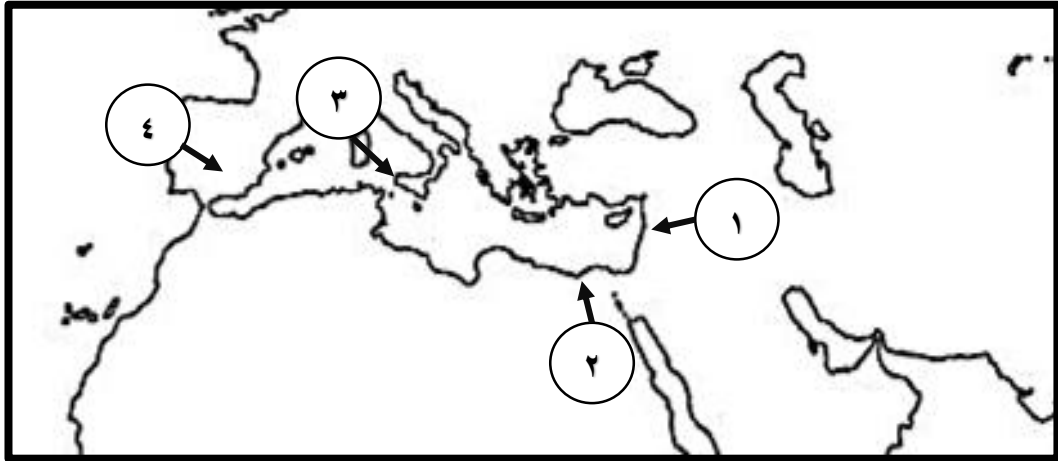




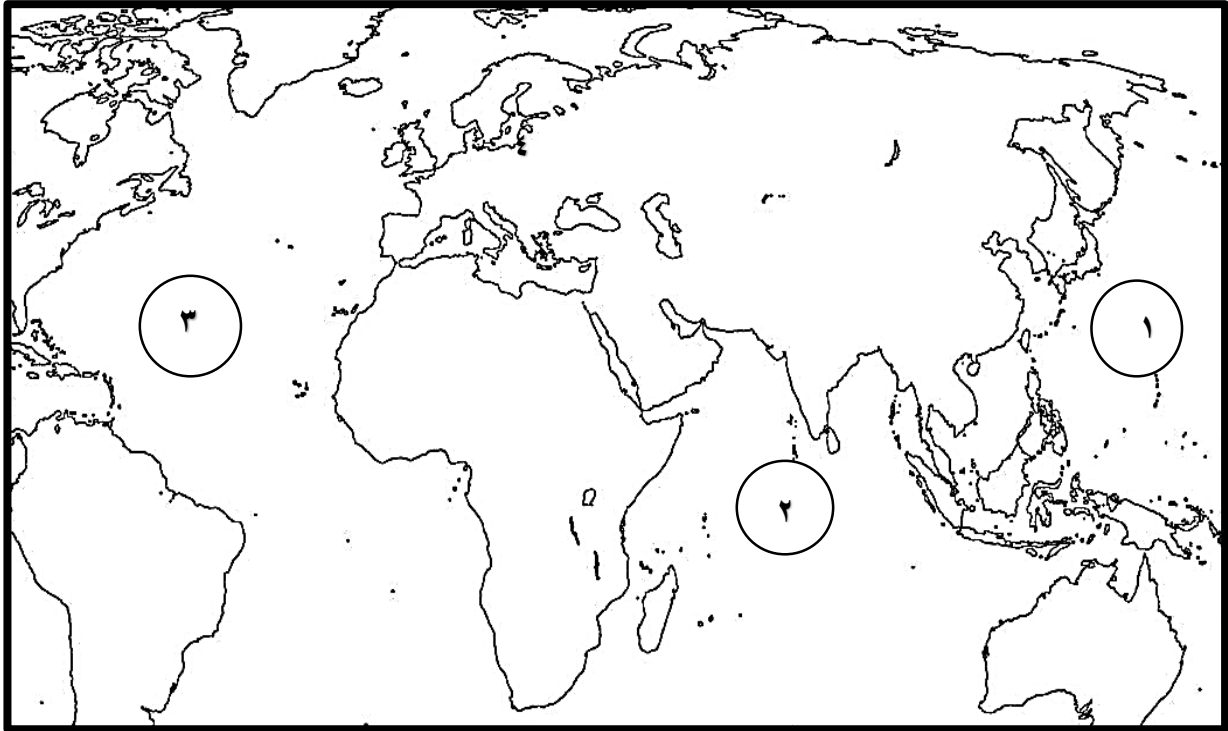
(هـ) لاحظ الخرائط التي أمامك ثم اكتب الرقم الدال على العبارات التالية :



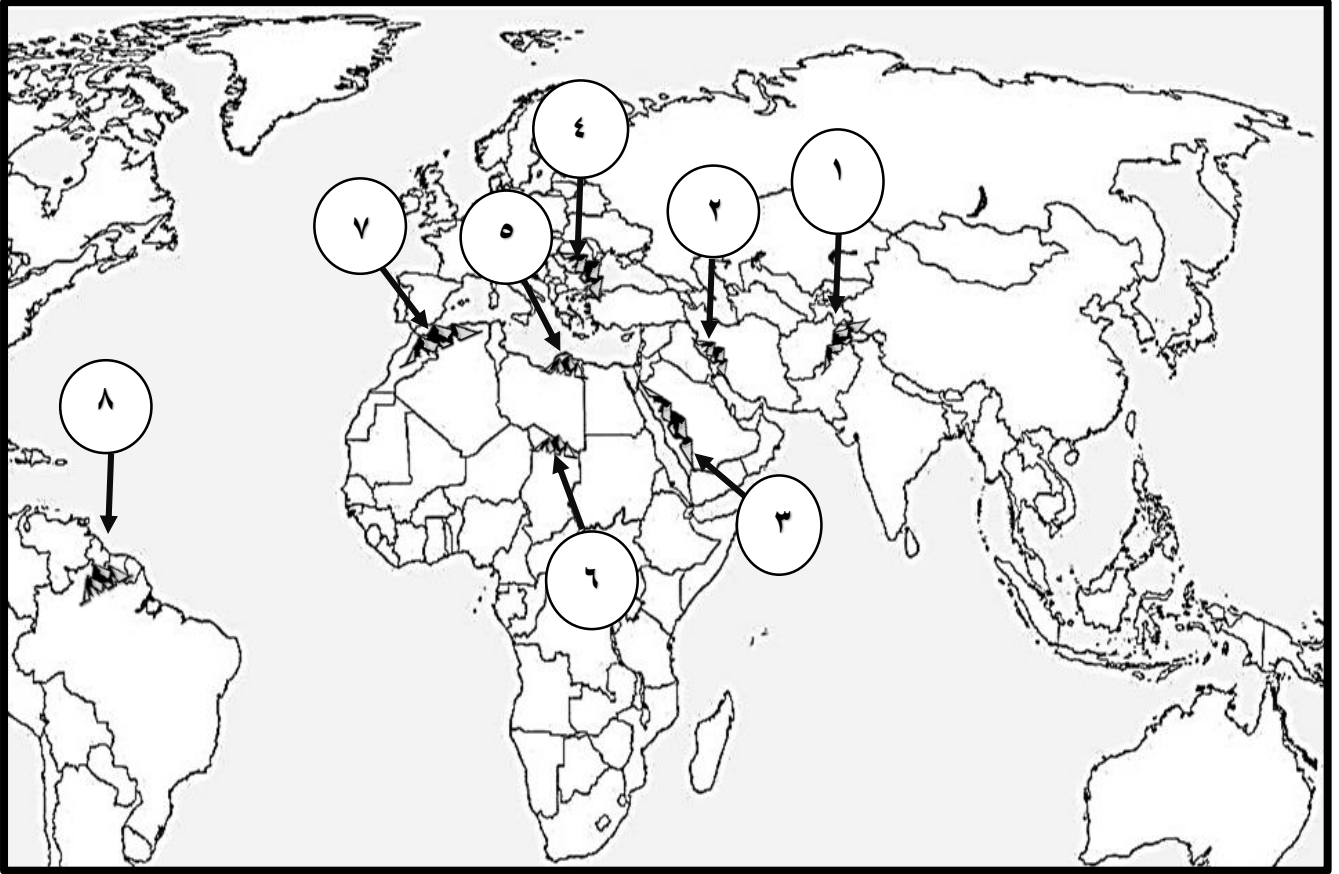
- مكة المكرمة يمثلها على الخريطة الرقم.
 - المدينة المنورة يمثلها على الخريطة الرقم.
 - الإمبراطورية الساسانية يمثلها على الخريطة الرقم.
 - منطقة اليمامة يمثلها على الخريطة الرقم.
 - الإمبراطورية البيزنطية يمثلها على الخريطة الرقم.
- (٣) ص ١٨
- (٤) ص ١٨
- (١) ص ٢٢
- (٢) ص ٣٦
- (٥) ص ٢٢



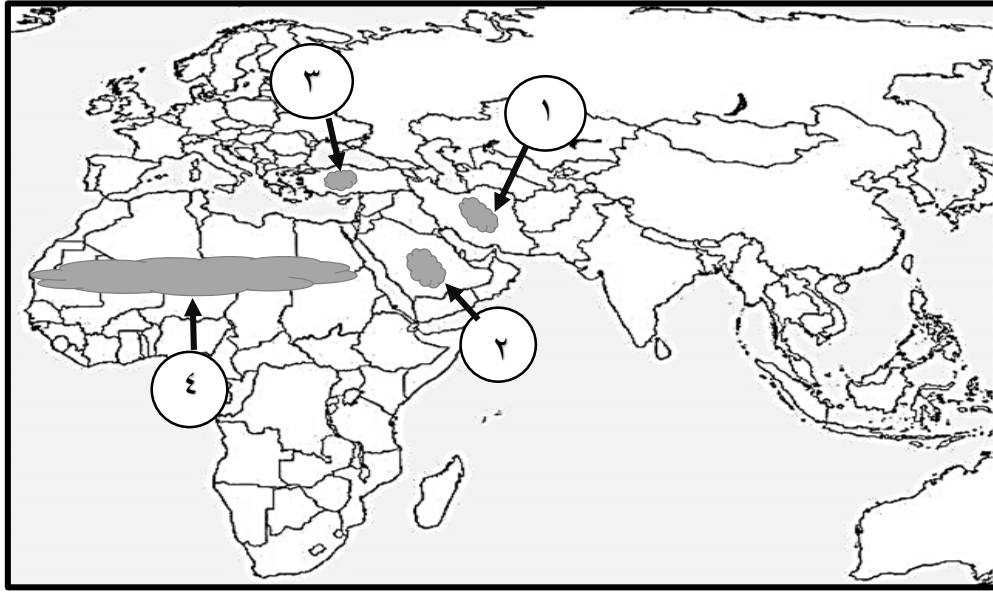
- جزيرة صقلية يمثلها على الخريطة الرقم .
 - مصر يمثلها على الخريطة الرقم .
 - بلاد الشام يمثلها على الخريطة الرقم .
 - بلاد الأندلس يمثلها على الخريطة الرقم .
- (٣) ص ٤٥
- (٢) ص ٤٥
- (١) ص ٤٥
- (٤) ص ٤٥



- المحيط الأطلسي يمثل على الخريطة الرقم. (٣) ص ٥٤
- المحيط الهندي يمثل على الخريطة الرقم. (٢) ص ٥٤
- المحيط الهادي يمثل على الخريطة الرقم. (١) ص ٥٤



- جبال عسير والحجاز يمثلها على الخريطة الرقم. (٣) ص ٥٧
- جبال كشمير يمثلها على الخريطة الرقم. (١) ص ٥٧
- جبال جوليا ناتوب يمثلها على الخريطة الرقم. (٨) ص ٥٧
- جبال تيبستي يمثلها على الخريطة الرقم. (٦) ص ٥٧
- جبال زاجروس يمثلها على الخريطة الرقم. (٢) ص ٥٧
- جبال أطلس يمثلها على الخريطة الرقم. (٧) ص ٥٧
- الجبل الأخضر يمثلها على الخريطة الرقم. (٥) ص ٥٧
- الجبل الألب الدينارية يمثلها على الخريطة الرقم. (٤) ص ٥٧

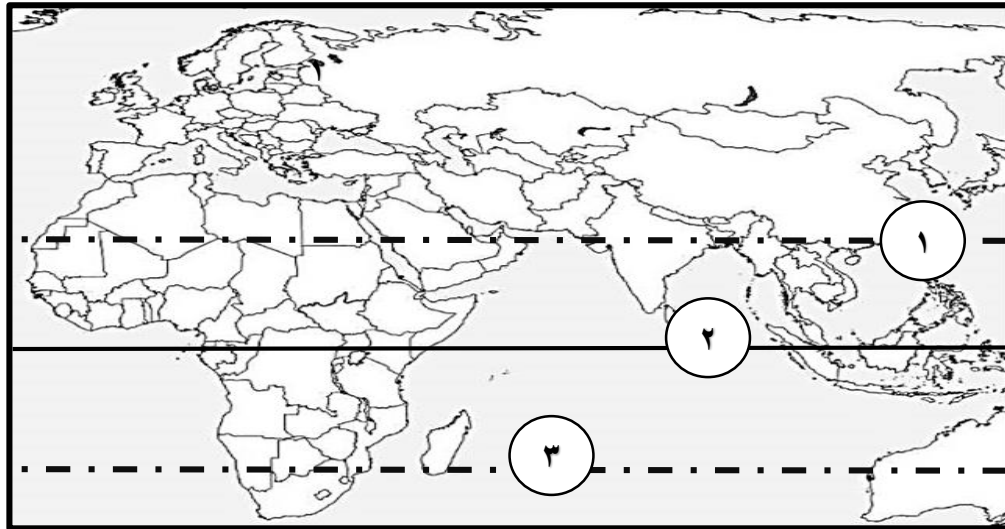


- هضبة نجد يمثلها على الخريطة الرقم. (٢) ص ٥٨

- هضبة الصحراء الكبرى يمثلها على الخريطة الرقم. (٤) ص ٥٨

- هضبة إيران يمثلها على الخريطة الرقم. (١) ص ٥٨

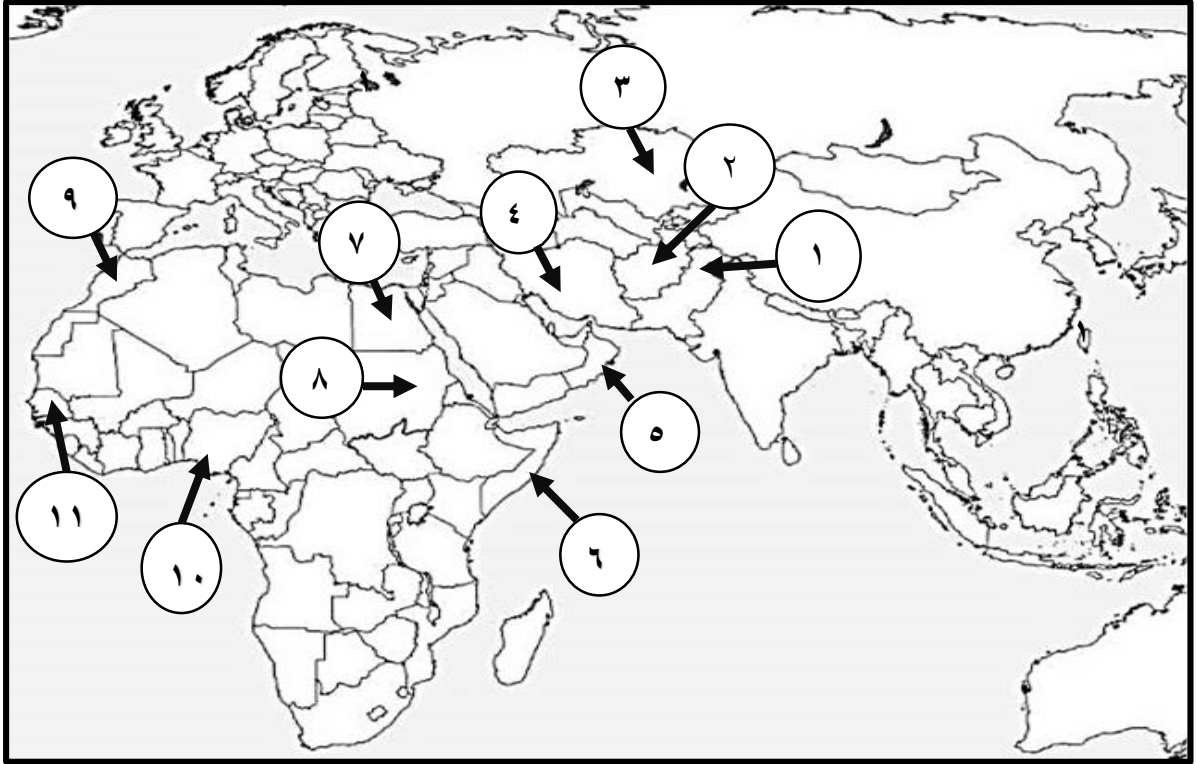
- هضبة الأناضول يمثلها على الخريطة الرقم. (٣) ص ٥٨



- مدار السرطان يمثل على الخريطة الرقم. (١) ص ٦٣

- مدار الجدي يمثل على الخريطة الرقم. (٣) ص ٦٣

- خط الاستواء يمثل على الخريطة الرقم. (٢) ص ٦٣



- عمان يمثلها على الخريطة الرقم. (٥) ص ٨٣
- باكستان يمثلها على الخريطة الرقم. (١) ص ٨٣
- ايران يمثلها على الخريطة الرقم. (٤) ص ٨٣
- السودان يمثلها على الخريطة الرقم. (٨) ص ٨١
- المغرب يمثلها على الخريطة الرقم. (٩) ص ٨٣
- الصومال يمثلها الخريطة الرقم. (٦) ص ٨١
- السنغال يمثلها على الخريطة الرقم. (١١) ص ٨٣
- كازخستان يمثلها على الخريطة الرقم. (٣) ص ٨٣
- أفغانستان يمثلها على الخريطة الرقم. (٢) ص ٨٣
- نيجيريا يمثلها على الخريطة الرقم. (١٠) ص ٨١
- مصر يمثلها على الخريطة الرقم. (٧) ص ٨٣

(و) اكتب الرابط المشترك بين مجموعة العناصر لكل مما يلي :



(ي) اكتب مدلولات الصور والخرائط في الفراغات أدناه :




(صناعة الورق – ورق يعود لمدينة سمرقند) ص ٣٧



(سد معاوية بن أبي سفيان) ص ٣٦



(البوصلة) ص ٣٨



(أرابيسك إسلامي) ص ٣٧



(مأذنة مسجد أحمد بن طولون) ص ٤٢



(أعمدة وأقواس جامع قرطبة في الأندلس) ص ٤١




(قصر الحمراء - ساحة الأسود) ص ٤٢ (مخطط تصويري لبناء مدينة بغداد في العصر العباسي) ص ٤٢



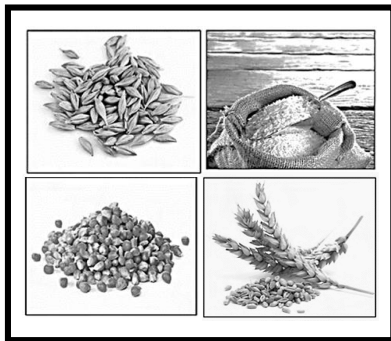
(مراكز اشعاع الحضارة الإسلامية) ص ٤٥

(جزيرة فيلكا في عصر الدولة الإسلامية) ص ٣٩



(معدن الحديد) ص ٧٤

(خريطة العالم للشريف الإدريسي) ص ٤٥



(الحبوب) ص ٧٧

(معدن الذهب) ص ٧٥

ثانياً : الأسئلة المقالية

السؤال الثاني (مقال) يتكون من (أ - ب - ج - د - ن - و - ي) :

(أ) - عرف المفاهيم والمصطلحات التالية :

| المفهوم | التعريف |
|---------------------------|---|
| - الديانات السماوية | الاديان التي أنزلها الله تعالى على أنبيائه ورسله عن طريق الوحي ، ليكونوا مبشرين ، ومنذرين ، وتهدف إلى هداية الناس إلى عبادة الله وتوحيده وعدم الإشراك به . ص ١٤ |
| - حركة الفتوحات الإسلامية | حركة ظهرت بعد وفاة الرسول ﷺ تقوم على دعوة البلاد غير المسلمة للدخول إلى الإسلام إما سلماً أو حرباً . ص ١٦ |
| - الحضارة | كل ما يطرأ على المجتمع من تقدم ورقي في جميع نواحي الحياة الروحية والمادية . ص ١٩ |
| - الثقافة | مجموعة المعارف والأخلاق والعادات والتقاليد والفنون التي تخص مجتمع معين . وهي جزء أساسي من الحضارة لأنها من مكونات الجانب الروحي لها . ص ١٩ |
| - الحضارة الإسلامية | كل ما قدمه المجتمع الإسلامي في الجوانب الروحية ، مثل القيم والأخلاق والثقافة ، وفي الجوانب المادية ، مثل الاختراعات والاكتشافات العلمية ، لخدمة المجتمع البشري . ص ٢٠ |
| - الازدهار | النماء والزيادة والتقدم . ص ٢٥ |
| - أهل الذمة | أهل الكتاب من (اليهود والنصارى) ص ٢٥ |
| - الخلافة | رئاسة عامة للمسلمين في أمور الدين والدنيا . ص ٣٢ |
| - الوالي | الشخص الذي يعينه الخليفة أميراً على منطقة من مناطق الدولة الإسلامية . ص ٣٢ |
| - الديوان | السجل أو الدفتر الذي يكتب فيه ما يختص بشئون الإدارة . ص ٣٣ |
| - شق قنوات الري | مجرى مائي تحت الأرض يربط بين سلسلة من آبار المياه الجوفية لاستغلالها لري مساحات شاسعة من الأراضي الزراعية . ص ٣٥ |
| - السدود | الجدار الذي يبني لقطع مجرى النهر لمنع تدفق فيضانه أو لمنع سيول الأمطار في الأودية وجعلها خزانات لمياه الشرب والري . ص ٣٦ |
| - المحتسب | موظف مهمته مراقبة الأسواق وفحص الموازين والمكاييل ومتابعة الآداب العامة . ص ٣٨ |
| - البوصلة | أداة ملاحية لتحديد الاتجاهات وتحتوي على مؤشر مغناطيسي يدور بحرية ليووجه نفسه دائماً نحو الشمال . ص ٣٨ |
| - بيت مال المسلمين | المبنى أو المكان الذي تحفظ فيه الأموال العامة للدولة الإسلامية التي جمعت من موارد متنوعة . ص ٣٩ |
| - الإقليم المناخي | مساحة من الأرض تتصف بعناصر مناخية متشابهة . ص ٦٣ |
| - البيئة الطبيعية | كل ما يحيط في الإنسان من عناصر حية وغير حية ليس للإنسان أي دخل في وجودها وتتمثل في بنية الأرض والتضاريس والمناخ والنبات الطبيعي والحيوانات . ص ٧٠ |
| - المعدن | عنصر أو مركب كيميائي بطبيعته ناتج عن عمليات جيولوجية . ص ٧٣ |
| - الجوت | نبات ينمو في المناطق الاستوائية والموسمية ويصنع منها الحبال والأحذية والحقائب والأقمشة الخشنة . ص ٧٨ |
| - الغلات النقدية | المحاصيل التي تزرع من أجل التصدير . ص ٧٨ |
| - التكامل الاقتصادي | عملية اقتصادية تؤدي إلى تحقيق تكافؤ الفرص أمام جميع عناصر الإنتاج في دول التكامل . ص ٨٤ |

- ١- أسس قيام الحضارة الإسلامية .
ص ٢٠
- الدين الإسلامي .
- اللغة العربية .
- الحضارات الأخرى .
- ٢- أهم جهود الدولة الإسلامية في تطوير الزراعة .
ص ٣٥ + ٣٦
- شق قنوات الري الزراعية .
- إقامة السدود .
- تنظيم وسائل الري .
- ٣- أهم الصناعات في الدولة الإسلامية .
ص ٣٦
- صناعة السفن .
- صناعة الورق .
- الصناعات الخشبية .
- ٤- أشكال العمانر الدينية .
ص ٤١
- القباب .
- الأعمدة .
- المآذن .
- ٥- عوامل ازدهار العلم وظهور العلماء في الدولة الإسلامية .
ص ٤٤
- الرخاء الاقتصادي .
- تشجيع الحكام للعلماء .
- ترجمة كتب حضارة اليونان والفرس والهند .
- ٦- أهم المراكز العلمية في الحضارة الإسلامية .
ص ٤٤
- المسجد الحرام في مكة المكرمة .
- مكتبة بيت الحكمة في بغداد .
- المسجد النبوي في المدينة المنورة .
- الجامع الأزهر في القاهرة .
- ٧- خصائص موقع دول العالم الإسلامي .
ص ٥٣
- التحكم في العديد من الممرات المائية الهامة .
- تنوع الموارد الطبيعية والاقتصادية .
- منطقة التقاء قارات العالم القديم والحضارات .
- تنوع الأقاليم المناخية في دول العالم الإسلامي .

- ٨- فوائد الجبال بالنسبة لدول العالم الإسلامي .
- ص ٥٦
- تسهم في توازن درجة حرارة الجو .
 - مصدر جذب للسياحة لما لها من مناظر جميلة .
 - مصدر هام للثروات المعدنية.
 - تسهم بنزول الثلوج وهطول الأمطار وتخزين المياه .

- ٩- أشهر هضاب دول العالم الإسلامي .
- ص ٥٧
- هضبة الأناضول .
 - هضبة الصحراء الكبرى.
 - هضبة شبه الجزيرة العربية (نجد) .
 - الهضبة الإيرانية .

- ١٠- العوامل التي ساعدت على تنوع الأقاليم المناخية في دول العالم الإسلامي .
- ص ٦٤
- امتداد دول العالم الإسلامي على مساحات شاسعة .
 - الموقع بالنسبة لدوائر العرض .
 - اطلالة على عدة مسطحات مائية في معظم أجزاءه .
 - التنوع في أشكال التضاريس (جبال - هضاب - سهول - تلال) .

- ١١ - أهم ما يتميز به معدن الحديد .
- ص ٧٤
- الانتشار الواسع في القشرة الأرضية .
 - سهولة طريقة وتشكيلة .
 - سهولة استخراجها من الأرض
 - رخص ثمنه بالنسبة للمعادن الأخرى .

- ١٢- العوامل التي ساعدت على زيادة الإنتاج الزراعي في دول العالم الإسلامي .
- ص ٧٦
- المناخ.
 - التربة الخصبة .
 - وجود البحيرات والأنهار والآبار .
 - سقوط الأمطار .
 - كثرة السكان والأيدي العاملة .

- ١٣- فوائد الموارد الحيوانية .
- ص ٨١
- مصدر أساسي للغذاء .
 - مصدر أساسي لعدد من الصناعات الغذائية والملابس والأحذية .
 - مصدر أساسي لإنتاج الأدوية واللقاحات .

- ١- احتلت الحضارة العربية الإسلامية مكانة رفيعة بين كبرى الحضارات التي عرفها التاريخ . ص ١٧
 - أطولها عمراً .
 - أعمقها أثراً في مسيرة البشرية .
- ٢- تميزت الحضارة الإسلامية بالوسطية . ص ٢٤
 - التيسير بالعبادات والمعاملات .
 - التدرج في أحكام الشريعة .
 - مراعاة العدل بين الناس دون تفريق بين فئاتهم وطبقاتهم .
- ٣- ازدهار الدولة الإسلامية اقتصادياً . ص ٢٥
 - اتساع أراضي الدولة الإسلامية .
 - توفير الأيدي العاملة المهارة .
 - زيادة تنوع مواردها الطبيعية .
 - ازدهرت التجارة والصناعة فيها .
- ٤- للمرأة المسلمة دور كبير في نهضة الحضارة الإسلامية . ص ٤٣
 - شاركت في العناية بالحديث الشريف وعلوم القرآن .
 - تولت حكم الدولة مثل شجرة الدر التي حكمت خلال فترة دولة المماليك .
- ٥- قلة تركيز السكان في الجبال . ص ٥٦
 - شدة انحدارها .
 - انخفاض الضغط الجوي .
 - قلة وجود الاوكسجين .
 - صعوبة التنقل .
- ٦- أهمية صيد الأسماك في دول العالم الإسلامي . ص ٨٢
 - مصدراً رئيسياً للغذاء .
 - مصدراً هاماً للدخل القومي .
- ٧- أهمية التكامل الاقتصادي بين دول العالم الإسلامي . ص ٨٥
 - تحقيق التنمية الاقتصادية .
 - توسيع حجم التبادل التجاري .
 - زيادة فرص العمل .
 - التخصص وتقسيم العمل .

- ١- دور الحضارة الإسلامية في نهضة أوروبا الحديثة . ص ٤٥
- مراكز إشعاع الحضارة الإسلامية التي نقل منها الأوروبيون مظاهر الحضارة الإسلامية إلى أوروبا.
 - ترجمة كتب علماء المسلمين في شتى المجالات والتي أسهمت في نهضة أوروبا .
- ٢- فوائد السهول في دول العالم الإسلامي . ص ٦١
- إقامة المساكن .
 - الزراعة .
 - تستخدم كموانئ طبيعية للسفن .
- ٣- جهود دولة الكويت لزيادة الإنتاج الزراعي . ص ٧٧
- استخدام وسائل الري الحديثة التي توفر المياه .
 - استخدام البيوت المحمية المكيفة لتفادي قسوة المناخ.
 - الزراعة بدون تربة لتفادي مشكلة التربة الغير صالحة للزراعة .
- ٤- تطوير قطاع الثروة الرعوية في دول العالم الإسلامي . ص ٨٠ + ٨١
- الرعاية البيطرية .
 - الدعم المادي .
 - زراعة الأعلاف .
 - إنشاء المحميات .
- ٥- اهتمام دولة الكويت بالثروة السمكية . ص ٨٢
- لديها مواقع مائية بها مخزون سمكي جيد .
 - وضعت القوانين والأنظمة لحمايتها من الصيد الجائر .
 - قامت بإنشاء مزارع لتربية الأسماك زادت من إنتاج هذه الثروة .
- ٦- أهم غايات التكامل الاقتصادي بين دول العالم الإسلامي . ص ٨٥
- مواجهة التحديات الاقتصادية التي تعيق التقدم الاقتصادي لها .
 - تحقيق أكبر قدر من الرفاهية الاقتصادية .
 - الاستفادة من الموارد الطبيعية والبشرية على أكمل وجه .
 - الاستفادة من التجارب الاقتصادية وتبادل الخبرات فيما بينها .

(ن) فرق بين كل مما يلي من حيث التعريف :

| الوالي ص ٣٢ | الخلافة ص ٣٢ |
|---|--|
| - الشخص الذي يعينه الخليفة أميراً على منطقة من مناطق الدولة الإسلامية. | - رئاسة عامة للمسلمين في أمور الدين والدنيا . |
| السدود ص ٣٦ | شق قنوات الري ص ٣٥ |
| - الجدار الذي يبني لقطع مجرى النهر لمنع تدفق فيضانه أو لمنع سيول الأمطار في الأودية وجعلها خزانات لمياه الشرب والري . | - مجرى مائي تحت الأرض يربط بين سلسلة من آبار المياه الجوفية لاستغلالها لري مساحات شاسعة من الأراضي الزراعية . |
| المآذن ص ٤٢ | الأعمدة ص ٤١ |
| - أعلى بناء في المسجد والتي ينطلق منها صوت الأذان في أوقات الصلاة ، واتخذت عدة أشكال معمارية . | - تيجان وأقواس تأخذ شكل حدوة الحصان في غالبها وأصبحت سمة مميزة تدل على الفن المعماري الإسلامي. |
| التلال ص ٦٠ | الهضاب ص ٥٧ |
| - تأتي في الترتيب بعد الهضاب من حيث الارتفاع وهي ارتفاعات طبيعية من سطح الأرض تتميز بوجود قمة واضحة تشبه قمة الجبال لكنها أقل ارتفاعاً وأكثر انسيابية . | - أقل ارتفاعاً من الجبال وغالباً ما تكون صالحة للسكن إلا في حدود ضيقة وهي منشرة على نطاق واسع في دول العالم الإسلامي وتتنوع في أشكالها وأحجامها. |
| السهول الساحلية ص ٦١ | السهول الفيضية ص ٦١ |
| - الأراضي المنبسطة التي تجاور سواحل البحار والمحيطات . | - الأراضي المنخفضة التي تكونت من التربة التي حملتها مياه الأنهار . |

(و) قارن بين كل من حسب المطلوب منك في الجداول التالية :

| أوجه المقارنة | سهول السنغال ص ٦٢ | سهول تركيا ص ٦٢ |
|---------------|-------------------------|------------------|
| أشهرها | - كابور – بأول | - بورصة - قيصرية |
| مميزاتها | اتساعها وانخفاض أراضيها | خصوبتها العالية |

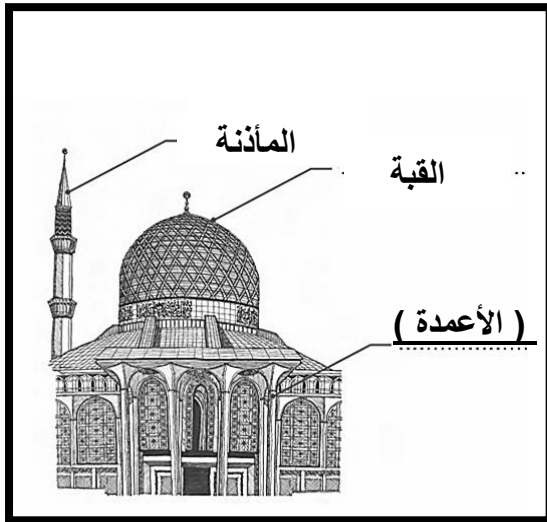
| أوجه المقارنة | النفط ص ٧٠ | الغاز الطبيعي ص ٧١ |
|---|--------------------------|--------------------|
| نسبة انتاج العالم الإسلامي من إجمالي انتاج العالم | ٣٠-٣٥ % . | ٣٦% |
| الدولة الأولى في الانتاج | المملكة العربية السعودية | قطر |

| أوجه المقارنة | اليورانيوم ص ٧٤ | الحديد ص ٧٤ | الفوسفات ص ٧٤ |
|--------------------------|------------------------------|---|-------------------------|
| نسبة الإنتاج | ٤١% | ٣% | ٣٥% |
| الدولة الأولى في الانتاج | جمهورية كازاخستان | موريتانيا | المملكة المغربية |
| الصناعات التي يدخل بها | - الطاقة النووية - الزجاج | - صناعة السيارات -المعدات الثقيلة والسفن | - الأسمدة - المنظفات |

(ي) لاحظ الصور التي أمامك ثم اجب عن الأسئلة المقابلة لها :



- ١- ما اسم هذه الأداة ؟
- البوصلة.
- ٢- ما المقصود بها ؟
- أداة ملاحية لتحديد الاتجاهات وتحتوي على مؤشر مغناطيسي يدور بحرية ليوجه نفسه دائما نحو الشمال.
- ٣- كيف طور المسلمون هذه الأداة ؟
- تثبيت الإبرة المغناطيسية فيها بدل ما كانت عائمة.
- ٤- لماذا تعتبر هذه الأداة ذات أهمية في انتعاش الحركة التجارية ؟ ص ٣٨
- لأنها سهّلت معرفة الاتجاهات على القوافل والسفن التجارية الإسلامية.



- ١ - ما هو المظهر العمراني الموضح في الصورة ؟ ص ٤١
- العمارات الدينية .
- ٢- أكتب على الشكل الجزء الناقص .
٣- عرّف المأذنة . ص ٤٢
- أعلى بناء في المسجد والتي ينطلق منها صوت الأذان في أوقات الصلاة ، واتخذت عدة أشكال معمارية .
- ٤- دلل على حرص دولة الكويت تشييد مساجدها وفق الطراز الإسلامي؟ ص ٤٢
- قامت ببناء المسجد الكبير في قلب العاصمة الذي أنشئ عام ١٩٨٦ م.



١- ما اسم المظهر التضاريسي الموضح في الصورة ؟ ص ٥٦
- الجبال .

٢- اكتب عن فوائده بالنسبة لدول العالم الإسلامي . ص ٥٦
- تسهم في توازن درجة حرارة الجو .
- تسهم بنزول الثلوج وهطول الأمطار وتخزين المياه .
- مصدر جذب للسياحة لما لها من مناظر جميلة .
- مصدر هام للثروات الطبيعية .


٣- فسر سبب قلة تركيز السكان في هذا المكان . ص ٥٦
- شدة انحدارها . - قلة وجود الأوكسجين
- انخفاض الضغط الجوي - صعوبة التنقل .



١ - ما اسم المعدن الظاهر في الصورة ؟ ص ٧٤
- الحديد .

٢- ما هي الصناعة التي يدخل فيها هذا المعدن ؟ ص ٧٤
- السيارات - المعدات الثقيلة - السفن

٣ - بما يتميز هذا المعدن ؟ ص ٧٤
- الانتشار الواسع في القشرة الأرضية . - سهولة طريقة وتشكيلة.
- سهولة استخراجه من الأرض . - رخص ثمنه بالنسبة للمعادن الأخرى.



١- ما هي أسماء الحبوب الظاهرة في الصورة ؟ ص ٧٧
- الأرز - القمح - الشعير - الذرة .

٢- كم تبلغ نسبة انتاج العالم الإسلامي منها ؟ ص ٧٧
- ١٤ % .

٣- كيف نجحت دولة الكويت في زراعة العديد من المنتجات الزراعية ؟
- استخدام وسائل الري الحديثة التي توفر المياه . ص ٧٧
- استخدام البيوت المحمية المكيفة لتفادي قسوة المناخ .
- الزراعة بدون تربة لتفادي مشكلة التربة الغير صالحة للزراعة .