

الصف
6



وزارة التربية
Ministry of Education
دولة الكويت | State of Kuwait
التوجيه الفني العام للاجتماعيات

بنك الأسئلة

دولة الكويت و دول الخليج العربية

الفصل الدراسي الأول
2025 - 2026

اعداد الموجهين الفنيين :

- ١. محمد ميرزا
- ١. عيسى ميرزا
- ١. احمد الصميط
- ١. عبدالرحمن الجمعة

مراجعة وتدقيق:

الموجة الأول بالتكليف
١. غدير الجيران

الاشراف العام :

الموجة الفني العام بالانابة
١. محمد علي العتيبي

محمد علي العتيبي

الموجه الفني العام للاجتماعيات بالانابة

التربية



وزارة

التوجيه الفني العام للاجتماعيات

السؤال الأول : (الأسئلة الموضوعية) :-

(أ) أكمل العبارات التالية بما يناسبها :

- ١- ذراع مائي لبحر العرب يمتد من خليج عمان جنوباً حتى شط العرب شمالاً يسمى (الخليج العربي). ص ١٦
- ٢- تقع منطقة دول الخليج العربية في الجهة الجنوبية الغربية من قارة (آسيا). ص ١٦
- ٣- تمتد دول منطقة الخليج العربية تقريباً بين خطي طول (٣٥° - ٦٠°) شرق خط جرينتش. ص ١٧
- ٤- ينصف مناخ منطقة دول الخليج العربية بأنه صحراوي (قاري). ص ٢٣
- ٥- تسقط الأمطار صيفاً على منطقتين في دول الخليج العربية هما منطقة الجبل الأخضر و منطقة أخرى تسمى (جبال عسير) ص ٢٤
- ٦- الرياح الشمالية الغربية التي تهب في فصل الصيف تسمى (السموم). ص ٢٤
- ٧- الرياح الجافة شديدة الحرارة تؤدي لإثارة الغبار والعواصف الترابية تسمى (الطوز). ص ٢٤
- ٨- رياح تهب من الجهة الجنوبية الشرقية وتكون محملة ببخار الماء وتؤدي لارتفاع نسبة الرطوبة تسمى (الكوس). ص ٢٤
- ٩- رياح تهب في فصل الشتاء وتكون باردة وتسبب هطول الأمطار تسمى (الشمالية الغربية). ص ٢٤
- ١٠- أهم العوامل المؤثرة في نمو النباتات الطبيعية وتوزيعها يسمى (المناخ). ص ٢٧
- ١١- نبات تعتبر زهرته (الزهرة الوطنية) لدولة الكويت تسمى (العرفج). ص ٢٧
- ١٢- يقع أهم حوض للمياه الجوفية العذبة في دولة الكويت بمنطقة تسمى (الروضتين). ص ٣١
- ١٣- توجد المياه شبه العذبة (قليلة الملوحة) في دولة الكويت في منطقة تسمى (الصليبية). ص ٣١
- ١٤- أول محطة لتحلية المياه في الكويت وتم تشغيلها عام ١٩٥٣ م تسمى (محطة الشويخ). ص ٣٢

(ب) اكتب المفهوم أو المصطلح الدال على كل عبارة مما يلي :

م	المفهوم أو المصطلح	العبارة
١	مياه الصليبية	مياه جوفية قليلة الملوحة مضاف لها مياه مقطرة. ص ٣١
٢	مياه الصرف المعالجة	التي تصرف في شبكات الصرف وهي ملوثة لاستخدامها من قبل الإنسان. ص ٣٢
٣	التضاريس	أشكال سطح الأرض. ص ٢٠
٤	النباتات الحولية	نباتات طبيعية يرتبط وجودها بموسم سقوط الأمطار. ص ٢٧
٥	النباتات المعمرة	نباتات طبيعية متوفرة طوال العام بسبب تحملها الجفاف وارتفاع درجة الحرارة. ص ٢٧

(ج) ١- صنف أشكال التضاريس التالية حسب المطلوب في الجدول ادناه : ص ٢٢

(جال الزور - نجد - الربع الخالي - الإحساء - النفوذ - الحجاز - عسير - الجبل الأخضر - تهامة)

الجبال	التلال	الهضاب	السهول	الصحراء
الحجاز	جال الزور	نجد	الإحساء	الربع الخالي
عسير			تهامة	النفوذ
الجبل الأخضر				

٢- صنف النباتات الطبيعية التالية حسب مكانها الصحيح في الجدول ادناه : ص ٢٧

(الخبيزة - الهرم - الحويذان - العرفج - العنصيل - الرمث)

النباتات المعمرة	النباتات الحولية
العرفج - الهرم - الرمث	الخبيزة - الحويذان - العنصيل

بنك الأسئلة لا يغني عن الكتاب المدرسي

(د) ظل الخيار الصحيح من بين الخيارات التي تلي كل عبارة:

١- الدولة الخليجية التي توجد فيها جبال الحجاز: ص ٢٢

أ- المملكة العربية السعودية	ب- الإمارات العربية المتحدة	ج- قطر	د- البحرين
-----------------------------	-----------------------------	--------	------------

٢- تمتد دول منطقة الخليج العربية تقريباً بين دائرتي عرض: ص ١٧

أ- ٥° - ١٥° شمالاً	ب- ١٥° - ٣٥° شمالاً	ج- ٢٥° - ٤٥° شمالاً	د- ٣٥° - ٥٥° شمالاً
--------------------	---------------------	---------------------	---------------------

٣- تعد الأمطار قليلة في معظم دول الخليج العربية إلا أنها تزداد في المناطق: ص ٣١

أ- الجبلية	ب- السهلية	ج- البحرية	د- الصحراوية
------------	------------	------------	--------------

٤- العام الذي تم فيه تشغيل أول محطة تحلية للمياه في دولة الكويت: ص ٣٢

أ- ١٩٥١ م	ب- ١٩٥٢ م	ج- ١٩٥٣ م	د- ١٩٥٤ م
-----------	-----------	-----------	-----------

٥- الدولة الخليجية التي فيها أهم أحواض المياه الجوفية حوض صحراء الربع الخالي: ص ٣١

أ- قطر	ب- البحرين	ج- الكويت	د- المملكة العربية السعودية
--------	------------	-----------	-----------------------------

٦- توجد المياه الجوفية في دولة الكويت: ص ٣١

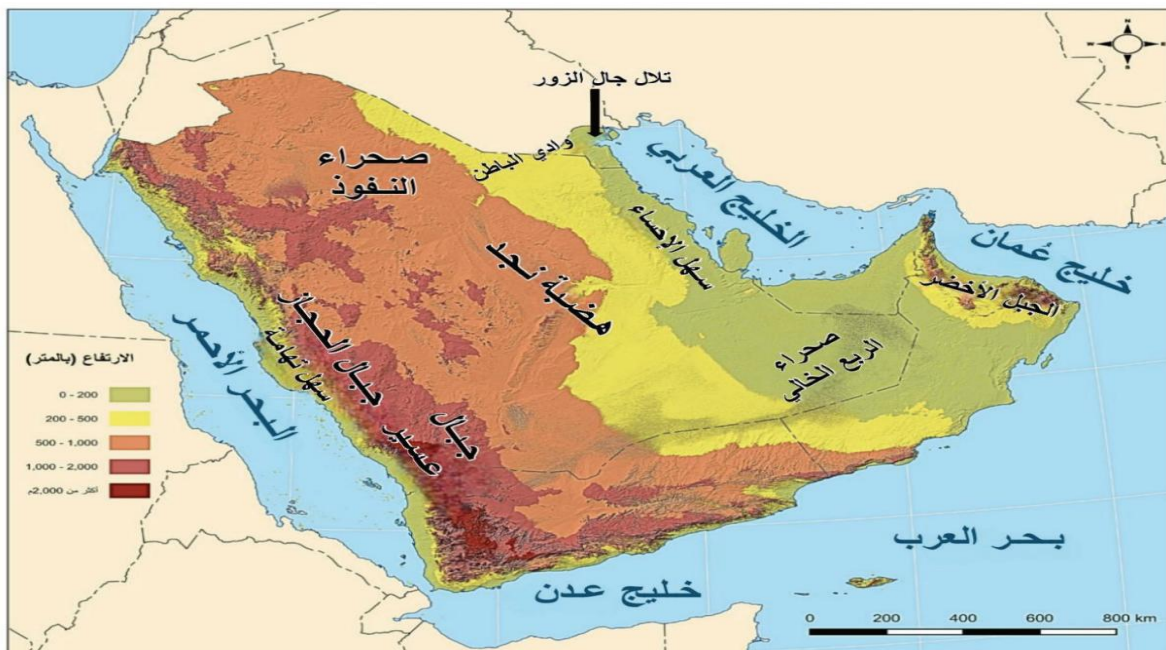
أ- أم نقا	ب- الروضتين	ج- جال الزور	د- تلال اللياح
-----------	-------------	--------------	----------------

(هـ) لاحظ خريطة دول الخليج العربية ثم حدد المطلوب عليها :

١- أشكال التضاريس: ص ٢٢

(الجبل الأخضر- تلال جال الزور - صحراء الربع الخالي- سهل الإحساء- وادي البطن - صحراء النفوذ - هضبة نجد -

جبال عسير - جبال الحجاز - سهل تهامة)



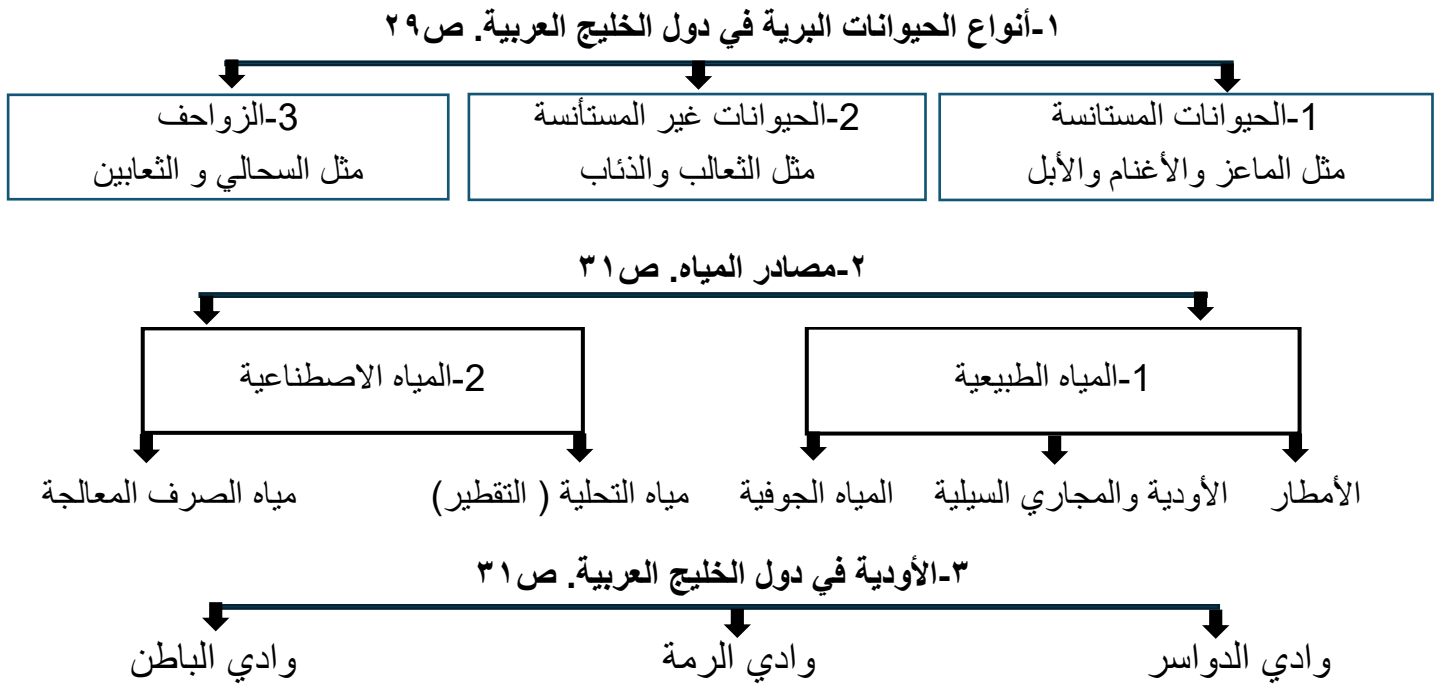
٢- دول الخليج العربية وعواصمها والمسطحات المائية المطلة عليها: ص ١٥



٣- حدد المناطق الجوفية في دولة الكويت: ص ٣١



(و) أكمل المخططات السهمية التالية بما يناسبها:



السؤال الثاني: (الأسئلة المقالية) :-

(أ) فرق بين كل مما يلي من حيث (التعريف) :

الأودية	السهول	الهضاب	الجبال
الوادي منخفض بين منطقتين مرتفعتين	أجزاء فسيحة من سطح الأرض تتميز باستوائها وقلة ارتفاعها	أرض مرتفعة سطحها مستوٍ وتمتد لمساحة كبيرة	كل مرتفع له قمة لا يقل ارتفاعه عن ١٠٠٠ متر وإذا قل ارتفاعه عن ١٠٠٠ متر يسمى تلاً (ص ٢٠)
(ص ٢٠)	(ص ٢٠)	(ص ٢٠)	(ص ٢٠)

الطقس	المناخ
حالة الجو في مكان ما لمدة قصيرة تتراوح بين يوم أو عدة أيام (ص ٢٣)	حالة الجو في مكان ما خلال فترات زمنية طويلة (ص ٢٣)

(ب) عرف ما يلي :

- ١-الموقع النسبي: موقع مكان ما بالنسبة لغيره من الأماكن (اليابس أو الماء). ص ١٦
- ٢-الموقع الفلكي: الموقع بالنسبة لخطوط الطول ودوائر العرض. ص ١٧
- ٣-النبات الطبيعي: نبات ينمو بصورة طبيعية دون أن يتدخل الإنسان بنموه وتوزيعه. ص ٢٧
- ٤-المياه الاصطناعية: المياه التي يحولها الإنسان باستخدام التكنولوجيا من مياه غير صالحة للاستخدام إلى مياه يمكن استخدامها. ص ٣٢
- ٥-مياه الصرف المعالجة: التي تُصرف في شبكات الصرف وهي ملوثة لاستخدامها من قبل الإنسان. ص ٣٢

- ١- الأهمية الاستراتيجية لموقع دول منطقة الخليج العربية. ص ١٨
-لكونها تقع في وسط العالم.
-الاحتياطي النفطي الضخم أعطاها ميزة استراتيجية هائلة.
-تتحكم بأهم طرق التجارة العالمية.
-يمتاز الخليج العربي بشواطئ تصلح موانئ للسفن.
- ٢-تتنوع التضاريس في منطقة دول الخليج العربية. ص ٢٠
-بسبب العوامل الطبيعية فالمنطقة منبسطة في أغلبها حيث تمتد السهول شرقاً على سواحل الخليج العربي.
- ٣-يتصف مناخ منطقة دول الخليج العربية بأنه صحراوي قاري. ص ٢٣
-بسبب شدة الجفاف.
-قلة الأمطار.
- ٤-تسقط الأمطار على منطقة الجبل الأخضر وجبال عسير صيفاً. ص ٢٤
-بسبب اصطدام الرياح المحملة ببخار الماء فتسقط عليهما الأمطار.
- ٥-تختلف النباتات الطبيعية في توزيعها من مكان لآخر. ص ٢٧
بسبب عدة عوامل طبيعية منها المناخ ونوع التربة و التضاريس والموقع الجغرافي.
- ٦-فقر الغطاء النباتي في دولة الكويت. ص ٢٨
-وجود طبقة جيرية تحت سطح التربة مما يعيق تصريف المياه.
-ضخالة التربة وافتقارها إلى المواد العضوية.
-الظروف المناخية القاسية مثل قلة الأمطار ودرجة الحرارة العالية.
- ٧-تتميز الحيوانات في منطقة دول الخليج العربية بقدرتها على التكيف مع الظروف البيئية الصحراوية القاسية. ص ٢٩
-بسبب فقر الغطاء النباتي.
-قلة موارد المياه العذبة.
- ٨-تعتبر مياه التحلية (التقطير) من أهم مصادر المياه الاصطناعية في دول الخليج العربية. ص ٣٢
-لقلة معدلات الأمطار.
-قلة الموارد المائية العذبة.

(د) اذكر المطلوب لكل مما يلي :

- ١- عناصر المناخ والطقس. ص ٢٣
-درجة الحرارة. -الضغط الجوي. -الرياح. -الرطوبة. -التساقط (الأمطار).
- ٢- أنواع الحيوانات في دول الخليج العربية. ص ٢٩
-الحيوانات البرية وتنقسم إلى الحيوانات المستأنسة (الماعز-الأغنام-الأبل) وغير المستأنسة (الثعالب-الذئاب) والزواحف (السحالي-الثعابين).
-الحيوانات البحرية وهي الأسماك مثل الزبيدي والهامور والقشريات.
-الطيور مثل الحباري والصقور.
- ٣-الدول التي تصدر عدد محطات تحلية مياه البحر. ص ٣٢
-المملكة العربية السعودية.
-الإمارات العربية المتحدة.
- ٤-مجالات استخدام مياه الصرف المعالجة. ص ٣٢
-الأغراض الصناعية: تبريد المعدات والآلات الصناعية.
-الأغراض التجميلية: ري المزروعات على كتف الطريق.
-الأغراض البيئية: استصلاح الأراضي الفقيرة.
- ٥-الجبال التي تسقط عليها الأمطار الصيفية. ص ٢٤
-الجبل الأخضر. -جبال عسير.

أوجه المقارنة	خطوط الطول ص ١٧	دوائر العرض ص ١٧
التعريف	أقواس مرسومة حول سطح الأرض بين القطب الشمالي والجنوبي وتقسّم الأرض إلى شرقي وغربي	دوائر مرسومة حول سطح الأرض وتقسّم الأرض إلى قسمين شمالي وجنوبي
الخط الرئيسي	خط جرينتش	خط الاستواء
العدد	٣٦٠ خط	١٨٠ دائرة

أوجه المقارنة	فصل الصيف ص ٢٤	فصل الشتاء ص ٢٤
درجة الحرارة	ترتفع إلى أكثر من ٤٠°	تنخفض درجة الحرارة إلى أقل من ٤°
طول الفصل	يمتد معظم أيام السنة	قصير جداً
حالة الجو	حار ورطب خاصة في المناطق الساحلية	يمتاز بالدفء

أوجه المقارنة	النباتات الحولية ص ٢٧	النباتات المعمرة ص ٢٧
التعريف	نباتات طبيعية يرتبط وجودها بموسم سقوط الأمطار	نباتات طبيعية متوفرة طوال العام بسبب تحملها الجفاف وارتفاع درجة الحرارة
الأنواع	الخبيزة – الحويزان – العنصيل	العرفج – الهرم – الرمث – الثندا

(و) اذكر النتيجة المترتبة على كل مما يلي :

١- هبوب الرياح الشمالية الغربية على منطقة الخليج العربية في فصل الشتاء. ص ٢٤
تجعل الطقس أكثر برودة وتسبب سقوط الأمطار.

٢- هبوب الرياح الشمالية الغربية في فصل الصيف. ص ٢٤
تؤدي لإثارة الغبار والعواصف الترابية (الطوز).


٣- هبوب الرياح الجنوبية الشرقية (الكوس). ص ٢٤
تؤدي لارتفاع نسبة الرطوبة في الهواء.

ص ١٦



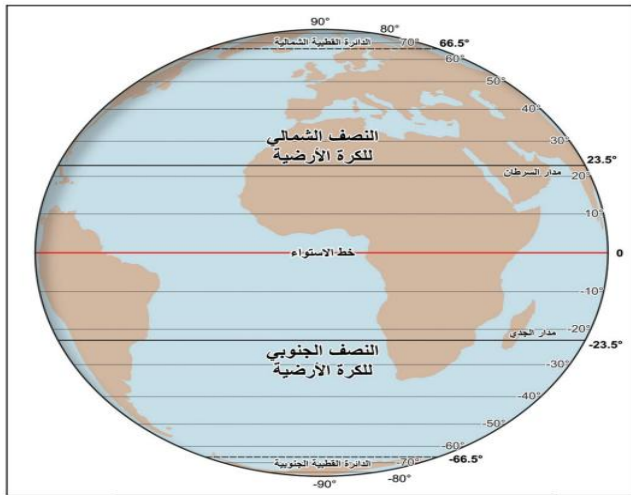
شكل (٢) خريطة موقع منطقة دول الخليج العربية بالنسبة لقارات العالم

ص ١٦



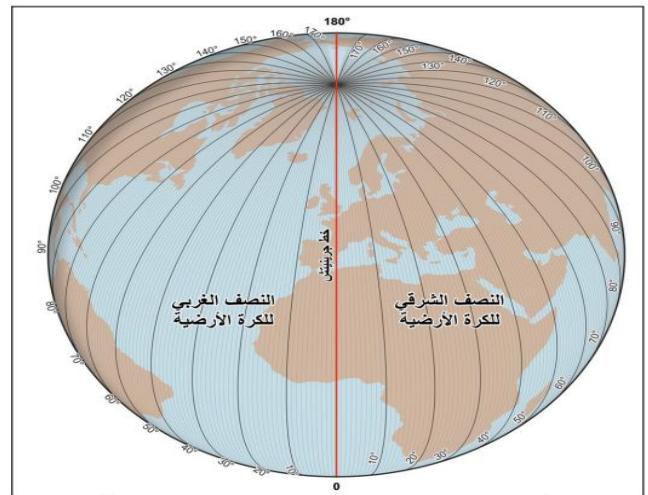
شكل (١) الخليج العربي

ص ١٦



شكل (٤) دوائر العرض

ص ١٦



شكل (٣) خطوط الطول




شكل (٥) أشكال التضاريس



شكل (١١) الأسماك



شكل (١٠) حيوانات برية



شكل (١٢) الطيور

ص ٢٩



شكل (١٤) محطة الشويخ في دولة الكويت



الأغراض الصناعية
تبريد المعدات والآلات الصناعية

الأغراض التجميلية
ري المزروعات على كتف الطريق

الأغراض البيئية
استصلاح الأراضي الفقيرة

السؤال الأول : (الأسئلة الموضوعية) :-

(أ) أكمل العبارات التالية بما يناسبها :

- ١- الدولة الخليجية التي ظهرت فيها حضارة هيلي اسمها (دولة الإمارات العربية) . ص ٤٦
- ٢- الدولة الخليجية التي ظهرت فيها حضارة مجان اسمها (سلطنة عمان) . ص ٤٦
- ٣- الاسم الذي أطلق على الحضارة الهلنستية في جزيرة فيلكا (إيكاروس) . ص ٤٨
- ٤- القرن الذي نزل فيه الإسلام بمنطقة الخليج العربية (السابع الميلادي) . ص ٥٠
- ٥- المدينة التي نزل فيها دين الإسلام على النبي محمد صلى - الله عليه وسلم . (مكة المكرمة) . ص ٥٠
- ٦- الحضارة التي عثر فيها على حجر إيكاروس تسمى (الهلنستية) . ص ٤٨

(ب) اكتب المفهوم أو المصطلح الدال على كل عبارة مما يلي :

م	المفهوم أو المصطلح	العبارة
١	الحضارة	هي كل ما يطرأ على المجتمع من تقدم ورقي في جميع نواحي الحياة الروحية والمادية. ص ٤٢
٢	البنر	حفرة تحفر في الأرض لاستخراج المياه الجوفية. ص ٤٣
٣	الجليب	مسمى يطلق على البنر في اللهجة الخليجية العامية والكويت خاصة وهو حفرة تحفر في الأرض لاستخراج المياه الجوفية . ص ٤٣
٤	حضارة العبيد	حضارة قامت في منطقة الصبية (٥٥٠٠-٤٥٠٠ ق.م) وعثر فيها على الرحي الحجرية وأدوات الغزل. ص ٤٨

(ج) اختر للمجموعة (أ) ما يناسبها من المجموعة (ب) بوضع الرقم في المكان المناسب:

م	المجموعة (أ)	الرقم	المجموعة (ب)
١	الحضارة التي اشتهرت بصناعة الاختام وصناعة السفن ونقل النحاس والخشب والتمور واللؤلؤ	٤	حضارة هيلي ص ٤٦
٢	الحضارة التي اشتهرت بصهر النحاس لصناعة السيوف والسهام والسكاكين وكانت محطة تجارية بسبب موقعها على خليج عمان	١	حضارة دلمون ص ٤٦
٣	الحضارة التي توافرت فيها مصادر المياه العذبة وزراعة النخيل وقامت في المملكة العربية السعودية	٢	حضارة مجان ص ٤٦
٤	الحضارة التي أشهر أثارها المقابر الحجرية الدائرية وقامت في دولة الإمارات العربية	٣	حضارة تاروت ص ٤٦
		—	الحضارة الهلنستية ص ٤٥

م	المجموعة (أ) ص ٥١	الرقم	المجموعة (ب) ص ٥١
١	مسجد الخميس	٣	دولة الامارات العربية
٢	موقع صحار	١	مملكة البحرين
٣	موقع الدريحانية	٤	المملكة العربية السعودية
٤	موقع الجار	—	دولة الكويت
		٢	سلطنة عمان

(د) ظلل الخيار الصحيح من بين الخيارات التي تلي كل عبارة:

١-الدولة التي ظهرت فيها حضارة دلمون : ص ٦٤

أ-مملكة البحرين	ب-المملكة العربية السعودية	ج-دولة الإمارات العربية	د-سلطنة عمان
-----------------	----------------------------	-------------------------	--------------

٢- الدولة التي ظهرت فيها حضارة تاروت: ص ٦٤

أ-مملكة البحرين	ب- سلطنة عمان	ج-دولة الإمارات العربية	د- المملكة العربية السعودية
-----------------	---------------	-------------------------	-----------------------------

٣- المدينة التي هاجر إليها النبي محمد صلى الله عليه وسلم بعد البعثة لتبدأ ملامح الحضارة الإسلامية : ص ٥٠

أ-الرياض	ب-مكة المكرمة	ج-المدينة المنورة	د-الدمام
----------	---------------	-------------------	----------

٤- العام الذي حدثت فيه معركة ذات السلاسل بين المسلمين والفرس : ص ٥٣

أ- ١١ هـ	ب- ١٢ هـ	ج- ١٣ هـ	د- ١٤ هـ
----------	----------	----------	----------

٥-المنطقة الكويتية التي عثر فيها على أدوات الغزل: ص ٨٤

أ-الصبية	ب-الشقايا	ج-السالمي	د-الوفرة
----------	-----------	-----------	----------

٦-الحضارة التي اشتهرت بالمقابر الحجرية الدائرية: ص ٦٤

أ-حضارة دلمون	ب-حضارة تاروت	ج-حضارة هيلي	د-حضارة مجان
---------------	---------------	--------------	--------------

٧-المعدن الذي اشتهرت حضارة مجان بصهره: ص ٦٤

أ-الذهب	ب-الفضة	ج-حديد	د-النحاس
---------	---------	--------	----------

٨-ظهرت حضارة دلمون في مملكة البحرين قبل: ص ٦٤

أ- ٤٠٠٠ سنة	ب- ٥٠٠٠ سنة	ج- ٦٠٠٠ سنة	د- ٧٠٠٠ سنة
-------------	-------------	-------------	-------------

٩-وقعت معركة ذات السلاسل بين جيشين هما: ص ٥٣

أ-المسلمين والروم	ب-المسلمين والغساسنة	ج-المسلمين والفرس	د-المسلمين والمناذرة
-------------------	----------------------	-------------------	----------------------

١٠-المنطقة التي عثر فيها على آثار مستعمرات بشرية لوقوعها على طريق الحج: ص ٥٣

أ-الشقايا ووادي الباطن	ب-السالمي	ج-الوفرة	د-العبدلي
------------------------	-----------	----------	-----------

١١-الدولة الخليجية التي توجد بها دار الآثار الإسلامية : ص ٤٥

أ-البحرين	ب-عمان	ج-الكويت	د-قطر
-----------	--------	----------	-------

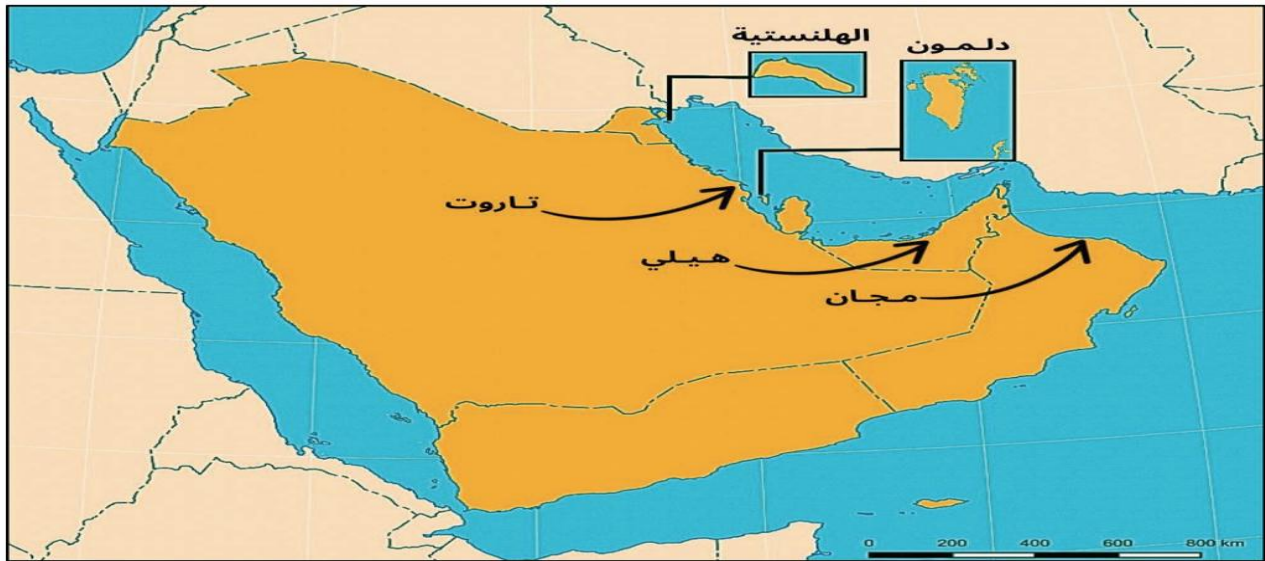
(و) لاحظ خريطة دول الخليج العربية ثم حدد المطلوب عليها :

بنك الأسئلة لا يغني عن الكتاب المدرسي

١- دول الخليج العربية : ص ١٤



٢- حضارات دول الخليج العربية: ص ٤٥

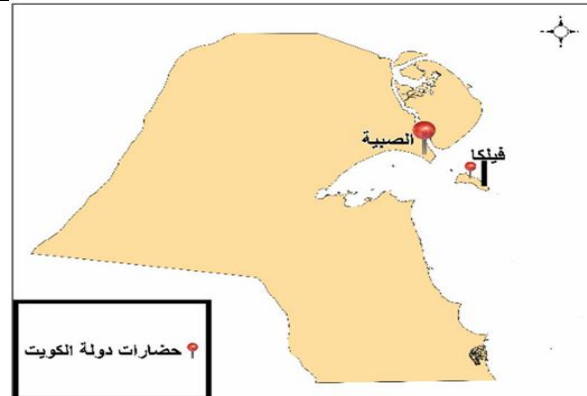


(هـ) لاحظ خريطة دولة الكويت ثم حدد المطلوب عليها :

الحضارات الإسلامية التي قامت في دولة الكويت ص ٥٣



الحضارات التي قامت في دولة الكويت ص ٤٨



(هـ) أكمل المخططات السهمية التالية بما يناسبها:

١-العوامل المؤثرة في نشأة الحضارات بمنطقة الخليج العربية. ص ٣٤



٢-نماذج من حضارات منطقة دول الخليج العربية. ص ٦٤



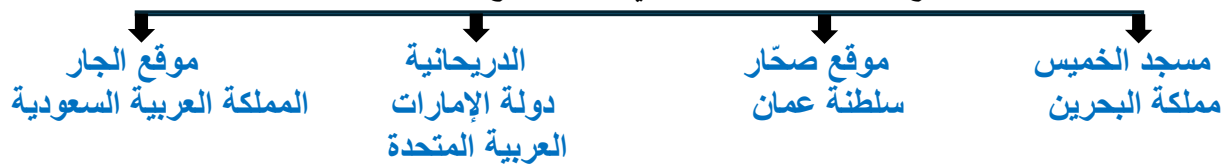
٣- الحضارات التي قامت في دولة الكويت. ص ٨٤



٤-مظاهر الحضارة الإسلامية. ص ٥٠



٥-مواقع الحضارة الإسلامية في دول الخليج العربية. ص ٥١



٦-مواقع الحضارة الإسلامية في دولة الكويت. ص ٥٣



السؤال الثاني: (الأسئلة المقالية) :-

(أ) عرف ما يلي :

- ١- الحضارة: هي كل ما يطرأ على المجتمع من تقدم ورقي في جميع نواحي الحياة الروحية والمادية. ص ٢٤
- ٢- البئر: يطلق عليه مسمى الجليب في اللهجة الخليجية العامة والكويت خاصة وهو حفرة تحفر في الأرض لاستخراج المياه الجوفية. ص ٣٤

(ب) علل ما يلي :

- ١- الأهمية الاستراتيجية لموقع دول منطقة الخليج العربية. ص ٣٤
لكونها تقع في وسط العالم القديم (آسيا – أفريقيا – أوروبا).
- ٢- الأهمية التاريخية لموقع منطقة الخليج العربية. ص ٥٤
-ازدهار الحضارة الإسلامية فيها بمختلف جوانبها.
- ٣- استقر الهلنستيون في جزيرة فيلكا. ص ٨٤
-بسبب كثرة آبارها العذبة وخصوبة أراضيها.

(ج) اكتب المطلوب لكل مما يلي:

- ١- العوامل المؤثرة في نشأة الحضارات بمنطقة الخليج العربية. ص ٣٤
-الموقع الجغرافي.
-الاستقرار السكاني.
-الموارد الطبيعية.
-البيئة والمناخ.
- ٢- مميزات الحضارة الهلنستية في جزيرة فيلكا عن غيرها من الحضارات. ص ٨٤
-كثرة آبارها العذبة.
-العثور على مجموعة عملات نحاسية وأختام دلمونية.
- ٣- الأماكن التي تمثل الاستقرار البشري في جزيرة فيلكا. ص ٨٤
-تل الخزنة.
-القلعة الهلنستية.

(د) قارن بين حضارات منطقة دول الخليج العربية حسب المطلوب في الجدول: ص ٦٤

اسم الحضارة	الدولة التي توجد فيها الحضارة	خصائص الحضارة
حضارة دلمون	مملكة البحرين	١- صناعة الأختام ٢- صناعة السفن التي تنقل النحاس والخشب والتمور واللؤلؤ
حضارة تاروت	المملكة العربية السعودية	١- مصادر المياه العذبة ٢- زراعة النخيل
حضارة هيلي	دولة الإمارات العربية	المقابر الحجرية الدائرية
حضارة مجان	ساحل خليج عمان	١- محطة تجارية بسبب موقعها على ساحل خليج عمان ٢- صهر النحاس لصناعة السيوف والسهام والسكاكين

(هـ) برهن على صحة العبارات التالية :

١- تقع منطقة الخليج العربي في موقع استراتيجي. ص ٣٤

-يربط موقعها بين قارات العالم القديم آسيا وأفريقيا وأوروبا.
-ازدهرت التجارة والملاحة منذ القدم.
-الموانئ الخليجية محطات مهمة على طرق التجارة البحرية القديمة.

٢- نشأة حضارة العبيد في منطقة الصبية. ص ٨٤

-الأثار التي كشفت عن وجود مستوطنات بشرية.
-العثور على الرحي المستخدمة في طحن الغلال.
-العثور على أدوات الغزل وهذا يدل على وجود نمط حياة مستقر.

٣- أهمية منطقة كاظمة كمركز تجاري حضاري في دولة الكويت. ص ٥٣

-العثور على عملات من العصر الأموي يدل على أهميتها كونها مركز تجاري.

٤- اهتمام دولة الكويت بالحضارة الإسلامية . ص ٥٤

-أنشأت دولة الكويت دار الآثار الإسلامية في مبنى المستشفى الأمريكي الذي يعرض مجموعة من الآثار الإسلامية التي يعود تاريخها لمئات السنين وتضم أكثر من ٢٠٠ ألف قطعة أثرية وقام هناك أنشطة ومعارض ثقافية.

(و) اذكر النتيجة المترتبة على كل مما يلي :

١-وفرة المياه الجوفية العذبة (الآبار) . ص ٣٤

- ممارسة حرفة الزراعة في بعض مناطق الخليج.

٢-توفر الثروات الطبيعية كاللؤلؤ والثروة السمكية على طول ساحل الخليج العربي. ص ٣٤

- تنشيط الحركة الاقتصادية.

٣-استقرار السكان في القرى الساحلية والواحات. ص ٤٤

- بناء أنظم مجتمعية تمثلت في بناء غرف وبيوت ذات أشكال دائرية تليها مبان ذات أشكال مربعة ومستطيلة.

(س) لاحظ الصورة المقابلة ثم أجب عما يليها من أسئلة :

بنك الأسئلة لا يغني عن الكتاب المدرسي



١-العامل المؤثر في نشأة الحضارات في الصورة المقابلة يسمى

المياه الجوفية العذبة (الآبار) ص ٣٤

٢-يطلق على البئر في اللهجة الكويتية المحلية اسم الجليب



١-يطلق على الآثار التي تمثلها الصورة المقابلة والتي قامت في جزيرة فيلكا

اسم الحضارة الهلنستية. ص ٨٤

٢- سميت الحضارة الهلنستية في جزيرة فيلكا اسم (إيكاروس) نسبة إلى حجر

يسمى إيكاروس. ص ٨٤

(ش) أقرأ الفقرة التالية ثم أجب عما يليها من أسئلة :

اهتمت دولة الكويت بنشر الثقافة الإسلامية والمحافظة على الهوية الإسلامية من خلال إنشاء دار الآثار الإسلامية في مبنى المستشفى الأمريكي في مدينة الكويت ، ويعرض هذا الصرح الثقافي مجموعة من الآثار الإسلامية التي يعود تاريخها لمئات السنين وتضم أكثر من ٢٠٠ ألف قطعة أثرية وتقام فيه عدة أنشطة ومعارض ثقافية.

١- ضع عنوان مناسب للفقرة السابقة. ص ٥٤

دور الكويت تجاه آثار الحضارة الإسلامية

٢- علل / إنشاء دار الآثار الإسلامية. ص ٥٤

لاهتمام دولة الكويت بنشر الثقافة الإسلامية والمحافظة على الهوية الإسلامية.

٣- استخرج من الفقرة السابقة الآثار الإسلامية التي تم اكتشافها في دولة الكويت.

آثار إسلامية يعود تاريخها لمئات السنين وتضم أكثر من ٢٠٠ ألف قطعة أثرية.

قامت عدة حضارات في منطقة دول الخليج العربية مثل حضارة دلمون ، حضارة تاروت ، حضارة هيلي وحضارة مجان وأصبحت مصدراً لجذب السكان ، نشأت معظم حضارات دول الخليج على ساحل الخليج العربي ، ومن أهم خصائص هذه الحضارات أنها كانت بمثابة محطات تجارية بسبب موقعها ، واشتهرت كل حضارة بمعالمها الخاصة حيث تميزت حضارة دلمون بصناعة الأختام وصناعة السفن ، واشتهرت حضارة تاروت بزراعة النخيل واشتهرت حضارة مجان بصهر النحاس لصناعة السيوف والسهام والسكاكين.

١- ضع عنوان مناسب للفقرة السابقة.

حضارات منطقة دول الخليج العربية

٢- استخرج من الفقرة السابقة الحضارات التي قامت في منطقة دول الخليج العربية. ص ٤٦

حضارة دلمون ، حضارة تاروت ، حضارة هيلي وحضارة مجان

٣- اذكر استخدامات النحاس في حضارة مجان.

صناعة السيوف والسهام والسكاكين.

(ي) ضع عنوان مناسب لما تمثله كل صورة مما يلي :



شكل (١٨) بئر لمياه الشرب



شكل (١٦) قلعة تاروت



شكل (١٥) نقوش حجرية



شكل (٢٣) الآثار الهلنستية



شكل (٢١) مقابر هيلي



شكل (٢٠) أختام دلمون



شكل (٢٤) الفن



شكل (٢٨) متحف دار القرآن
في مملكة البحرين




شكل (٢٧) متحف الشارقة للحضارة الإسلامية
في الإمارات العربية المتحدة



شكل (٣٠) دار الآثار الإسلامية الكويت



شكل (٢٦) الصناعة



شكل (٢٥) العمران

السؤال الأول : (الأسئلة الموضوعية) :-

(أ) أكمل العبارات التالية بما يناسبها :

- ١- السلالة التي تنحدر منها الأصول السكانية لسكان منطقة الخليج العربي تسمى (سلالة البحر المتوسط). ص ٦٢
- ٢- المنطقة التي هاجر منها العتوب في إقليم نجد تسمى (الهدار). ص ٦٦
- ٣- العام الذي تكون فيه الحلف الثلاثي بين أسرة آل الصباح و آل خليفة وآل جلاهمة (١٧١٦ م). ص ٦٨
- ٤- دولة الإمارات العربية المتحدة كانت تعرف باسم (الساحل المتصالح). ص ٧٢
- ٥- الأسرة التي استقرت وحكمت سلطنة عمان بعد حكم اليعاربة اسمها (البوسعيد). ص ٧١

(ب) اكتب المفهوم أو المصطلح الدال على كل عبارة مما يلي :

م	المفهوم أو المصطلح	العبارة
١	العتوب	أي عتب وانتقل من مكان إلى آخر وهم جماعة مهاجرة بحثاً عن موطن جديد يوفر لهم حياة أفضل وتنتمي لها عدة أسر هم آل صباح وآل خليفة وآل جلاهمة. ص ٦٦
٢	القرين	مشتق من كلمة القرن وتعني التل أو الأرض المرتفعة. ص ٦٨
٣	الكوت	الحصن الصغير. ص ٦٨

(ج) ١- صنف عوامل الهجرات الداخلية في منطقة الخليج العربية التالية حسب المطلوب في الجدول ادناه :
(الجفاف - الغوص على اللؤلؤ - النزاعات القبلية - قلة سقوط الأمطار - الحروب - التجارة البحرية - الزراعة في الواحات)

العوامل المناخية	العوامل الاقتصادية	العوامل السياسية
الجفاف قلة سقوط الأمطار ص ٦٤	الغوص على اللؤلؤ التجارة البحرية الزراعة في الواحات	النزاعات القبلية الحروب ص ٦٤

(د) اختر من المجموعة (أ) ما يناسبها من المجموعة (ب) بوضع الرقم في المكان المناسب:

م	المجموعة (أ) ص ٧٢	الرقم	المجموعة (ب) ص ٧٢
١	الشيخ الذي تأسست على يده مملكة البحرين	٣	الإمام أحمد بن سعيد
٢	الشيخ الذي تأسست على يده دولة قطر	٤	عبدالعزیز بن عبدالرحمن آل سعود
٣	الشيخ الذي تأسست على يده سلطنة عمان	١	أحمد بن محمد آل خليفة
٤	الملك الذي تأسست على يده المملكة العربية السعودية	—	سليمان بن أحمد
		٢	جاسم بن محمد آل ثاني

(هـ) ظلل الخيار الصحيح من بين الخيارات التي تلي كل عبارة:

١- تعد منطقة الخليج العربية ملتقى للهجرات القادمة من قارتين هما : ص ٦٢

أ- آسيا و أفريقيا	ب- آسيا و أوروبا	ج- آسيا و استراليا	د- آسيا و أمريكا
-------------------	------------------	--------------------	------------------

٢- الفترة التي تعرضت فيها شبه الجزيرة العربية إلى موجة القحط والجفاف: ص ٦٦

أ- منتصف القرن عشر	ب- منتصف القرن الخامس عشر	ج- منتصف القرن السادس عشر	د- منتصف القرن السابع عشر
-----------------------	------------------------------	------------------------------	------------------------------

٣- المدة التي مكثها العتوب في منطقة الزبارة في قطر : ص ٦٦

أ- لا تقل عن ٣٠ سنة	ب- لا تقل عن ٤٠ سنة	ج- لا تقل عن ٥٠ سنة	د- لا تقل عن ٦٠ سنة
---------------------	---------------------	---------------------	---------------------

٤- أول حاكم بايعه أهالي القرين اسمه : ص ٦٩

أ- سالم بن مبارك	ب- صباح بن جابر	ج- جابر بن مبارك	د- أحمد بن جابر
------------------	-----------------	------------------	-----------------

٥- العام الذي توفي فيه الشيخ سليمان بن أحمد وانتهاء الحلف الثلاثي: ص ٦٩

أ- ١٧١٦ م	ب- ١٧١٧ م	ج- ١٧١٨ م	د- ١٧١٩ م
-----------	-----------	-----------	-----------

٦- الدولة الخليجية التي تقع على الساحل الجنوبي الشرقي للخليج العربي وكانت تعرف بالساحل المتصالح: ص ٧٢

أ- الامارات العربية	ب- مملكة البحرين	ج- المملكة العربية السعودية	د- دولة قطر
---------------------	------------------	-----------------------------	-------------

٧- العام الذي تأسست فيه المملكة العربية السعودية على يد الملك عبدالعزيز بن عبدالرحمن آل سعود: ص ٧٢

أ- ١٩٣١ م	ب- ١٩٣٢ م	ج- ١٩٣٣ م	د- ١٩٣٤ م
-----------	-----------	-----------	-----------

٨- الأسر التي يرجع نسبها إلى بني ياس في أبو ظبي : ص ٧١

أ- آل خليفة وآل مكتوم	ب- آل ثاني و آل نهيان	ج- آل ثاني و آل خليفة	د- آل نهيان و آل مكتوم
-----------------------	-----------------------	-----------------------	------------------------

٦- الأسرة التي تنحدر من أسرة المعاضيد في قطر: ص ٧١

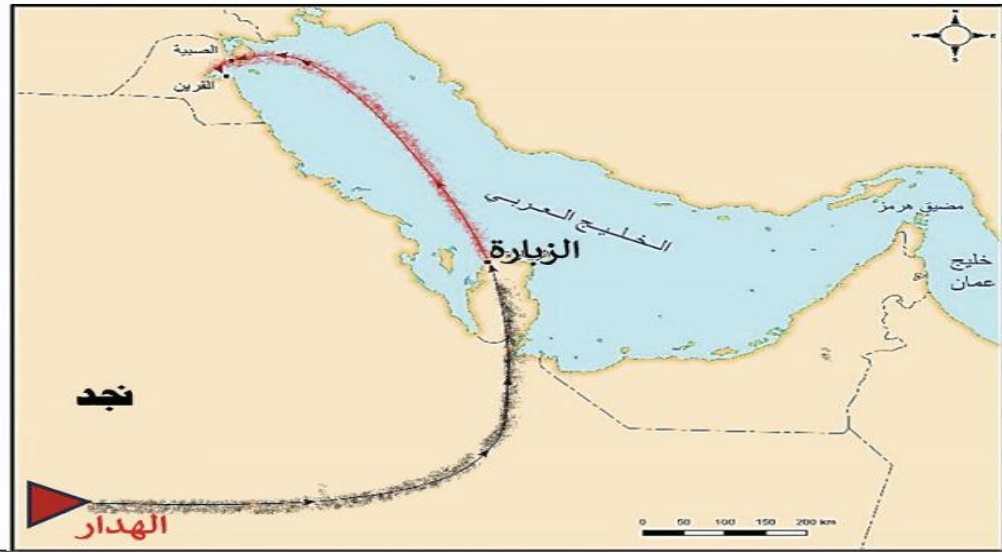
أ- آل مكتوم	ب- آل نهيان	ج- آل ثاني	د- آل خليفة
-------------	-------------	------------	-------------

(و) لاحظ خريطة دول الخليج العربية ثم حدد المطلوب عليها :

١- أسماء الهجرات إلى منطقة الخليج العربي : ص ٦١

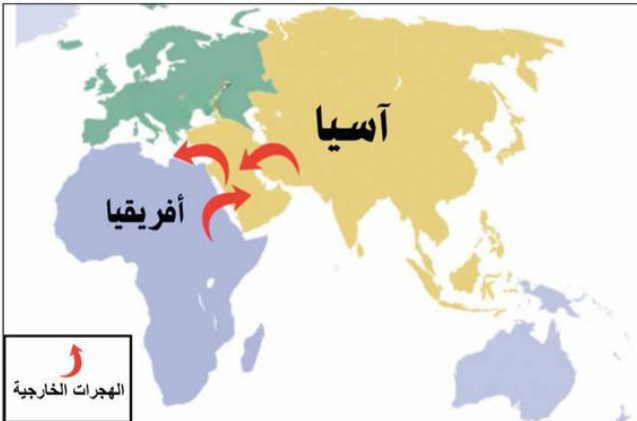


٢- خط سير هجرة العتوب من موطنهم الأصلي: ص ٦٦



(ي) لاحظ الهجرات في منطقة الخليج العربية لتفرق بين أنواع الهجرات : ص ٦٣

الهجرات الخارجية



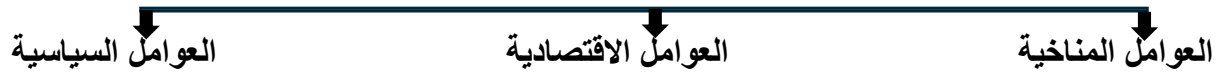
الهجرات الداخلية



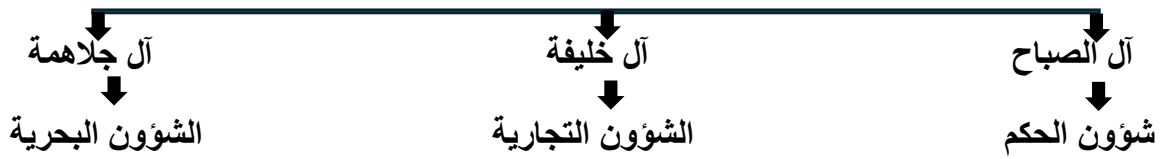
١- أنواع الهجرات في منطقة دول الخليج العربية. ص ٦٢



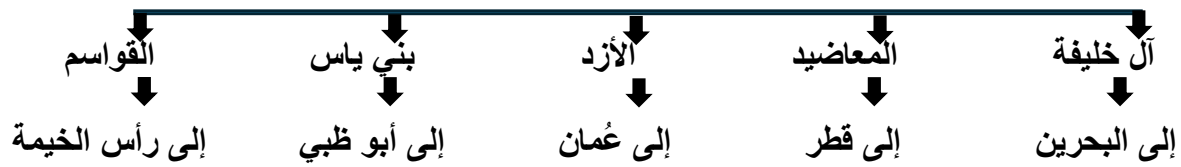
٢- عوامل الهجرات الداخلية في منطقة الخليج العربية. ص ٦٤



٣- تقسيم المهام بين الأسر الثلاث الكبرى المكونة للحلف الثلاثي. ص ٦٩



٤- الهجرات العربية في منطقة الخليج العربية. ص ٧١



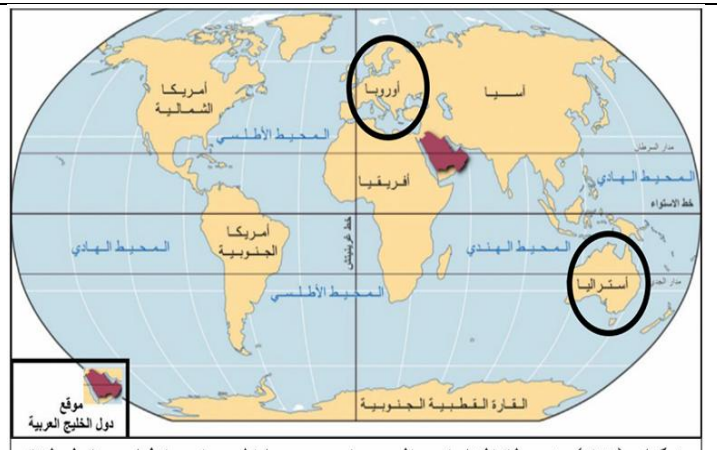
(ش) ضع عنوان مناسب لما تمثله كل صورة مما يلي :

ص ٦٤

ص ٦٣



كثرة الحروب سبب هجرة العتوب



شكل (٣٢) خريطة القارات التي وفدت منها الهجرات الخارجية لمنطقة الخليج العربية

السؤال الثاني: (الأسئلة المقالية) :-

(أ) عرف ما يلي :

- ١-السلالة: جماعة من البشر تتصف بصفات معينة تميزهم كمجموعة عن غيرهم من الجماعات البشرية الأخرى. ص ٦٢
- ٢-الهجرة: التغيير الدائم في مكان الإقامة. ص ٦٢

(ب) علل ما يلي :

- ١-استقرار سكان دول الخليج العربية في أطراف منطقة الخليج العربي. ص ٦٢
- بسبب الظروف الطبيعية القاسية.
- ٢- هجرة العديد من القبائل في منطقة الخليج العربية. ص ٦٤
- النزاعات القبلية وكثرة الحروب دفعتهم للهجرة بحثاً عن الأمان والاستقرار.
- ٣-سميت قبيلة العتوب بهذا الاسم . ص ٦٦
-عتب تعني انتقل من مكان إلى آخر حيث هاجروا من منطقة الهدار في إقليم نجد بحثاً عن موطن جديدي يوفر لهم حياة أفضل.

(ج) أجب عما يلي:

- ١-اذكر خط سير هجرة العتوب إلى القرنين. ص ٦٦
-الهجرة من الهدار في إقليم نجد منتصف القرن السابع عشر إلى الزبارة في قطر.
-ثم أبحروا إلى الصبية شمال جون الكويت.
-استقروا في القرنين وهنا كانت البداية الحقيقية لنشأة الكويت.

(د) فرق بين كل مما يلي من حيث (التعريف):

الهجرة الخارجية	الهجرة الداخلية
هي الانتقال عبر الحدود من دولة إلى دولة أخرى. ص ٦٢	هي الانتقال من مكان إلى آخر داخل المنطقة أو الدولة نفسها. ص ٦٢

(و) اذكر النتيجة المترتبة على كل مما يلي :

- ١-الموقع المميز والموارد الطبيعية لمنطقة الخليج العربية. ص ٦٣
جذب الهجرات السكانية التي أصبحت نواة لنشأة الدول الحديثة وظهورها.
- ٢- الجفاف وقلة سقوط الأمطار في بعض مناطق شبه الجزيرة العربية. ص ٦٤
- صعوبة الزراعة ونفوق الماشية مما دفع الكثير من القبائل للهجرة نحو السواحل والواحات التي تتميز بظروف مناخية أفضل.

السؤال الأول : (الأسئلة الموضوعية) :-

(أ) أكمل العبارات التالية بما يناسبها :

- ١- الحرفة التي اعتمدت على نمو النباتات بعد موسم سقوط الأمطار تسمى (الرعي). ص ٨٠
- ٢- الحيوانات التي يستفاد منها في صناعة الدهن العداني تسمى (الأغنام). ص ٨٠
- ٣- المنظمة التي أدرجت مهارات النسيج التقليدي للسدو في دولة الكويت في قائمة التراث الثقافي تسمى (اليونسكو). ص ٨٤
- ٤- المنتج الذي يعتبر الأكثر استيراداً في تجارة منطقة دول الخليج العربية (القماش). ص ٨٦
- ٥- المسطح المائي الذي تطل عليه دولة الكويت (الخليج العربي). ص ٨٧
- ٦- أفضل أنواع الخشب لصناعة السنف يسمى (الساج). ص ٨٩
- ٧- أقدم المهن في منطقة الخليج العربية (صيد الأسماك). ص ٩٠
- ٨- الشهر الذي يبدأ فيه موسم الغوص على اللؤلؤ مع بداية فصل الصيف (يونيو). ص ٩١
- ٩- الشهر الذي ينتهي فيه موسم الغوص على اللؤلؤ بقدوم شهر الخريف (سبتمبر). ص ٩١
- ١٠- الاسم الذي يطلق على الرحلة القصيرة التي تسبق رحلة الغوص الكبير لاستكشاف أماكن الغوص (الخانجية). ص ٩١
- ١١- يطلق على صانع السفينة اسم (القلاف). ص ٨٩

(ب) اكتب المفهوم أو المصطلح الدال على كل عبارة مما يلي :

م	المفهوم أو المصطلح	العبارة
١	الصمّيل	أداة تستخدم لترويب الحليب و صناعة الدهن العداني. ص ٨٠
٢	الوداع	نوع من أنواع الرعي حيث يقوم أصحاب الأغنام على إيداع أغنامهم عنده لرعايتها والعناية بها مقابل مبلغ معين من المال أو عدد معين من الأغنام. ص ٨١
٣	المزوية	البشت رخيص الثمن. ص ٨٤
٤	عملية حياكة السدو	لف الخيوط حول المغزل بعد جز الأصواف. ص ٨٤
٥	المسابقة	الاسم القديم للتجارة البرية في دولة الكويت حيث يأتي تجار البادية من نجد ويشتررون البضائع من تجارها في الكويت ويأجلون دفع ثمنها إلى السنة اللاحقة بعد . ص ٨٦
٦	الورجية	سفينة صغيرة تصنع من جريد النخيل السميك. ص ٨٩
٧	طاقم السفينة	مجموعة أفراد لهم مهام معينة لرحلة الغوص على اللؤلؤ. ص ٩٢
٨	الطواش	تاجر اللؤلؤ. ص ٩٢
٩	المجدمي	رئيس البحارة. ص ٩٢
١٠	النهام	مطرب السفينة. ص ٩٢
١١	النوخذة	ربان السفينة. ص ٩٢

(ج) ١- صنف البضائع المستوردة والمصدرة في منطقة الخليج العربية حسب مكانها الصحيح في الجدول:

(السكر – اللؤلؤ – القماش – التمر) ص ٨٦

البضائع المستوردة	البضائع المصدرة
السكر - القماش	التمر - اللؤلؤ

(د) أكمل المخططات السهمية التالية بما يناسبها:

١- أسماء الحيوانات التي مارس رعيها سكان منطقة الخليج العربية. ص ٨٠

الأبل

الماعز

الأغنام

٢- وسائل صيد الأسماك القديمة في منطقة الخليج العربية. ص ٩٠

القرقرور

الميدار

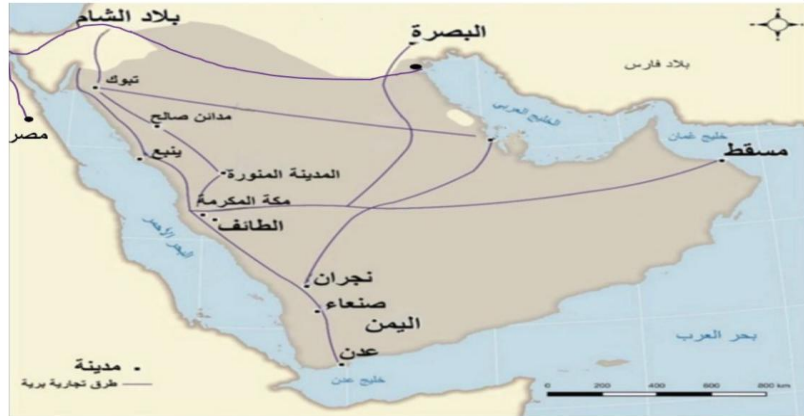
الحظرة

(هـ) لاحظ خريطة دول منطقة الخليج العربية ثم حدد المطلوب عليها:

١- طرق التجارة البرية والبحرية قديماً في منطقة الخليج العربية. ص ٨٨



٢- طرق التجارة البرية قديماً في منطقة الخليج العربية. ص ٨٧



٣- طرق التجارة البحرية قديماً في منطقة الخليج العربية. ص ٨٨



السؤال الثاني: (الأسئلة المقالية) :-

(أ) عرف ما يلي :

- ١-الواحات: المناطق التي تقع في الصحراء ويكون فيها مياه عذبة صالحة للزراعة. ص ٨١
- ٢-المياه الجوفية: المياه التي توجد في باطن الأرض. ص ٨١
- ٣-النتابة(التياب): الصببة الذين يقومون بمناولة المياه وغير ذلك من طلبات الغاصة. ص ٩٢
- ٤-الرضيف: مساعد البحارة و يقوم بالأعمال البسيطة. ص ٩٢
- ٥-السيب: يسحب الغاصة من أعماق البحر. ص ٩٢
- ٦-الغيص: بحار يغوص في أعماق البحر بحثاً عن اللؤلؤ. ص ٩٢

(ب) فرق بين كل مما يلي من حيث (التعريف):

موسم الدشة	موسم القفال
موسم بداية الغوص على اللؤلؤ ويبدأ مع بداية فصل الصيف شهر يونيو	موسم نهاية الغوص على اللؤلؤ وينتهي بقدوم موسم الخريف شهر سبتمبر

الواحات	المياه الجوفية
المناطق التي تقع في الصحراء ويكون فيها مياه عذبة صالحة للزراعة. ص ٨١	المياه التي توجد في باطن الأرض. ص ٨١

النوخذة	المجدي
ربان السفينة. ص ٩٢	رئيس البحارة. ص ٩٢

(ج) علل ما يلي :

- ١-أهمية تربية الابل وفوائدها لسكان منطقة الخليج العربية. ص ٨٠
- الحصول منها على الحليب واللحم والوبر.
- مهمة في نقل البضائع والسفر إلى مسافات بعيدة.
- ٢-يعتبر القماش من البضائع الأكثر استيراداً في منطقة دول الخليج العربية. ص ٨٦
- لأنه يستخدم لخياطة الثياب وصناعة أشعة السفن
- ٣-يعتبر خشب الساج من أفضل أنواع الخشب المستوردة من الهند. ص ٨٩
- لأنه مقاوم جيد للحرارة والرطوبة.
- ٤-انصراف سكان منطقة الخليج العربية عن حرفة الغوص على اللؤلؤ. ص ٩١
- بسبب ظهور النفط
- اكتشاف اللؤلؤ الطبيعي.

(د) اكتب عما يلي:

١- أنواع المحاصيل الزراعية التي أنتجها سكان منطقة الخليج العربية. ص ٨١
-التمور.
-الخضروات الورقية.

٢- أسماء المهن والحرف اليدوية قديماً في منطقة الخليج العربية. ص ٨٣
-حرفة القفاص.
-حرفة النجار.
-حرفة الخواص.
-حرفة النداف.
-حرفة التناك.
-حرفة الحداد.

٣- الصادرات من البضائع التي تصدرها دول الخليج العربية. ص ٨٦
-الصوف
-التمور
-اللؤلؤ

٤- الواردات من البضائع التي تستوردها دول الخليج العربية. ص ٨٦
-القماش.
-الأرز.
-السكر.
-التوابل.

٥- طرق التجارة البرية قديماً لمنطقة الخليج العربية. ص ٨٧
-طرق العراق.
-طرق مصر.
-بلاد الشام.
-اليمن


٦- مناطق التجارة البحرية لسكان منطقة الخليج العربية. ص ٨٨
-الهند.
-اليمن.
-شرق أفريقيا.

٧- أسماء أشهر أنواع السفن في منطقة الخليج العربية. ص ٨٩
-البغلة.
-اليوم.
-الجالبوت.
-الشوعي.

٨- أفراد طاقم سفينة الغوص على اللؤلؤ. ص ٩٢
-التياب.
-النوخة.
-المجدي.
-الرضيف.
-الغبيص.
-النهام.
-السيب.

٩- جهود دولة الكويت للمحافظة على التراث البحري وحرفة الغوص على اللؤلؤ. ص ٩٣
-إحياء هذا التراث من خلال إحياء مهرجان الغوص السنوي.
-طلب تسجيل مهنة الغوص موروثاً غير مادي في منظمة اليونسكو.

(و) ضع عنوان مناسب لما تمثله كل صورة مما يلي :



الشكل (٣٤) رعي الحيوانات



شكل (٣٧) منتجات زراعية



شكل (٣٦) راعي الأغنام



شكل (٣٥) الترويب بالصميل



شكل (٤٥) غزل وحياكة السدو



شكل (٤٨) صانع السفينة




شكل (٣٨) الواحة



شكل (٤١) حرفة النجار




شكل (٤٠) حرفة الخواص




شكل (٣٩) حرفة القفاص




شكل (٤٤) حرفة الحداد



شكل (٤٣) حرفة التناك



شكل (٤٢) حرفة النداف



دور المرأة قديماً في موسم الغوص



شكل (٥٠) الطواش - النهام



شكل (٤٩) القرقور

انتهى بنك الأسئلة ،،، مع تمنياتنا لكم بالتوفيق والنجاح