




Kasım Ara Tatil Değerlendirme

1-) Aşağıdaki hayvanlardan hangisinin ismi alfabemizin 14.harfi ile başlamaktadır?



2-)Aşağıdaki kelimelerin hangisinde ünlü harf sayısı diğerlerinden daha fazladır?

- A) Meraklılık
B) Kalemlik
C) Acelecilik

3-)Yanda resmi verilen nesnenin ismi ile ilgili aşağıdakilerden hangisi yanlıştır?



- A) Sözlükte "Şaşkın" kelimesinden sonra gelir.
B) 3 heceden oluşmaktadır.
C) 4 farklı sesli harf içerir.

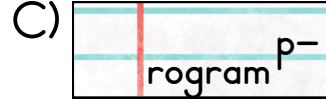
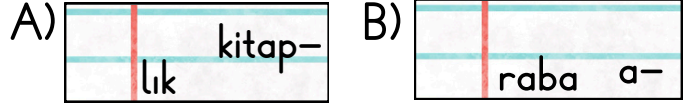
4-) Aşağıdaki kelimelerden hangisi hecelerine hatalı biçimde ayrılmıştır?

- A) sağ - lık - lı
B) ilk - ok - ul
C) ta - nı - dik

5-) Aşağıdaki cümlelerin hangisinde "Dost" kelimesinin zıt anlamlısı kullanılmıştır?

- A) Benim arkadaşım çok çalışkandır.
B) Okul bahçesinde yere düştü.
C) Onunla düşman olmak istemiyorum.

6-) Satır sonuna sığmayan sözcüklerin hangisinde hata yapılmıştır?



Yeni bir buluş ortaya koyan, icat eden kimse.



7-) Yukarıda sözlük anlamı verilen kelime aşağıdakilerden hangisidir?

- A) Mucit
B) Doktor
C) Muallim

8-) Aşağıdaki cümlelerin hangisinde yazım yanlışı yapılmış bir kelime vardır?

- A) Yemeklere sarımsak koymayı severim.
B) Okulda kalörferleri yakmışlardı.
C) Eczaneye gitmesi gerekiyormuş.

9) Aşağıdaki kelimelerin hangisi eş sesli bir kelime değildir?


- A) Gül B)Yüz C) Ev

10) Aşağıdaki cümlelerden hangisinde "Hatıra" sözcüğünün eş anlamlısı kullanılmıştır?

- A) Okula ancak yetişmişti.
B) Onun hakkında konuşmamalıyız.
C) Öğretmenlik anılarını hatırlamıştı.

11-) "637" sayısının okunuşu hangi seçenekte doğru olarak verilmiştir?

- A) Altı yüz otuz
B) Altı yüz on yedi
C) Altı yüz otuz bir



12-) 5 sayısından başlayıp ileriye doğru yüzer ritmik sayarken aşağıdaki sayılardan hangisi söylenmez?

- A) Altı yüz beş
B) Beş yüz on beş
C) Yedi yüz beş

13-) "564" sayısının onlar basamağındaki rakamın basamak değeri kaçtır?

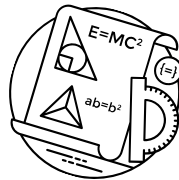
- A) 500
B) 60
C) 4

14-) $446 < ? < 450 < 467$ sıralamasında soru işareti yerine hangisi getirilemez?

- A) 447
B) 449
C) 452

15-) Aşağıdaki sayılardan hangisinin en yakın onluğu diğerlerinden farklıdır?


- A) 805
B) 795
C) 803




16-) Üç basamaklı en küçük çift ve üç basamaklı en küçük tek doğal sayının toplamı kaçtır?

- A) 201 B) 200 C) 198

17-) Aşağıdaki çocuklardan hangisi ileriye doğru altışar ritmik sayma yapma yapmıştır?

A)  21-28-35-42-49

B)  30-36-42-48-54

C)  6-8-10-12-14

18-) Aşağıda görseli verilen Romen rakamının sayı olarak karşılığı hangi seçenekte verilmiştir?

IX

- A) 8
B) 9
C) 11

1	497	2	771	3	626
	-228		-338		-189
	<u>269</u>		<u>433</u>		<u>427</u>

19-) Yukarıdaki çıkarma işlemlerinin hangisinde yanlışlık yapılmıştır?

- A) 1 B) 2 C) 3

20-) Bir çiftlikte 79 inek ve ineklerden 65 fazla horoz vardır. Horozlar ise tavuklardan 25 fazladır.

Buna göre çiftlikte toplam kaç hayvan vardır?

- A) 342
B) 344
C) 345