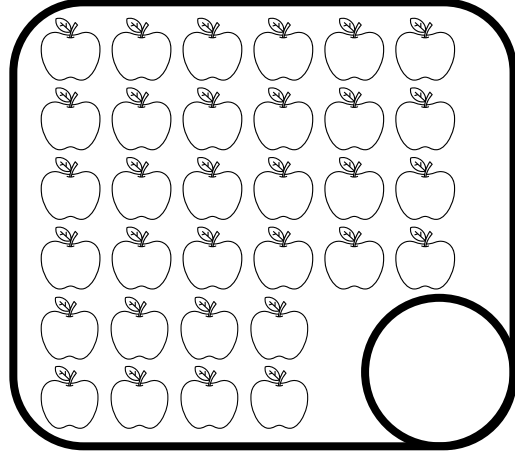



# Kasım Ara Tatil Değerlendirme

★Aşağıdaki nesnelerin sayılarını yuvarlaklara yazalım.



★Onluk ve birlikleri verilen sayıları yazalım.

$$5 \text{ onluk} + 1 \text{ birlik} = \dots\dots\dots 7 \text{ onluk} + 3 \text{ birlik} = \dots\dots\dots$$

$$3 \text{ onluk} + 8 \text{ birlik} = \dots\dots\dots 3 \text{ onluk} + 8 \text{ birlik} = \dots\dots\dots$$

★Sayıları onluk ve birliklerine ayıralım.

$$53 \dots\dots\dots$$

$$49 \dots\dots\dots$$

$$66 \dots\dots\dots$$

$$74 \dots\dots\dots$$

★İstenen sayıları bulup altındaki bulutların içine yazalım.

2 düzine

1 deste

2 desteden 1 eksik

2 düzineden 2 fazla



★Aşağıdaki sayıların basamak adlarını yazalım.

74

19

27

★Aşağıdaki sayıların basamak değerlerini yazalım.


85	_____
_____	_____

43	_____
_____	_____

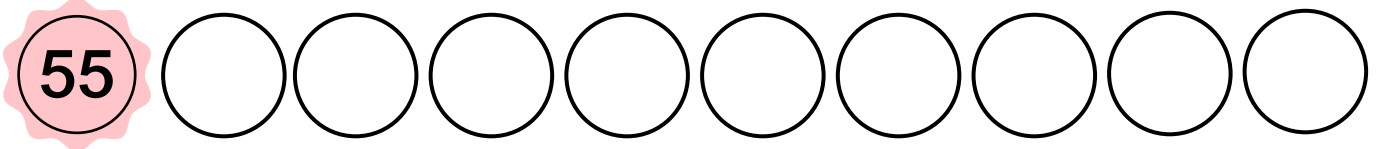
60	_____
_____	_____

39	_____
_____	_____



★ Verilen sayıdan başlayıp ileriye doğru ikişer ritmik sayarak yazalım.



★ Verilen sayıdan başlayıp geriye doğru beşer ritmik sayarak yazalım.



★Aşağıdaki örüntülerin kuralını bulup verilmeyen sayıları yazalım.



★Aşağıdaki sayıları büyükten küçüğe doğru sıralayın.

68	17	84	51
.....			

39	41	28	36
.....			

★Verilen sayıları en yakın onluğa yuvarlayalım.

13	□	34	□	72	□	68	□
----	---	----	---	----	---	----	---

★Aşağıdaki toplama ve çıkarma işlemlerini yapalım.

$$\begin{array}{r} 48 \\ + 18 \\ \hline \end{array}$$

$$\begin{array}{r} 71 \\ - 20 \\ \hline \end{array}$$

$$\begin{array}{r} 29 \\ + 36 \\ \hline \end{array}$$

$$\begin{array}{r} 45 \\ - 8 \\ \hline \end{array}$$

$$\begin{array}{r} 34 \\ + 27 \\ \hline \end{array}$$

$$\begin{array}{r} 83 \\ - 49 \\ \hline \end{array}$$

# Kasım Ara Tatil Değerlendirme

★ Alfabemizdeki harflerden eksik olanları yazalım.

A \_\_\_\_\_ Ç \_\_\_\_\_ G \_\_\_\_\_ I \_\_\_\_\_  
 J \_\_\_\_\_ L \_\_\_\_\_ O \_\_\_\_\_ P \_\_\_\_\_  
 U \_\_\_\_\_ Y \_\_\_\_\_

★ Kelimeleri sözlük anlamlarıyla eşleştirelim.

Kitap

Bir konu ya da iş konusunda öğrenilen ya da öğretilen şeyler.

Fidan

Basım evinde basılıp kapak geçirilmiş kâğıt yapraklardan oluşan ve okumakta yararlanan nesne.

Bilgi

Ağaç ya da ağaççıkların en genç durumda olanı, yeni yetişeni.

★ Aşağıdaki kelimelerin zıt anlamlılarını karşısına yazalım.

Genç

Barış

Güney

★ Aşağıdaki kelimelerin eş anlamlılarını karşısına yazalım.

Fakir

Doktor

Hediye

★ Aşağıdaki kelimeleri alfabetik sıraya göre kutucuklara yazalım.

düzine deste demlik düdük

1

2

3

4

★ Aşağıdaki kelimeleri hecelerine ayırarak yazınız.

hastane .....

mevsim .....

arkadaşlık .....

★ Karışık verilen kelimelerden anlamlı ve kurallı cümleler yazınız.

içerim

mutlaka

kahvaltıda

süt

seviyor

öğretmen

çok

bütün

öğrencilerini

★ Cümlelerin sonuna uygun noktalama işaretlerini koyunuz.

Eyvah, elim yandı( )

Parka gidelim mi( )

Kitabımı evde unutmuşum( )

Sağlıklı beslenmeliyiz( )

★ Tatilini anlatan kısa bir metin yaz.

# Kasım Ara Tatil Değerlendirme

★ Fiziksel özellik ve kişisel özellikleri doğru yerin altına yaz.

saç rengi hoşlandıklarımız yapabildiklerimiz kilomuz

\* Fiziksel Özellik \*

\* Kişisel Özellik \*

.....  
.....

.....  
.....

★ Matematik dersinin olduğu gün çantamıza aşağıdakilerden hangisini almalıyız? İşaretle.

Sulu boya

Cetvel

Çizgili Defter

★ Aşağıda verilen cümlelerden doğru olanların yanına 😊 yanlış olanların yanına ☹️ çiziniz.

Oyun oynarken kurallara uymalıyız.

Sınıfımızı temiz tutmak bizim sorumlüğümüz değildir.

Fikirlerimizi herkes kabul etmelidir.

Çantamızı ders programına uygun hazırlamalıyız.

★ Nezaket ifadesi olanları işaretleyin.

Sanane!

Hoşgeldiniz!

Teşekkür ederim.

Onu bana ver!

Tebrik ederim.